
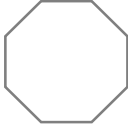
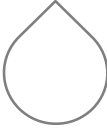




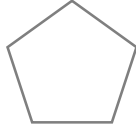
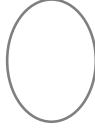

# 線対称・点対称





\_\_\_\_年 \_\_\_\_組 名前 \_\_\_\_\_

/24

■ 次の図形が線対称、点対称な図形であるかをそれぞれ考え、そうであれば「○」、違っていれば「×」を書きこみましょう。

図形		 正八角形		 平行四辺形
線対称				
点対称				

図形		 正五角形	 だ円	 正方形
線対称				
点対称				

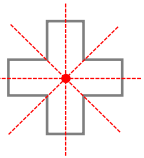
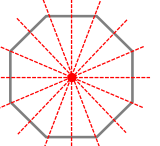
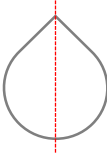
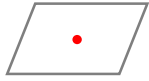
図形		 円	 正七角形	 長方形
線対称				
点対称				

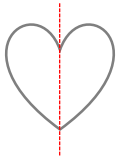
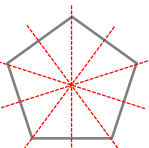
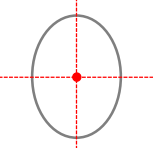
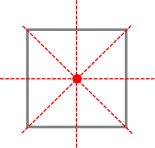
# 線対称・点対称

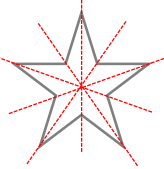

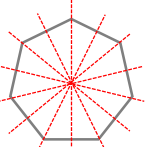
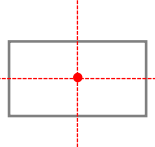
\_\_\_\_年 \_\_\_\_組 名前 \_\_\_\_\_

/24

■ 次の図形が線対称、点対称な図形であるかをそれぞれ考え、そうであれば「○」、違っていれば「×」を書きこみましょう。

図形		 正八角形		 平行四辺形
線対称	○	○	○	×
点対称	○	○	×	○

図形		 正五角形	 だ円	 正方形
線対称	○	○	○	○
点対称	×	×	○	○

図形		 円	 正七角形	 長方形
線対称	○	○	○	○
点対称	×	○	×	○