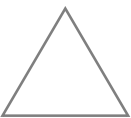
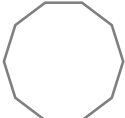






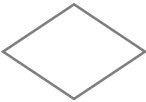

線対称・点対称





年 組 名前

/24

■ 次の図形が線対称、点対称な図形であるかをそれぞれ考え、そうであれば「○」、違っていれば「×」を書きこみましょう。

| 図形 |  正三角形 |  正十角形 |  だ円 |  |
|-----|---|---|--|---|
| 線対称 | | | | |
| 点対称 | | | | |

| 図形 |  |  平行四辺形 |  ひし形 |  |
|-----|---|--|---|---|
| 線対称 | | | | |
| 点対称 | | | | |

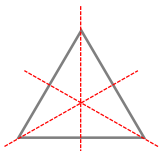
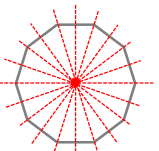
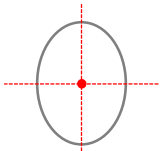
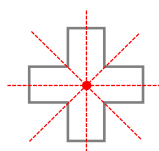
| 図形 |  |  円 |  正七角形 |  正六角形 |
|-----|---|--|--|---|
| 線対称 | | | | |
| 点対称 | | | | |

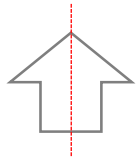
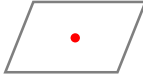
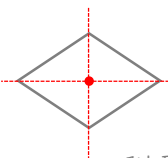
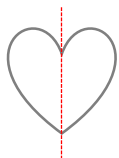
線対称・点対称

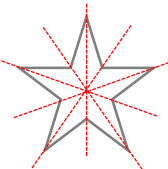

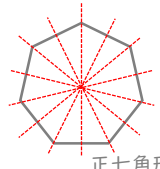
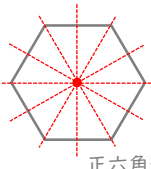
年 組 名前

/24

■ 次の図形が線対称、点対称な図形であるかをそれぞれ考え、そうであれば「○」、違っていれ
ば「×」を書きこみましょう。

| 図形 |  正三角形 |  正十角形 |  だ円 |  |
|-----|---|---|--|---|
| 線対称 | ○ | ○ | ○ | ○ |
| 点対称 | × | ○ | ○ | ○ |

| 図形 |  |  平行四辺形 |  ひし形 |  |
|-----|---|--|---|---|
| 線対称 | ○ | × | ○ | ○ |
| 点対称 | × | ○ | ○ | × |

| 図形 |  |  円 |  正七角形 |  正六角形 |
|-----|---|--|--|---|
| 線対称 | ○ | ○ | ○ | ○ |
| 点対称 | × | ○ | × | ○ |