














もののいち

ねん くみ

なまえ

/ 3

■ ただしい かたちの したに まる(○) を つけましよう。

①




から ひだりに 4つ すすんだ ところにある かたち




()



()



()



()




()

②



から うえに 1つ、ひだりに 3つ すすんだ ところにある かたち



()



()



()



()




()


③



から したに 1つ、みぎに 1つ すすんだ ところにある かたち



()



()



()



()



()


もののいち

ねん くみ

なまえ

/ 3

■ ただしいかたちのしたにまる(○)をつけましょう。



①




から ひだりに 4つ すすんだ ところにある かたち




(○)



()



()



()




()

②



から うえに 1つ、ひだりに 3つ すすんだ ところにある かたち



()




()



(○)



()




()


③



から したに 1つ、みぎに 1つ すすんだ ところにある かたち



()



()



()



(○)



()