

# 基本の作図

年 組 名前


/ 6

■ 次の作図をなさい。

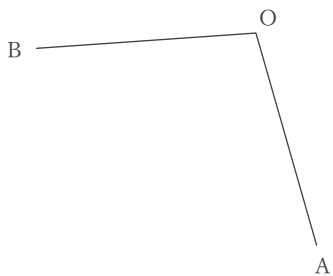
① 2点A, Bから等しい距離にある直線



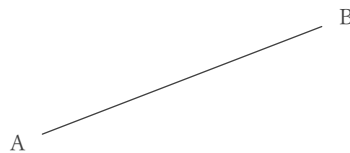
② 点Oから線分ABにおろした垂線



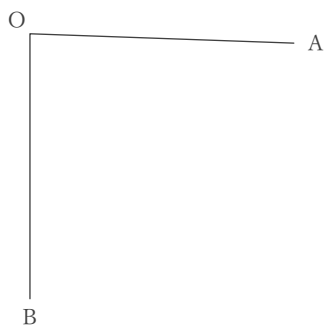
③  $\angle AOB$ の二等分線



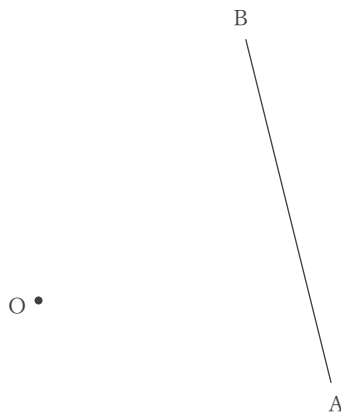
④ 線分ABの垂直二等分線



⑤  $\angle AOB$ の二等分線



⑥ 点Oから線分ABにおろした垂線



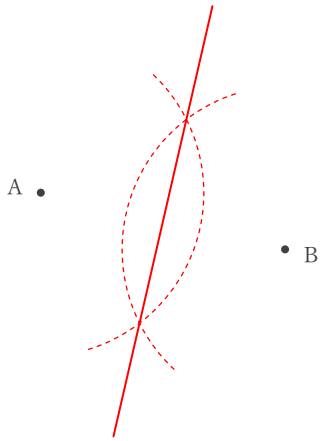
# 基本の作図

年 組 名前

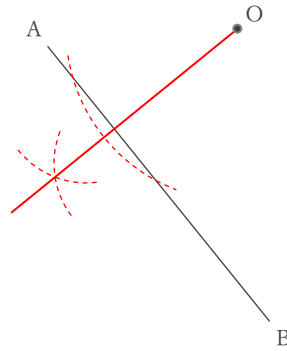
/ 6

■ 次の作図をしなさい。

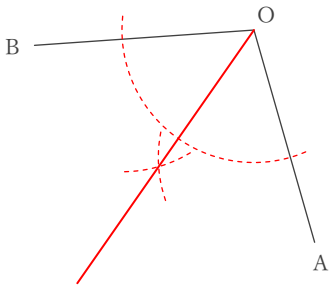
① 2点A, Bから等しい距離にある直線



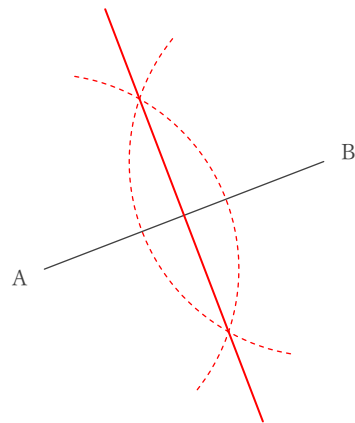
② 点Oから線分ABにおろした垂線



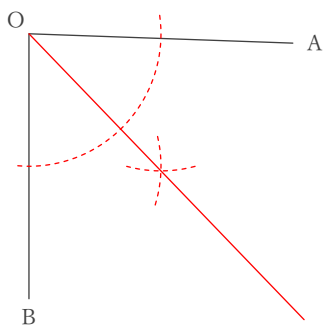
③  $\angle AOB$ の二等分線



④ 線分ABの垂直二等分線



⑤  $\angle AOB$ の二等分線



⑥ 点Oから線分ABにおろした垂線

