

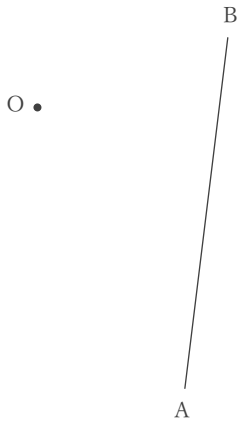
# 基本の作図

年 組 名前

/ 6

■ 次の作図をなさい。

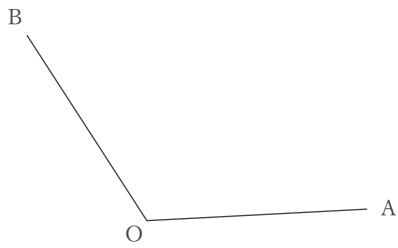
① 点Oから線分ABにおろした垂線



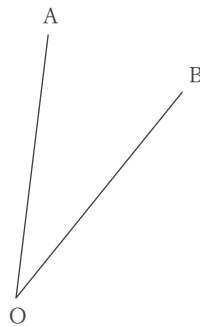
② 2点A, Bから等しい距離にある直線



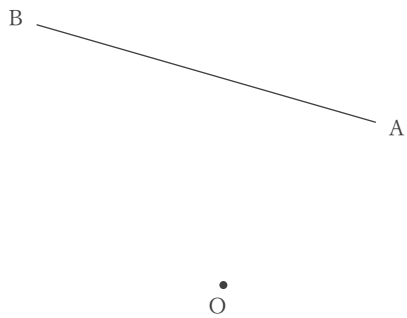
③  $\angle AOB$ の二等分線



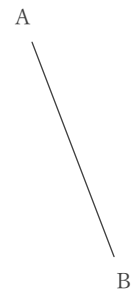
④  $\angle AOB$ の二等分線



⑤ 点Oから線分ABにおろした垂線



⑥ 線分ABの垂直二等分線



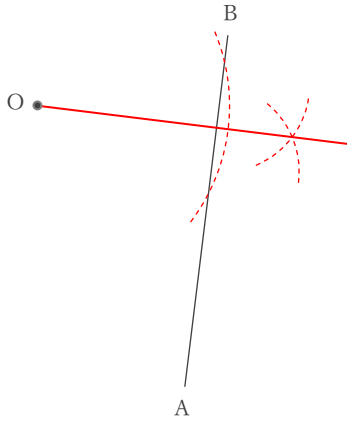
# 基本の作図

年 組 名前

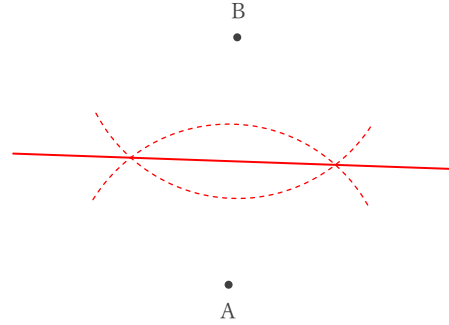
/ 6

■ 次の作図をなさい。

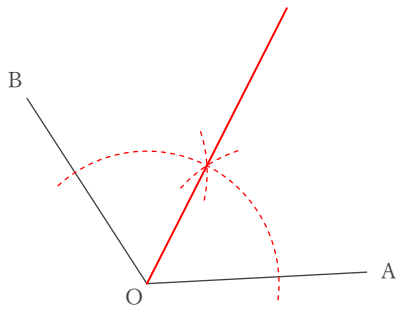
① 点Oから線分ABにおろした垂線



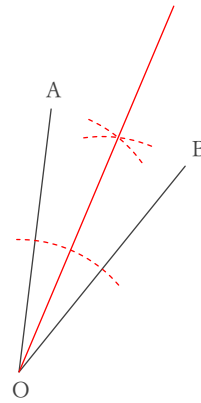
② 2点A, Bから等しい距離にある直線



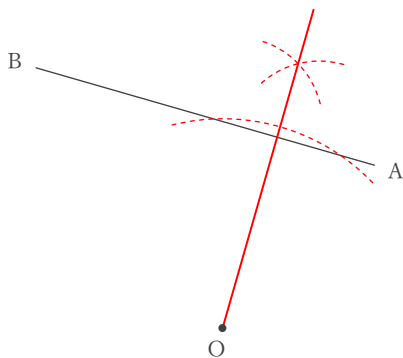
③  $\angle AOB$ の二等分線



④  $\angle AOB$ の二等分線



⑤ 点Oから線分ABにおろした垂線



⑥ 線分ABの垂直二等分線

