

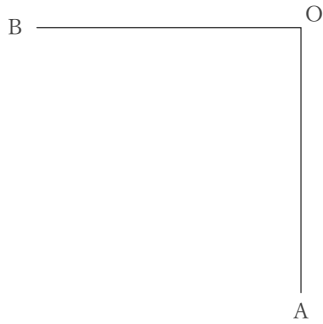
基本の作図

年 組 名前

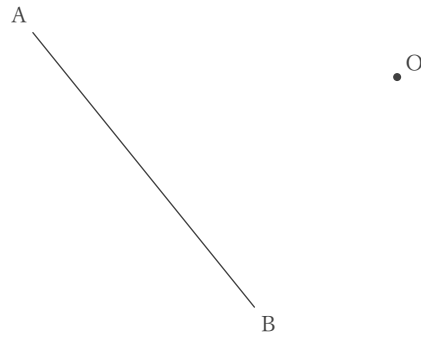
/ 6

■ 次の作図をなさい。

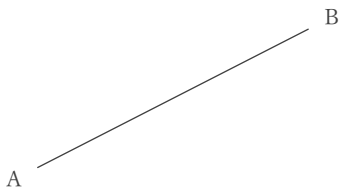
① $\angle AOB$ の二等分線



② 点Oから線分ABにおろした垂線



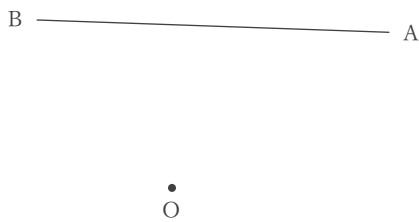
③ 線分ABの垂直二等分線



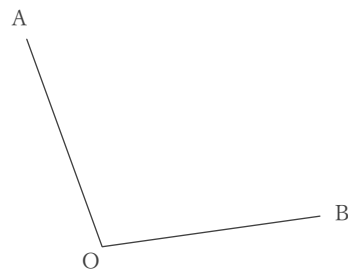
④ 2点A, Bから等しい距離にある直線



⑤ 点Oから線分ABにおろした垂線



⑥ $\angle AOB$ の二等分線



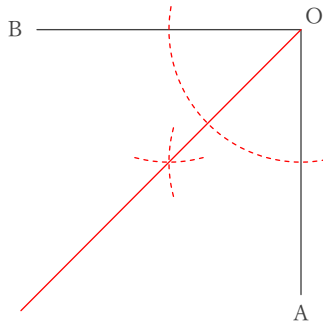
基本の作図

年 組 名前

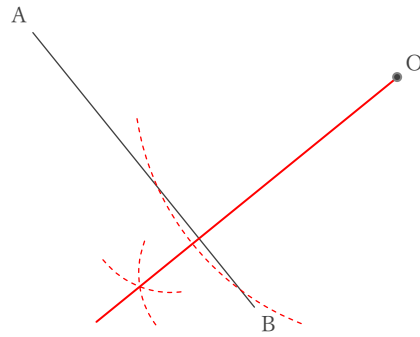
/ 6

■ 次の作図をなさい。

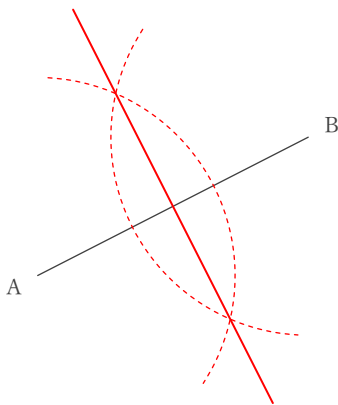
① $\angle AOB$ の二等分線



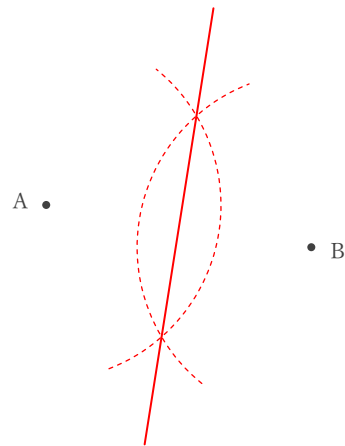
② 点Oから線分ABにおろした垂線



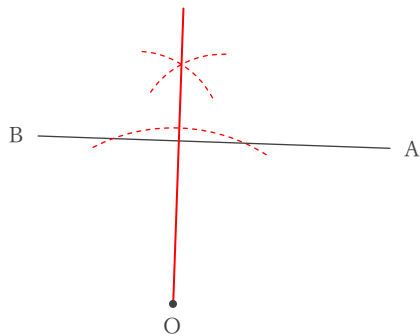
③ 線分ABの垂直二等分線



④ 2点A, Bから等しい距離にある直線



⑤ 点Oから線分ABにおろした垂線



⑥ $\angle AOB$ の二等分線

