

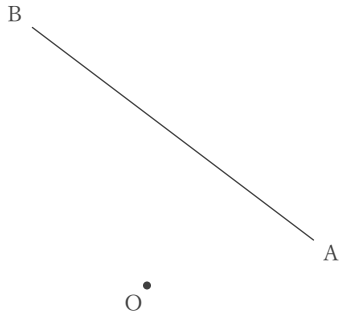
基本の作図

年 組 名前

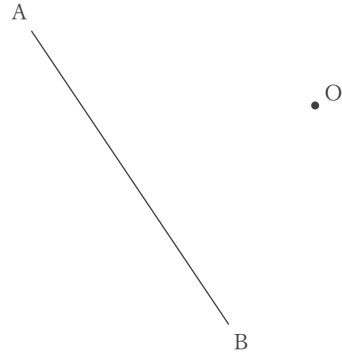
/ 6

■ 次の作図をなさい。

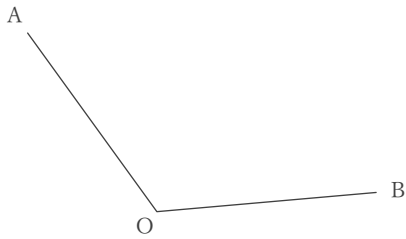
① 点Oから線分ABにおろした垂線



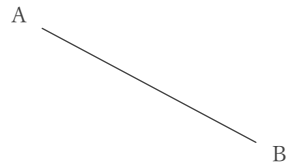
② 点Oから線分ABにおろした垂線



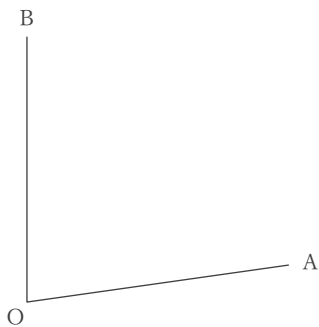
③ $\angle AOB$ の二等分線



④ 線分ABの垂直二等分線



⑤ $\angle AOB$ の二等分線



⑥ 2点A, Bから等しい距離にある直線



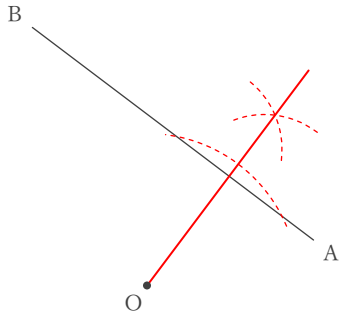
基本の作図

年 組 名前

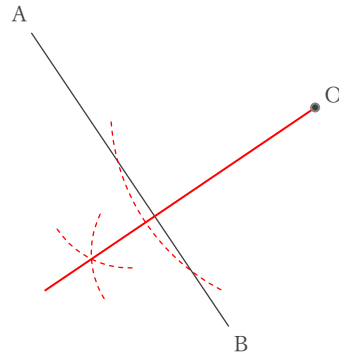
/ 6

■ 次の作図を下さい。

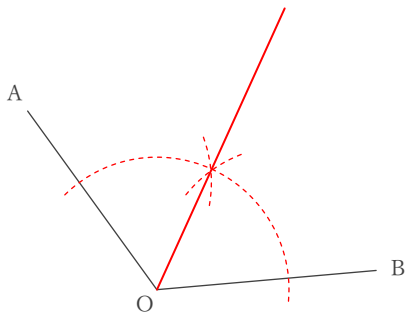
① 点Oから線分ABにおろした垂線



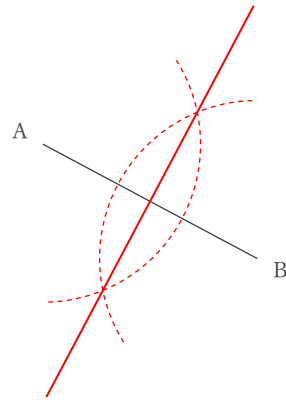
② 点Oから線分ABにおろした垂線



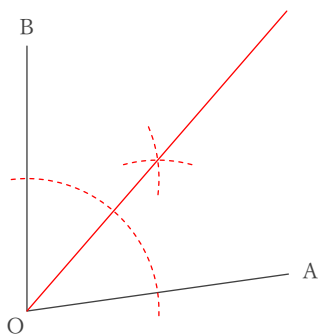
③ $\angle AOB$ の二等分線



④ 線分ABの垂直二等分線



⑤ $\angle AOB$ の二等分線



⑥ 2点A, Bから等しい距離にある直線

