


# 基本の作図

年 組 名前

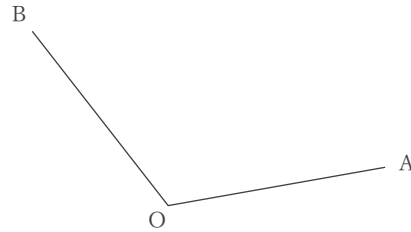
/ 6

■ 次の作図をなさい。

① 2点A, Bから等しい距離にある直線



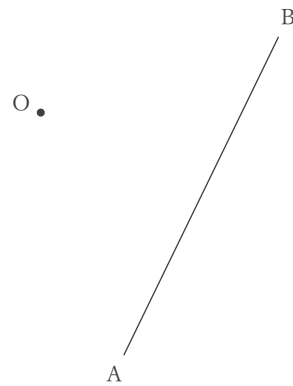
②  $\angle AOB$ の二等分線



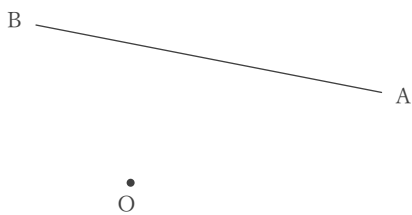
③ 線分ABの垂直二等分線



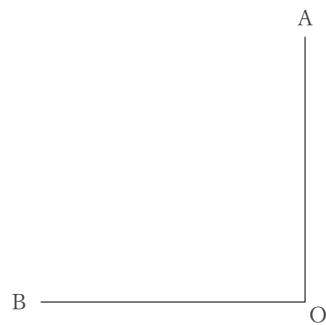
④ 点Oから線分ABにおろした垂線



⑤ 点Oから線分ABにおろした垂線



⑥  $\angle AOB$ の二等分線



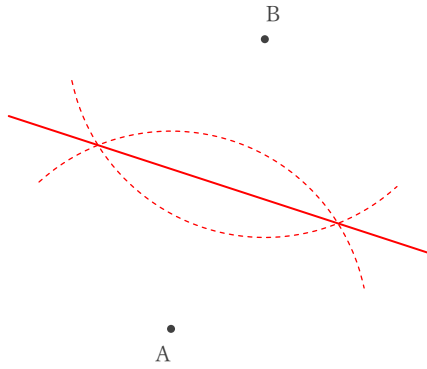
# 基本の作図

年 組 名前

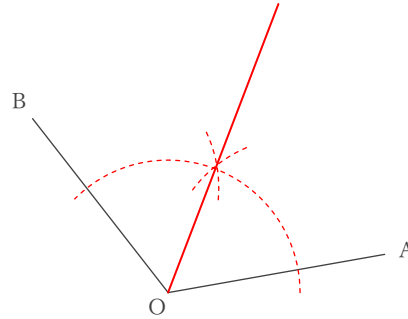
/ 6

■ 次の作図をなさい。

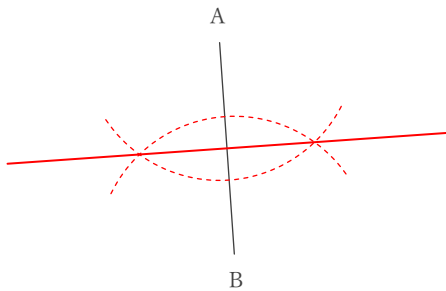
① 2点A, Bから等しい距離にある直線



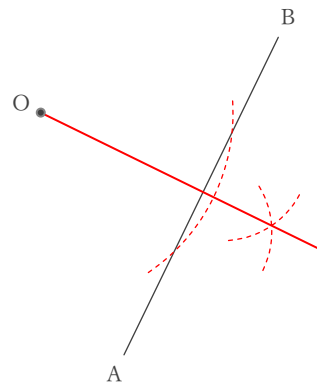
②  $\angle AOB$ の二等分線



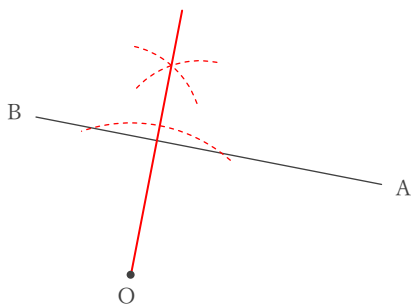
③ 線分ABの垂直二等分線



④ 点Oから線分ABにおろした垂線



⑤ 点Oから線分ABにおろした垂線



⑥  $\angle AOB$ の二等分線

