


# 基本の作図

年 組 名前

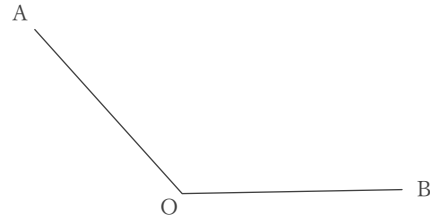
/ 6

■ 次の作図をなさい。

① 点Oから線分ABにおろした垂線



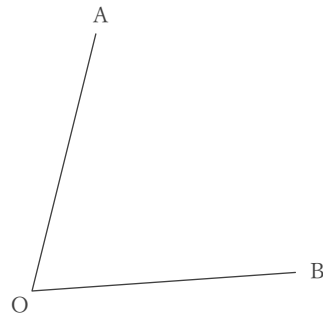
②  $\angle AOB$ の二等分線



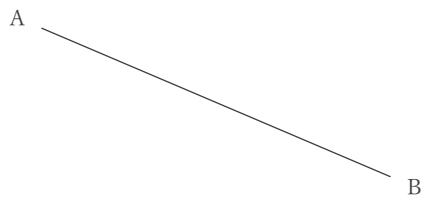
③ 2点A, Bから等しい距離にある直線



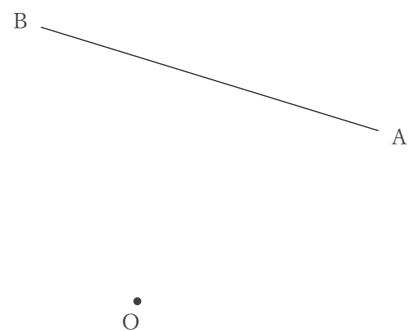
④  $\angle AOB$ の二等分線



⑤ 線分ABの垂直二等分線



⑥ 点Oから線分ABにおろした垂線



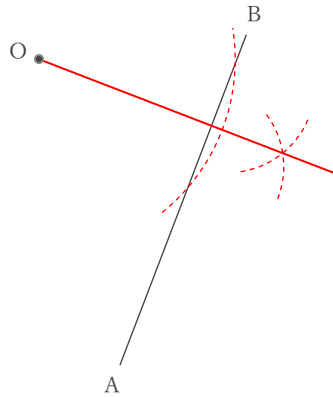
# 基本の作図

年 組 名前

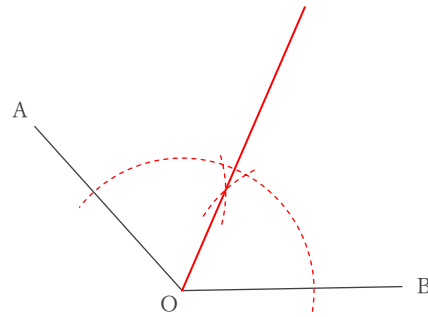
/ 6

■ 次の作図を下さい。

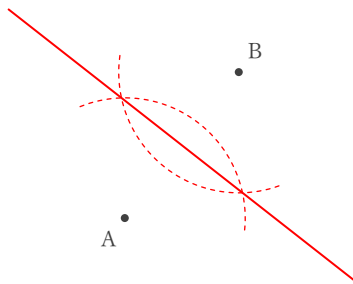
① 点Oから線分ABにおろした垂線



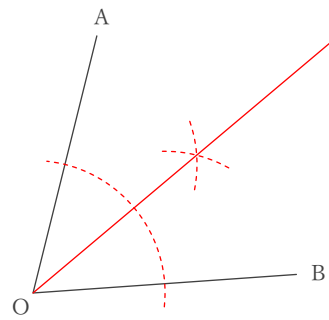
②  $\angle AOB$ の二等分線



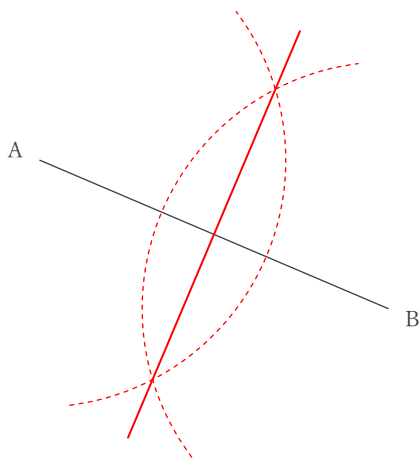
③ 2点A, Bから等しい距離にある直線



④  $\angle AOB$ の二等分線



⑤ 線分ABの垂直二等分線



⑥ 点Oから線分ABにおろした垂線

