

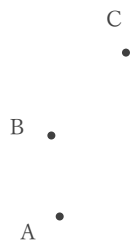
円に関する作図

____年 ____組 名前 _____

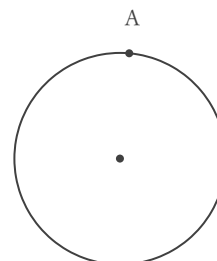
/ 6

■ 次の作図をなさい。


① 3点A, B, Cを通る円




② 点Aを通る円の接線



③ かかれた曲線を弧とする円全体



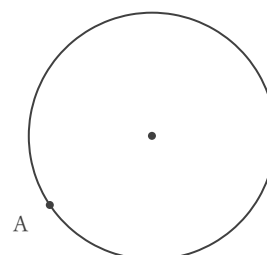
④ かかれた曲線を弧とする円全体



⑤ 3点A, B, Cを通る円



⑥ 点Aを通る円の接線



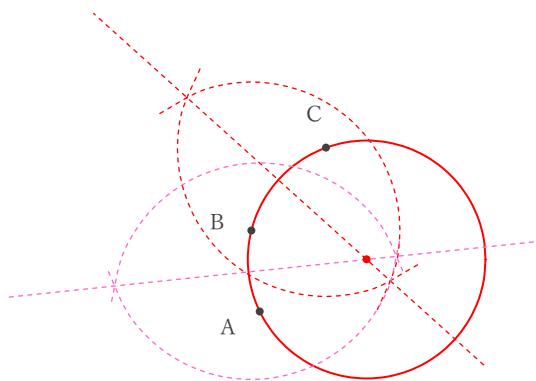
円に関する作図

年 組 名前

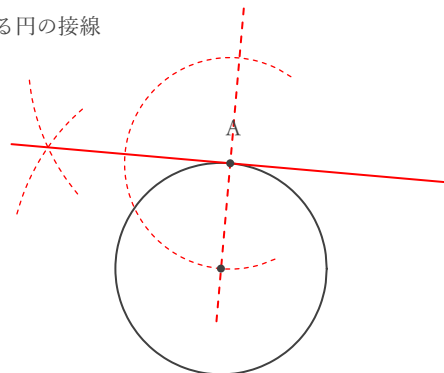
/ 6

■ 次の作図をしなさい。

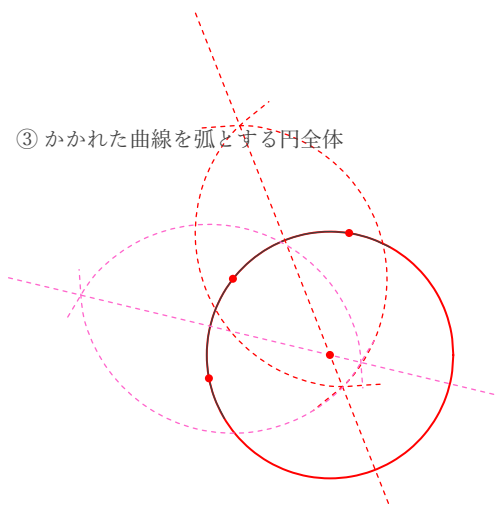
① 3点A, B, Cを通る円



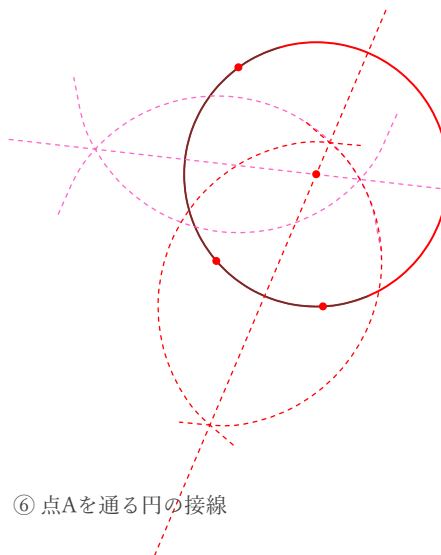
② 点Aを通る円の接線



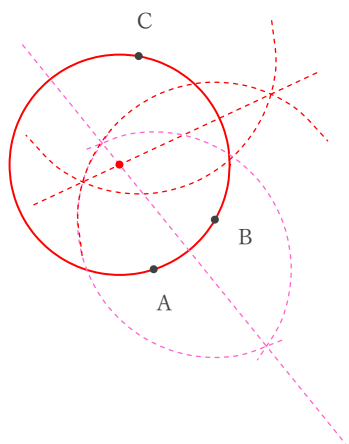
③ かかれた曲線を弧とする円全体



④ かかれた曲線を弧とする円全体



⑤ 3点A, B, Cを通る円



⑥ 点Aを通る円の接線

