

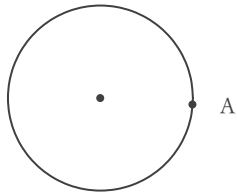
# 円に関する作図

年 組 名前

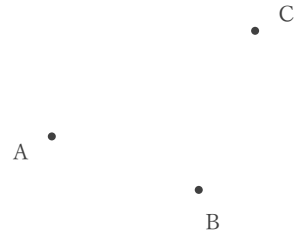
/ 6

■ 次の作図をしなさい。


① 点Aを通る円の接線



② 3点A, B, Cを通る円



③ かかれた曲線を弧とする円全体



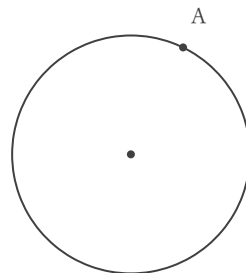
④ 3点A, B, Cを通る円



⑤ かかれた曲線を弧とする円全体



⑥ 点Aを通る円の接線



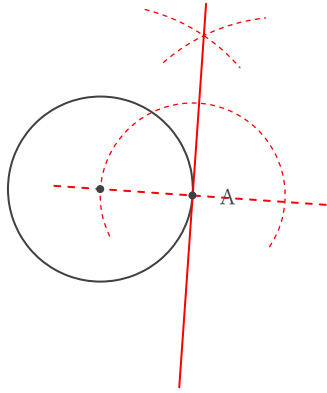
# 円に関する作図

年 組 名前

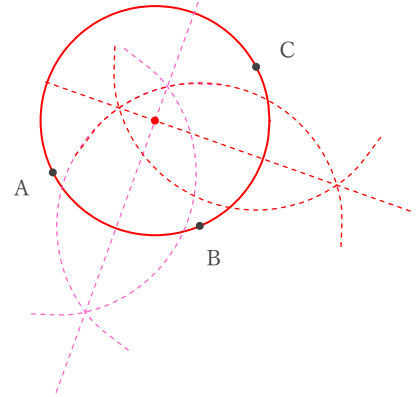
/ 6

■ 次の作図をしなさい。

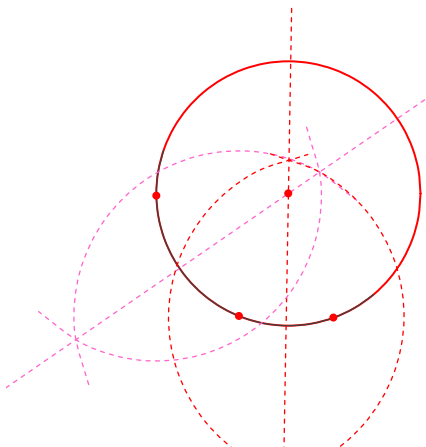
① 点Aを通る円の接線



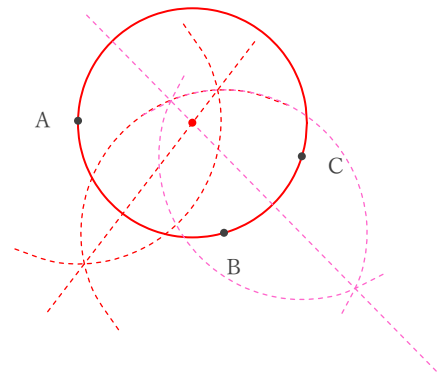
② 3点A, B, Cを通る円



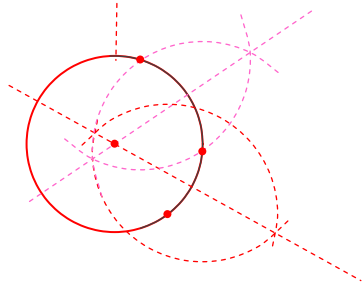
③ かかれた曲線を弧とする円全体



④ 3点A, B, Cを通る円



⑤ かかれた曲線を弧とする円全体



⑥ 点Aを通る円の接線

