

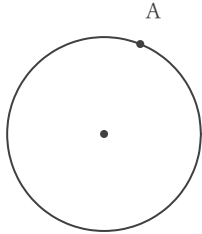
# 円に関する作図

年 組 名前


/ 6

■ 次の作図をしなさい。

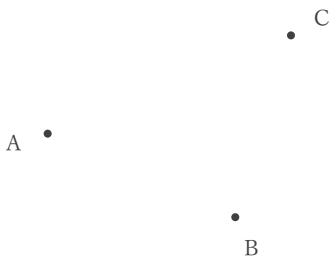
① 点Aを通る円の接線



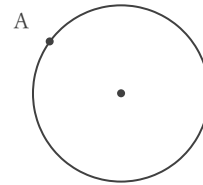
② かかれた曲線を弧とする円全体




③ 3点A, B, Cを通る円



④ 点Aを通る円の接線



⑤ かかれた曲線を弧とする円全体



⑥ 3点A, B, Cを通る円



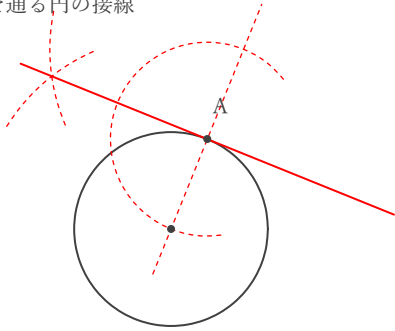
# 円に関する作図

年 組 名前

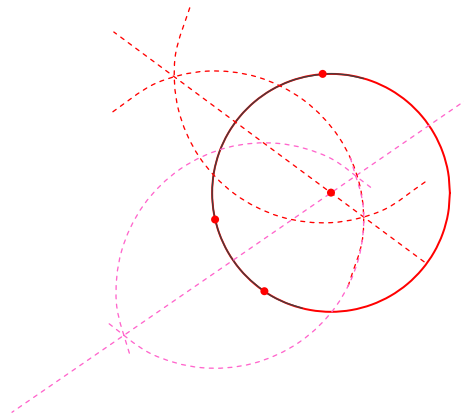
/ 6

■ 次の作図をしなさい。

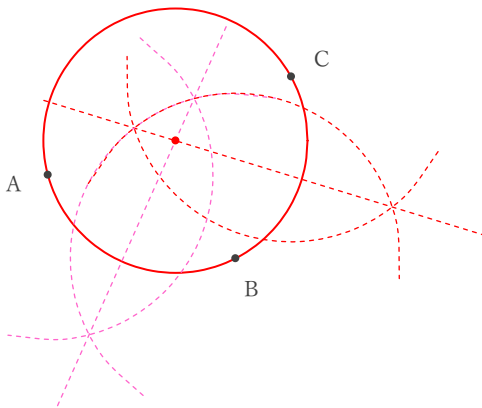
① 点Aを通る円の接線



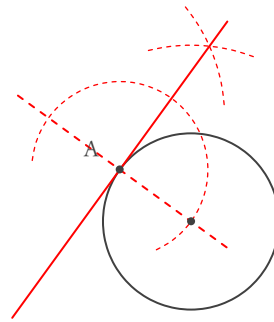
② かかれた曲線を弧とする円全体



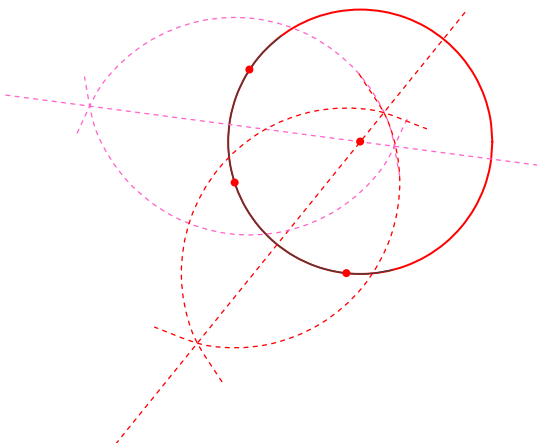
③ 3点A, B, Cを通る円



④ 点Aを通る円の接線



⑤ かかれた曲線を弧とする円全体



⑥ 3点A, B, Cを通る円

