

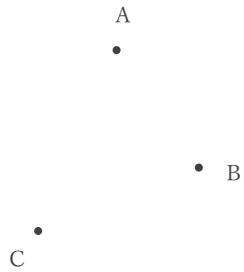
# 円に関する作図

年 組 名前

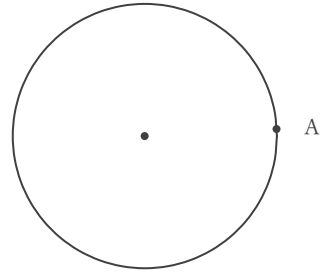
/ 6

■ 次の作図をなさい。

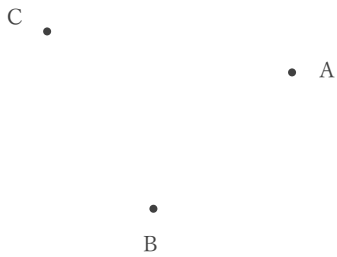
① 3点A, B, Cを通る円



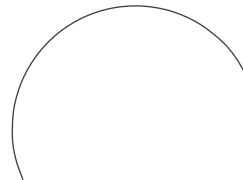
② 点Aを通る円の接線



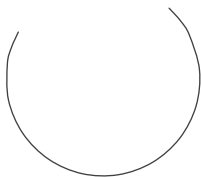
③ 3点A, B, Cを通る円



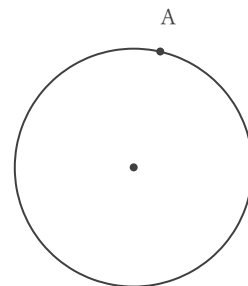
④ かかれた曲線を弧とする円全体



⑤ かかれた曲線を弧とする円全体



⑥ 点Aを通る円の接線



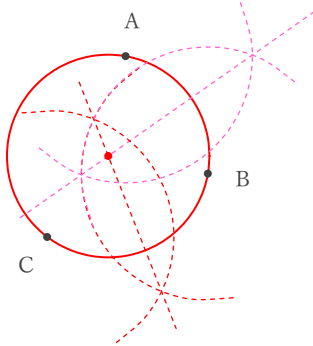
# 円に関する作図

年 組 名前

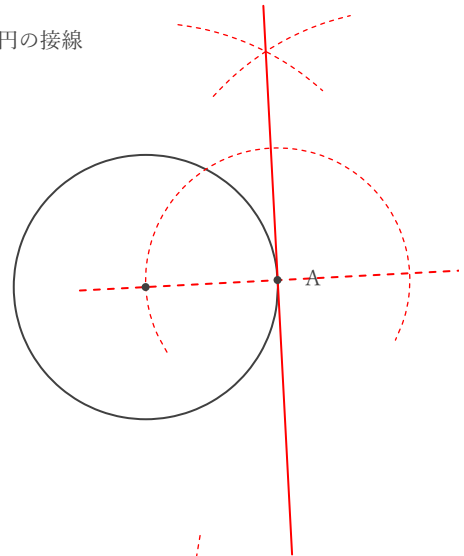
/ 6

■ 次の作図をしなさい。

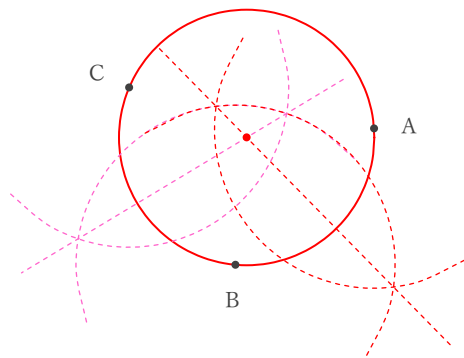
① 3点A, B, Cを通る円



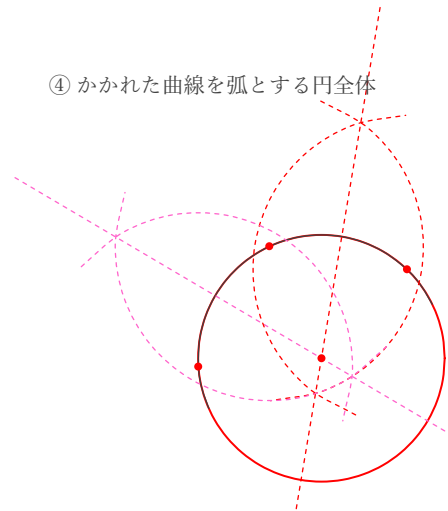
② 点Aを通る円の接線



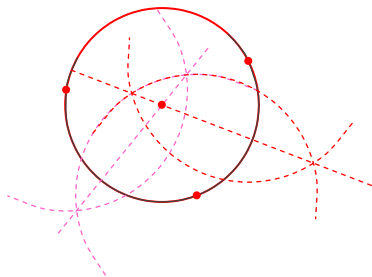
③ 3点A, B, Cを通る円



④ かかれた曲線を弧とする円全体



⑤ かかれた曲線を弧とする円全体



⑥ 点Aを通る円の接線

