


円に関する作図

____年 ____組 名前 _____


/ 6

■ 次の作図をなさい。

① 3点A, B, Cを通る円




② かかれた曲線を弧とする円全体



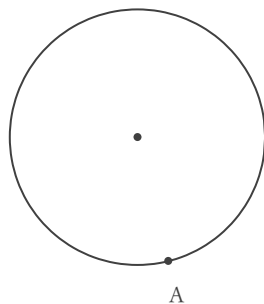
③ 3点A, B, Cを通る円



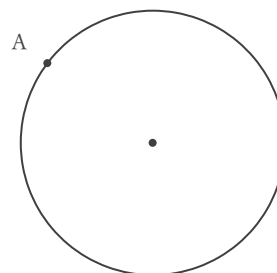
④ かかれた曲線を弧とする円全体



⑤ 点Aを通る円の接線



⑥ 点Aを通る円の接線



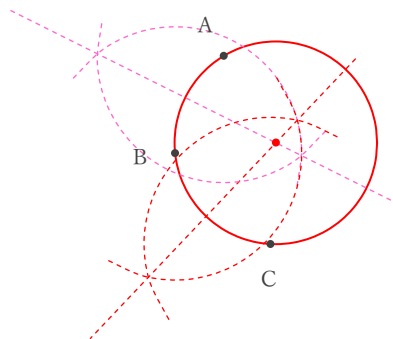
円に関する作図

年 組 名前

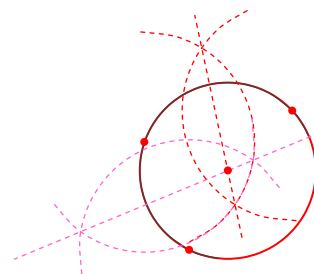
/ 6

■ 次の作図をしなさい。

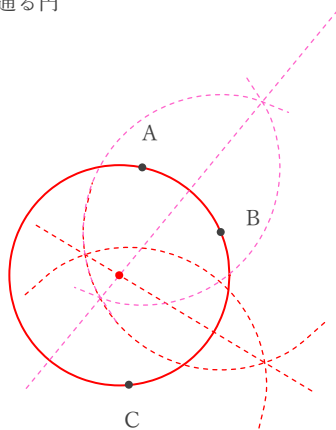
① 3点A, B, Cを通る円



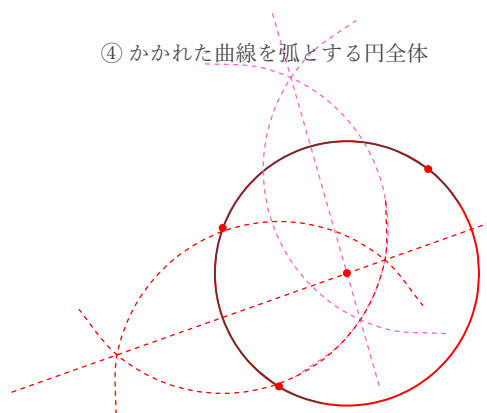
② かかれた曲線を弧とする円全体



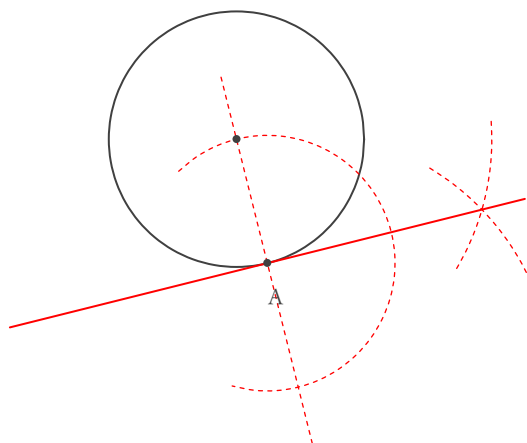
③ 3点A, B, Cを通る円



④ かかれた曲線を弧とする円全体



⑤ 点Aを通る円の接線



⑥ 点Aを通る円の接線

