

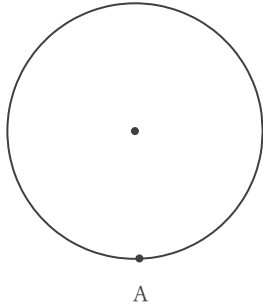
円に関する作図

年 組 名前

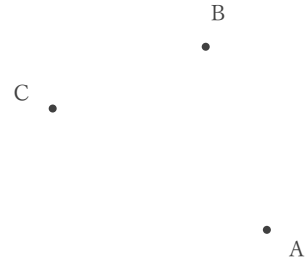
/ 6

■ 次の作図をしなさい。

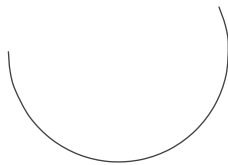
① 点Aを通る円の接線




② 3点A, B, Cを通る円



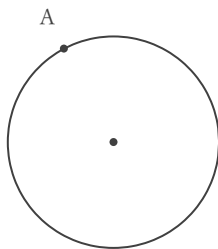
③ かかれた曲線を弧とする円全体




④ 3点A, B, Cを通る円



⑤ 点Aを通る円の接線



⑥ かかれた曲線を弧とする円全体



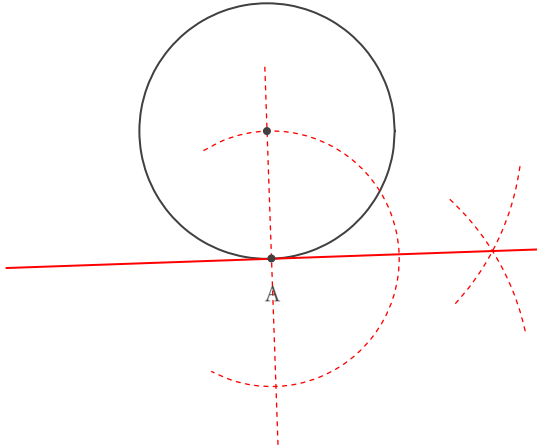
円に関する作図

年 組 名前

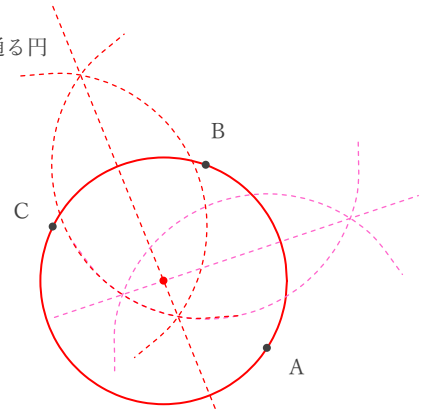
/ 6

■ 次の作図をしなさい。

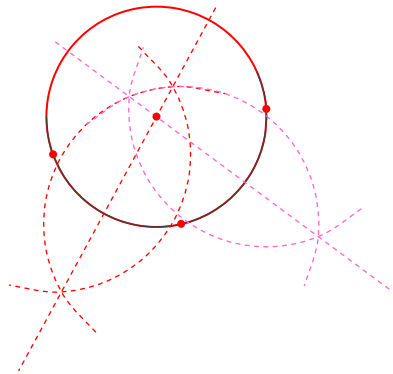
① 点Aを通る円の接線



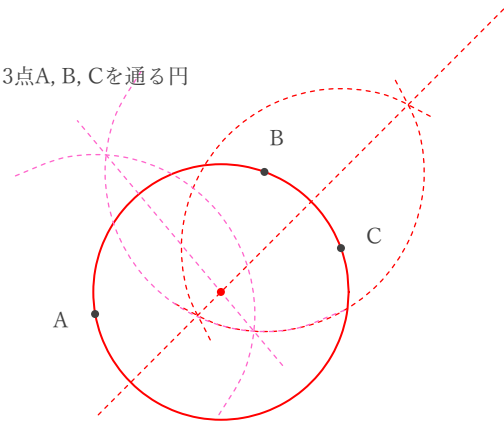
② 3点A, B, Cを通る円



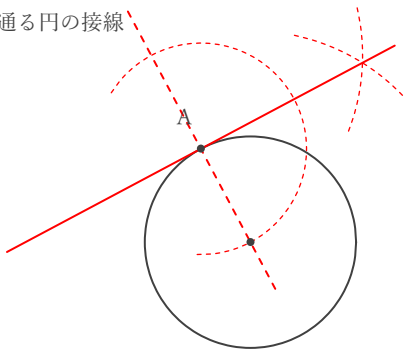
③ かかれた曲線を弧とする円全体



④ 3点A, B, Cを通る円



⑤ 点Aを通る円の接線



⑥ かかれた曲線を弧とする円全体

