

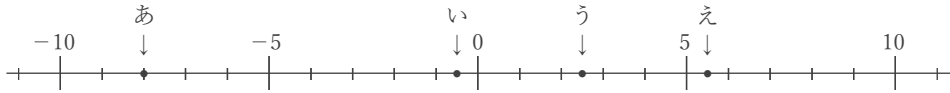
# 正負の数と数直線

年 組 名前

/16

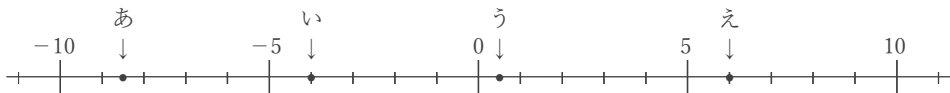
■ 次の各問いに答えなさい。

① 下の数直線で、点あ～えに対応する数を答えなさい。



あ       い       う       え

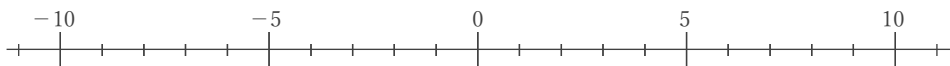
② 下の数直線で、点あ～えに対応する数を答えなさい。



あ       い       う       え

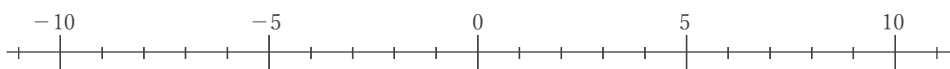
③ 下の数直線上に、次の数に対応する点をしるしなさい。

あ.  $-7.5$       い.  $-4.5$       う.  $+4.5$       え.  $+10.5$



④ 下の数直線上に、次の数に対応する点をしるしなさい。

あ.  $-9.5$       い.  $-3$       う.  $+1$       え.  $+7.5$



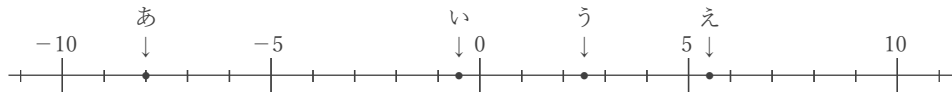
# 正負の数と数直線

\_\_\_\_年 \_\_\_\_組 名前

/16

■ 次の各問いに答えなさい。

① 下の数直線で、点あ～えに対応する数を答えなさい。



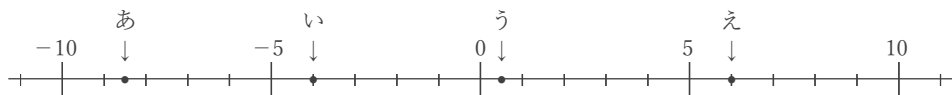
あ -8

い -0.5

う +2.5

え +5.5

② 下の数直線で、点あ～えに対応する数を答えなさい。



あ -8.5

い -4

う +0.5

え +6

③ 下の数直線上に、次の数に対応する点をしるしなさい。

あ. -7.5      い. -4.5      う. +4.5      え. +10.5



④ 下の数直線上に、次の数に対応する点をしるしなさい。

あ. -9.5      い. -3      う. +1      え. +7.5

