

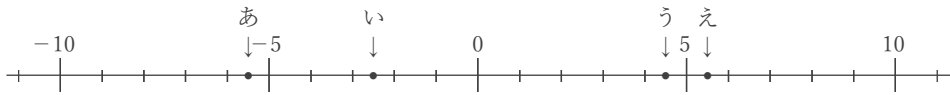
正負の数と数直線

____年 ____組 名前

/16

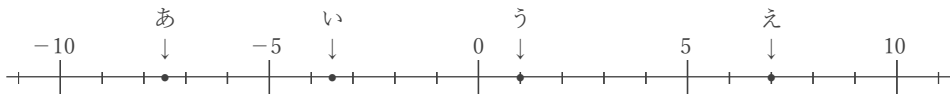
■ 次の各問いに答えなさい。

① 下の数直線で、点あ～えに対応する数を答えなさい。



あ い う え

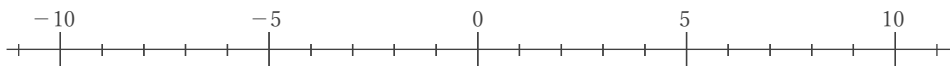
② 下の数直線で、点あ～えに対応する数を答えなさい。



あ い う え

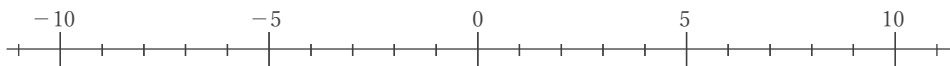
③ 下の数直線上に、次の数に対応する点をしるしなさい。

あ. -7 い. -4.5 う. +2 え. +8



④ 下の数直線上に、次の数に対応する点をしるしなさい。

あ. -6.5 い. -4 う. +0.5 え. +9



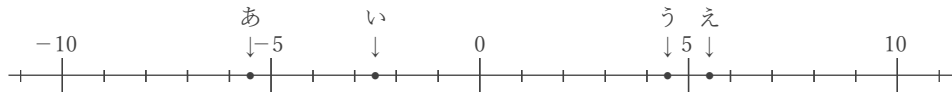
正負の数と数直線

年 組 名前

/16

■ 次の各問いに答えなさい。

① 下の数直線で、点あ～えに対応する数を答えなさい。



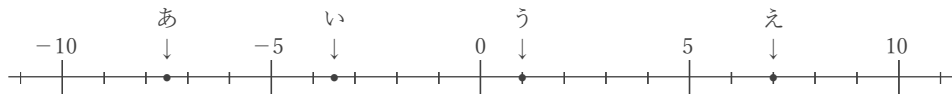
あ -5.5

い -2.5

う $+4.5$

え $+5.5$

② 下の数直線で、点あ～えに対応する数を答えなさい。



あ -7.5

い -3.5

う $+1$

え $+7$

③ 下の数直線上に、次の数に対応する点をしるしなさい。

あ. -7 い. -4.5 う. $+2$ え. $+8$



④ 下の数直線上に、次の数に対応する点をしるしなさい。

あ. -6.5 い. -4 う. $+0.5$ え. $+9$

