

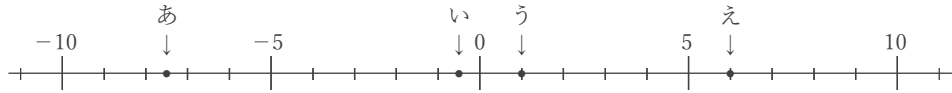
正負の数と数直線

年 組 名前

/16

■ 次の各問いに答えなさい。

① 下の数直線で、点あ～えに対応する数を答えなさい。



あ い う え

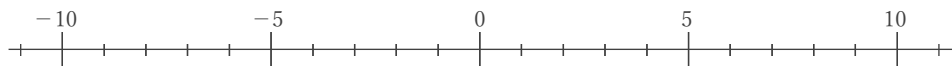
② 下の数直線で、点あ～えに対応する数を答えなさい。



あ い う え

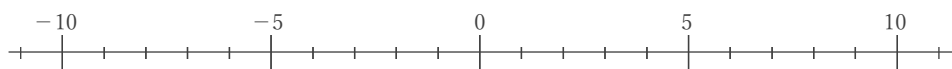
③ 下の数直線上に、次の数に対応する点をしるしなさい。

あ. -6.5 い. -1.5 う. $+3.5$ え. $+7$



④ 下の数直線上に、次の数に対応する点をしるしなさい。

あ. -7 い. -3 う. $+1.5$ え. $+9$



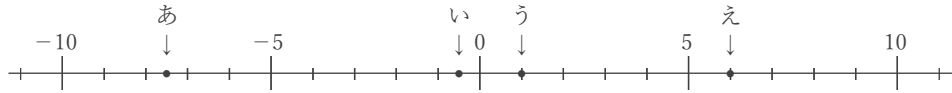
正負の数と数直線

年 組 名前

/16

■ 次の各問いに答えなさい。

① 下の数直線で、点あ～えに対応する数を答えなさい。



あ

い

う

え

② 下の数直線で、点あ～えに対応する数を答えなさい。



あ

い

う

え

③ 下の数直線上に、次の数に対応する点をしるしなさい。

あ. -6.5 い. -1.5 う. +3.5 え. +7



④ 下の数直線上に、次の数に対応する点をしるしなさい。

あ. -7 い. -3 う. +1.5 え. +9

