

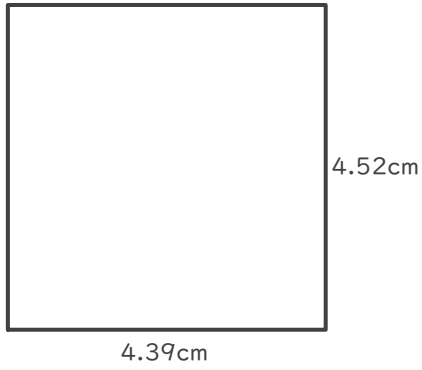
長方形の面積

年 組 名前

/ 4

■ 次の長方形の面積を求めましょう。

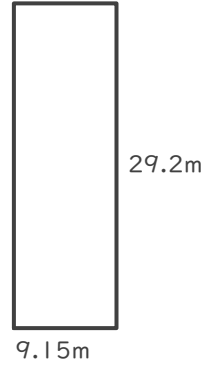
①



②



③



④



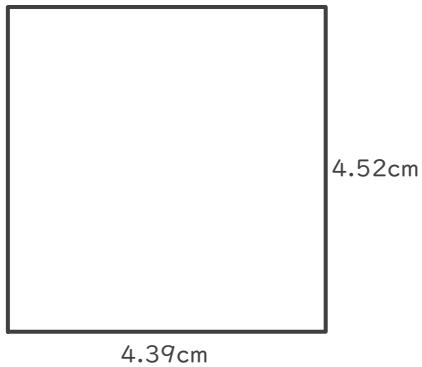
長方形の面積

年 組 名前

/ 4

■ 次の長方形の面積を求めましょう。

①

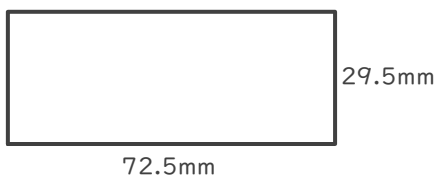


$$4.52 \times 4.39 = 19.8428$$

$$\begin{array}{r} 4.52 \\ \times 4.39 \\ \hline 4068 \\ 1356 \\ 1808 \\ \hline 19.8428 \end{array}$$

$$19.8428 \text{ cm}^2$$

②

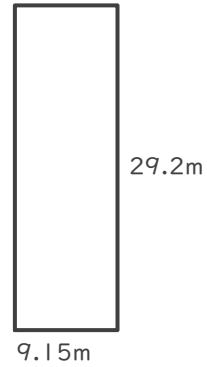


$$29.5 \times 72.5 = 2138.75$$

$$\begin{array}{r} 29.5 \\ \times 72.5 \\ \hline 1475 \\ 590 \\ 2065 \\ \hline 2138.75 \end{array}$$

$$2138.75 \text{ mm}^2$$

③



$$29.2 \times 9.15 = 267.18$$

$$\begin{array}{r} 29.2 \\ \times 9.15 \\ \hline 1460 \\ 292 \\ 2628 \\ \hline 267.18 \end{array}$$

$$267.18 \text{ m}^2$$

④



$$6.02 \times 31.5 = 189.63$$

$$\begin{array}{r} 6.02 \\ \times 31.5 \\ \hline 3010 \\ 602 \\ 1806 \\ \hline 189.63 \end{array}$$

$$189.63 \text{ m}^2$$