

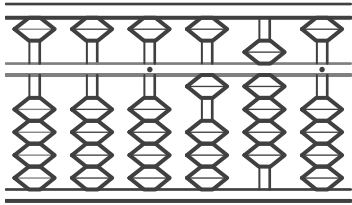
そろばんの見方

年 組 名前

/ 9


■ つぎのそろばんが表す数を答えましょう。

①



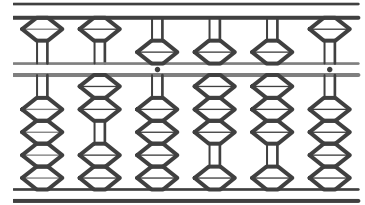
↑
一の位

④



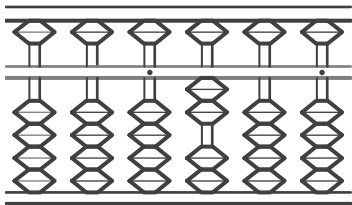
↑
一の位

⑦




↑
一の位

②



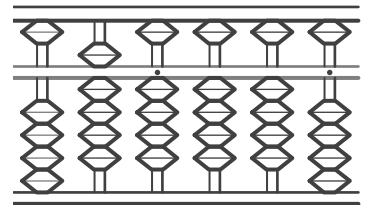
↑
一の位

⑤



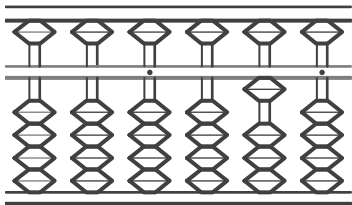
↑
一の位

⑧



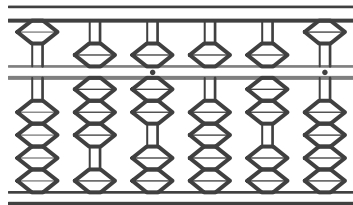
↑
一の位

③



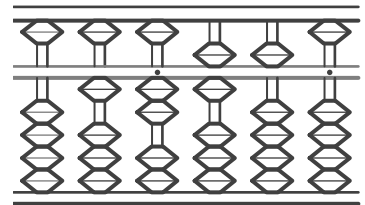
↑
一の位

⑥



↑
一の位

⑨



↑
一の位

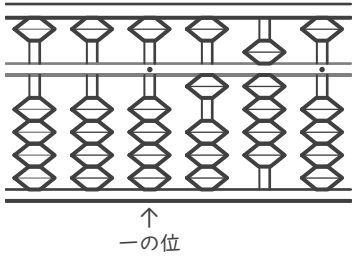
そろばんの見方

年 組 名前

/ 9

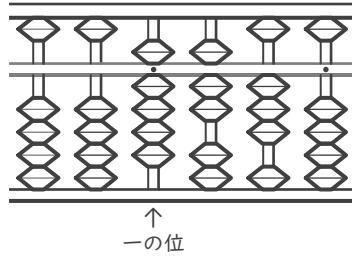
■ つぎのそろばんが表す数を答えましょう。

①



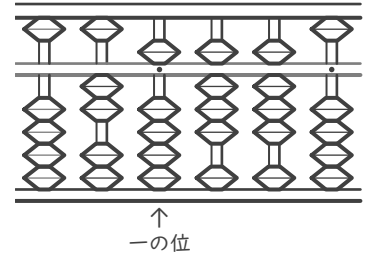
0.19

④



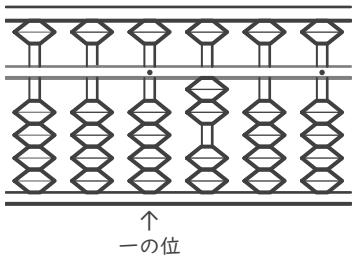
9.73

⑦



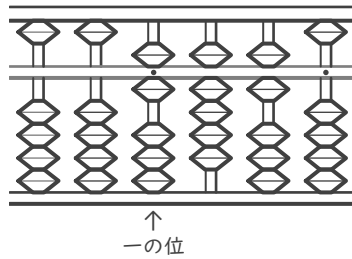
25.88

②



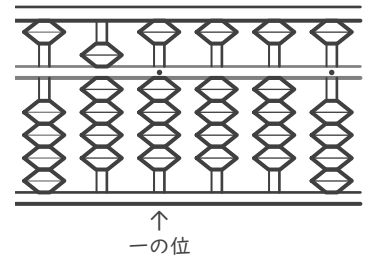
0.2

⑤



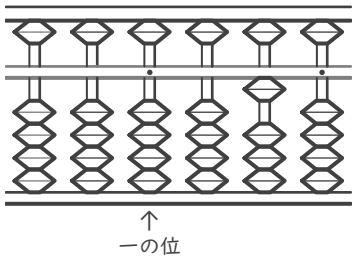
6.96

⑧



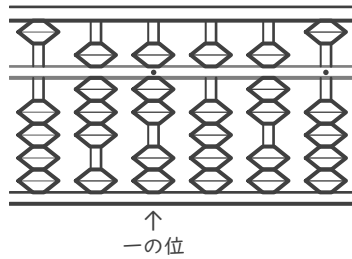
94.44

③



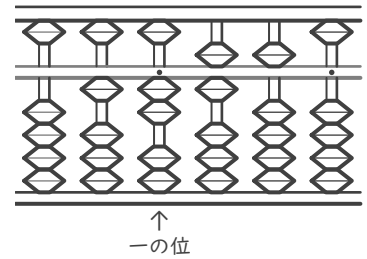
0.01

⑥



87.57

⑨



12.65