

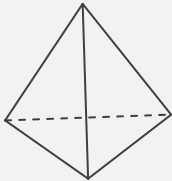
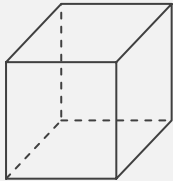
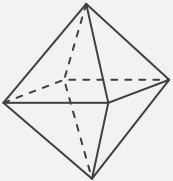
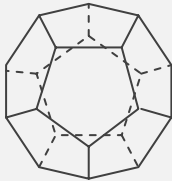
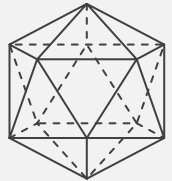
正多面体

____年 ____組 名前

/30

■ 正多面体の特徴についてまとめた次の表に、適切な語句を入れて完成させなさい。

正多面体の特徴のまとめ

正多面体					
名称					
面の形					
面の数	面	面	面	面	面
頂点の数	個	個	個	個	個
辺の数	本	本	本	本	本
1つの頂点に 集まる面の数	面	面	面	面	面

正多面体

年 組 名前

/30

■ 正多面体の特徴についてまとめた次の表に、適切な語句を入れて完成させなさい。

正多面体の特徴のまとめ

正多面体					
名称	正四面体	正六面体 (立方体)	正八面体	正十二面体	正二十面体
面の形	正三角形	正方形	正三角形	正五角形	正三角形
面の数	4 面	6 面	8 面	12 面	20 面
頂点の数	4 個	8 個	6 個	20 個	12 個
辺の数	6 本	12 本	12 本	30 本	30 本
1つの頂点に 集まる面の数	3 面	3 面	4 面	3 面	5 面