

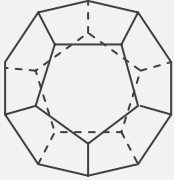
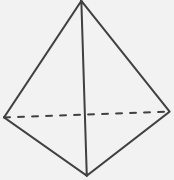
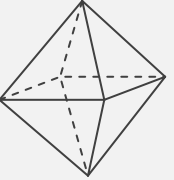
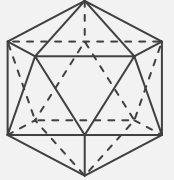
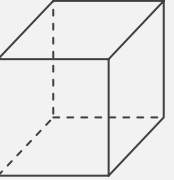
正多面体

____年 ____組 名前

/30

■ 正多面体の特徴についてまとめた次の表に、適切な語句を入れて完成させなさい。

正多面体の特徴のまとめ

正多面体					
名称					
面の形					
辺の数	本	本	本	本	本
頂点の数	個	個	個	個	個
面の数	面	面	面	面	面
1つの頂点に 集まる面の数	面	面	面	面	面

正多面体

____年 ____組 名前

/30

■ 正多面体の特徴についてまとめた次の表に、適切な語句を入れて完成させなさい。

正多面体の特徴のまとめ

正多面体					
名称	正十二面体	正四面体	正八面体	正二十面体	正六面体 (立方体)
面の形	正五角形	正三角形	正三角形	正三角形	正方形
辺の数	30 本	6 本	12 本	30 本	12 本
頂点の数	20 個	4 個	6 個	12 個	8 個
面の数	12 面	4 面	8 面	20 面	6 面
1つの頂点に 集まる面の数	3 面	3 面	4 面	5 面	3 面