

「たてなが」だから

どんどんすすむ

ぐんぐんのびる

たてながドリル

しょうがく | ねんせい
小学 | 年生

パート 2

- 08



kyozai-okiba.com

free

¥0

期間限定

もくじ

01	たしざん(2)
02	たしざん(2)
03	たしざん(2)
04	かたちづくり
05	かたちづくり
06	ひきざん(2)
07	ひきざん(2)
08	ひきざん(2)
09	ひきざん(2)
10	0の たしざんと ひきざん
11	0の たしざんと ひきざん
12	大きい かず
13	大きい かず
14	大きい かず
15	大きい かず
16	なんじなんぶん
17	なんじなんぶん
18	100までの かずの けいさん
19	100までの かずの けいさん
20	100までの かずの けいさん
21	100までの かずの けいさん
22	100までの かずの けいさん
23	100までの かずの けいさん
24	おい ほう すくない ほう
25	おい ほう すくない ほう
26	大きさをくらべ(2)

きりとりせん



← はんぶん に きって たてながドリルの かんせい!

(きらなくても つかえるよ)

01

たしざん(2)

■ たしざんをしましょう。

① $4 + 7 = \square$

② $6 + 6 = \square$

③ $6 + 9 = \square$

④ $9 + 3 = \square$

⑤ $9 + 8 = \square$

⑥ $5 + 9 = \square$

⑦ $8 + 7 = \square$

⑧ $4 + 9 = \square$

⑨ $8 + 6 = \square$

⑩ $6 + 7 = \square$

⑪ $7 + 5 = \square$

⑫ $7 + 9 = \square$



02

たしざん(2)

■ たしざんをしましょう。

① $6 + 5 = \square$

② $9 + 9 = \square$

③ $3 + 8 = \square$

④ $8 + 5 = \square$

⑤ $2 + 9 = \square$

⑥ $8 + 4 = \square$

⑦ $8 + 8 = \square$

⑧ $7 + 7 = \square$

⑨ $9 + 6 = \square$

⑩ $3 + 9 = \square$

⑪ $6 + 6 = \square$

⑫ $9 + 7 = \square$

03

たしざん(2)

■ たしいカードにまるをつけましょう。

① たして14になる

$8 + 5$

$9 + 6$

$7 + 8$

$7 + 7$

② たして15になる

$8 + 8$

$8 + 6$

$7 + 9$

$6 + 9$

③ たして11になる

$3 + 9$

$6 + 6$

$7 + 4$

$9 + 4$

④ たして13になる

$5 + 9$

$5 + 8$

$6 + 5$

$8 + 4$

⑤ たして12になる

$7 + 5$

$3 + 8$

$2 + 9$

$6 + 7$




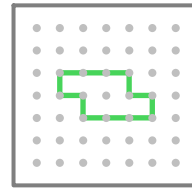
04

かたちづくり

■ おてほんをまねしててんをつなぎましょう。


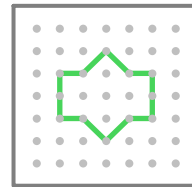
①

おてほん




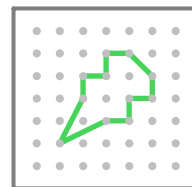
②

おてほん



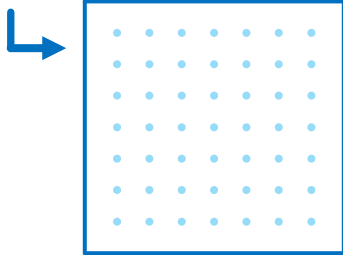
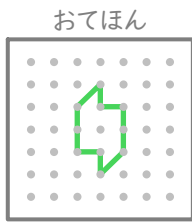
③

おてほん

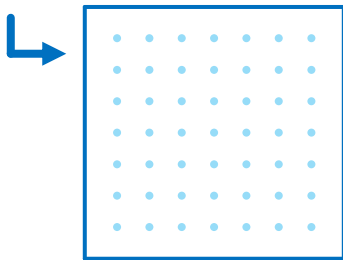
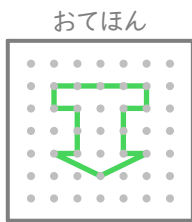


■ おてほんをまねして
てんをつなぎましょう。

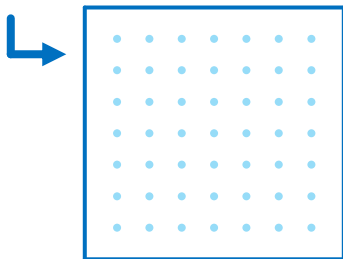
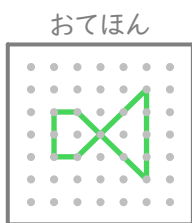
①



②



③



■ ひきざんをしましょう。

① $15 - 7 = \square$

② $14 - 8 = \square$

③ $17 - 9 = \square$

④ $13 - 4 = \square$

⑤ $12 - 6 = \square$

⑥ $12 - 5 = \square$

⑦ $11 - 9 = \square$

⑧ $16 - 7 = \square$

⑨ $11 - 5 = \square$

⑩ $11 - 7 = \square$

⑪ $16 - 8 = \square$

⑫ $13 - 6 = \square$

■ ひきざんをしましょう。

$$\textcircled{1} \quad 14 - 9 = \square$$

$$\textcircled{2} \quad 12 - 4 = \square$$

$$\textcircled{3} \quad 12 - 9 = \square$$

$$\textcircled{4} \quad 15 - 6 = \square$$

$$\textcircled{5} \quad 14 - 7 = \square$$

$$\textcircled{6} \quad 13 - 8 = \square$$

$$\textcircled{7} \quad 18 - 9 = \square$$

$$\textcircled{8} \quad 11 - 3 = \square$$

$$\textcircled{9} \quad 12 - 7 = \square$$

$$\textcircled{10} \quad 13 - 9 = \square$$

$$\textcircled{11} \quad 11 - 2 = \square$$

$$\textcircled{12} \quad 16 - 9 = \square$$



■ しかくにはいるかずをかきましょう。

$$\textcircled{1} \quad 9 + \square = 14$$

$$\textcircled{2} \quad 6 + \square = 15$$

$$\textcircled{3} \quad 7 + \square = 16$$

$$\textcircled{4} \quad 8 + \square = 15$$

$$\textcircled{5} \quad 7 + \square = 11$$

$$\textcircled{6} \quad 2 + \square = 11$$

$$\textcircled{7} \quad 6 + \square = 14$$

$$\textcircled{8} \quad 8 + \square = 11$$

$$\textcircled{9} \quad 8 + \square = 16$$

$$\textcircled{10} \quad 5 + \square = 12$$

$$\textcircled{11} \quad 6 + \square = 12$$

$$\textcircled{12} \quad 7 + \square = 13$$

■ しかくにはいるかずをかきましょう。

① $13 - \square = 4$

② $11 - \square = 6$

③ $12 - \square = 3$

④ $17 - \square = 9$

⑤ $12 - \square = 4$

⑥ $18 - \square = 9$

⑦ $13 - \square = 5$

⑧ $14 - \square = 7$

⑨ $12 - \square = 7$

⑩ $16 - \square = 8$

⑪ $11 - \square = 9$

⑫ $14 - \square = 5$



■ たしざんをしましょう。

① $0 + 0 = \square$

② $0 + 3 = \square$

③ $6 + 0 = \square$

④ $0 + 4 = \square$

⑤ $1 + 0 = \square$

⑥ $0 + 2 = \square$

⑦ $0 + 8 = \square$

⑧ $9 + 0 = \square$

⑨ $5 + 0 = \square$

⑩ $0 + 7 = \square$

⑪ $0 + 10 = \square$

■ ひきざんをしましょう。

① $6 - 6 =$

② $4 - 4 =$

③ $10 - 10 =$

④ $2 - 0 =$

⑤ $7 - 0 =$

⑥ $8 - 0 =$

⑦ $4 - 0 =$

⑧ $5 - 5 =$

⑨ $3 - 3 =$

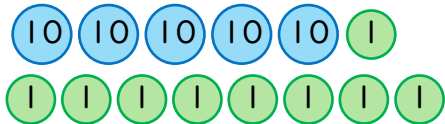
⑩ $6 - 0 =$


⑪ $1 - 0 =$

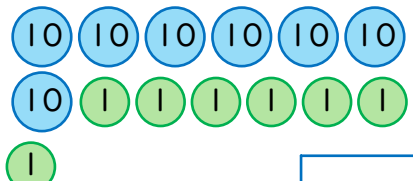
⑫ $9 - 9 =$

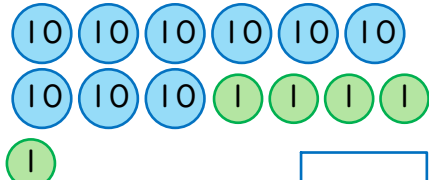



■ すうじで かきましょう。

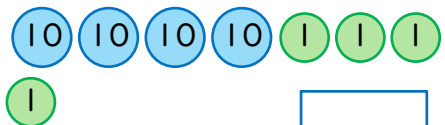
① 

② 

③ 

④ 

⑤ 

⑥ 

■ おおきいほうの かずに
まるをつけましょう。

① 94 と 90

② 92 と 53

③ 15 と 57

④ 18 と 81

⑤ 31 と 91

⑥ 42 と 25

⑦ 58 と 88

⑧ 20 と 68

⑨ 80 と 73

⑩ 63 と 12



■ おおきいほうの かずに
まるをつけましょう。

① 39 と 82

② 76 と 27

③ 16 と 74

④ 62 と 60

⑤ 97 と 93

⑥ 14 と 69

⑦ 26 と 36

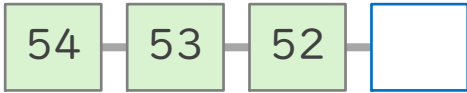
⑧ 98 と 95

⑨ 41 と 37

⑩ 99 と 56

■ しかくにあてはまる
かずをかきましょう。

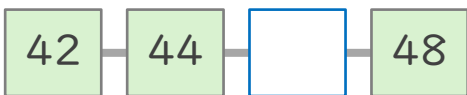
①



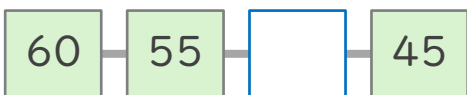
②



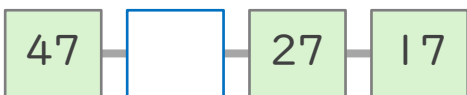
③



④



⑤



⑥



⑦



■ とけいをよみましょう。

①



②



③



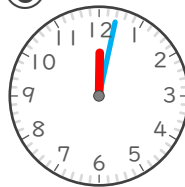
④



⑤



⑥



■ とけいをよみましょう。

①



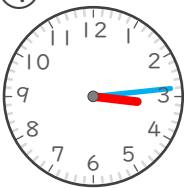
②



③



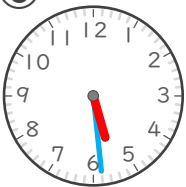
④



⑤



⑥





■ たしざんをしましょう。

① $30 + 30 =$

② $10 + 90 =$

③ $50 + 30 =$

④ $20 + 40 =$

⑤ $50 + 10 =$

⑥ $10 + 40 =$

⑦ $30 + 10 =$

⑧ $10 + 20 =$

⑨ $90 + 10 =$

⑩ $30 + 40 =$

⑪ $10 + 80 =$

⑫ $70 + 30 =$

■ ひきざんをしましょう。

$① 70 - 30 = \square$

$② 100 - 60 = \square$

$③ 80 - 40 = \square$

$④ 100 - 30 = \square$

$⑤ 60 - 50 = \square$

$⑥ 50 - 10 = \square$

$⑦ 40 - 30 = \square$

$⑧ 30 - 10 = \square$

$⑨ 100 - 90 = \square$

$⑩ 40 - 20 = \square$

$⑪ 90 - 10 = \square$

$⑫ 100 - 90 = \square$



■ たしざんをしましょう。

$① 90 + 8 = \square$

$② 70 + 9 = \square$

$③ 30 + 8 = \square$

$④ 50 + 7 = \square$

$⑤ 80 + 7 = \square$

$⑥ 60 + 6 = \square$

$⑦ 80 + 1 = \square$

$⑧ 20 + 6 = \square$

$⑨ 60 + 3 = \square$

$⑩ 70 + 4 = \square$

$⑪ 10 + 9 = \square$

$⑫ 50 + 1 = \square$

■ ひきざんを しましょう。

$$\textcircled{1} 64 - 4 = \square$$

$$\textcircled{2} 79 - 9 = \square$$

$$\textcircled{3} 95 - 5 = \square$$

$$\textcircled{4} 58 - 8 = \square$$

$$\textcircled{5} 16 - 6 = \square$$

$$\textcircled{6} 71 - 1 = \square$$

$$\textcircled{7} 86 - 6 = \square$$

$$\textcircled{8} 52 - 2 = \square$$

$$\textcircled{9} 83 - 3 = \square$$

$$\textcircled{10} 24 - 4 = \square$$

$$\textcircled{11} 47 - 7 = \square$$

$$\textcircled{12} 68 - 8 = \square$$



■ たしざんを しましょう。

$$\textcircled{1} 51 + 1 = \square$$

$$\textcircled{2} 75 + 2 = \square$$

$$\textcircled{3} 36 + 1 = \square$$

$$\textcircled{4} 31 + 2 = \square$$

$$\textcircled{5} 24 + 2 = \square$$

$$\textcircled{6} 85 + 3 = \square$$

$$\textcircled{7} 16 + 3 = \square$$

$$\textcircled{8} 87 + 1 = \square$$

$$\textcircled{9} 44 + 3 = \square$$

$$\textcircled{10} 62 + 7 = \square$$

$$\textcircled{11} 64 + 5 = \square$$

$$\textcircled{12} 98 + 1 = \square$$

■ ひきざんを しましょう。

① $84 - 3 =$

② $78 - 5 =$

③ $49 - 8 =$

④ $67 - 6 =$

⑤ $38 - 4 =$

⑥ $99 - 2 =$

⑦ $76 - 3 =$

⑧ $58 - 6 =$

⑨ $19 - 5 =$

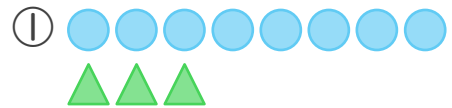
⑩ $14 - 2 =$

⑪ $56 - 5 =$

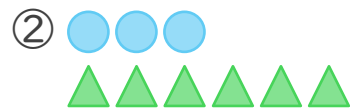
⑫ $27 - 4 =$



■ ● と ▲ では どちらが
なんこ おおい ですか。



が こ おおい



が こ おおい



が こ おおい



が こ おおい

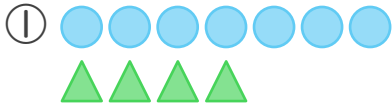


が こ おおい

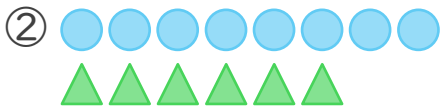


が こ おおい

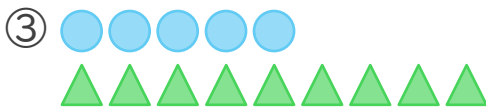
■ ● と ▲ ではどちらが
 なんこ おおい ですか。



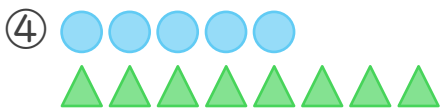
が こ おおい



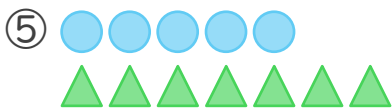
が こ おおい



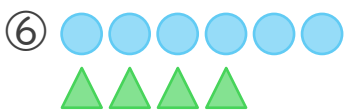
が こ おおい



が こ おおい

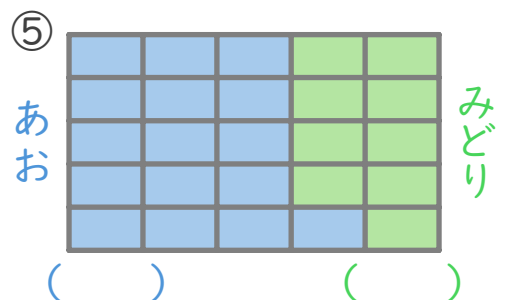
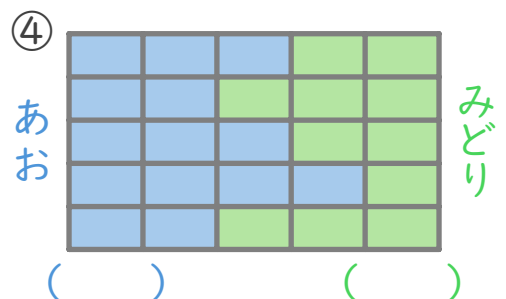
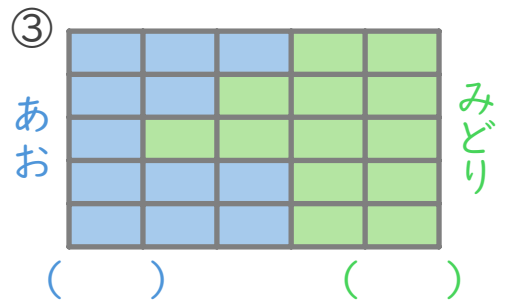
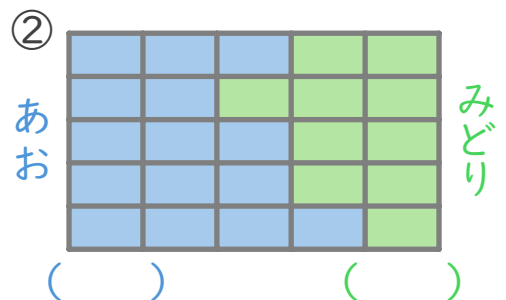
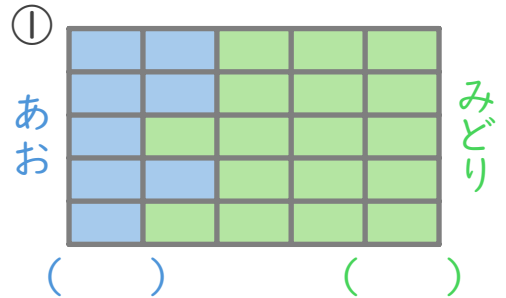


が こ おおい



が こ おおい

■ ひろい ほう の かっこ に
 まる を つけ ましょう。



01

kyozai-okiba.com
たしざん(2)

がつ 日にち

■ たしざんをしましょう。

① $4 + 7 =$

② $6 + 6 =$

③ $6 + 9 =$

④ $9 + 3 =$

⑤ $9 + 8 =$

⑥ $5 + 9 =$

⑦ $8 + 7 =$

⑧ $4 + 9 =$

⑨ $8 + 6 =$

⑩ $6 + 7 =$

⑪ $7 + 5 =$

⑫ $7 + 9 =$



02

kyozai-okiba.com
たしざん(2)

がつ 日にち

■ たしざんをしましょう。

① $6 + 5 =$

② $9 + 9 =$

③ $3 + 8 =$

④ $8 + 5 =$

⑤ $2 + 9 =$

⑥ $8 + 4 =$

⑦ $8 + 8 =$

⑧ $7 + 7 =$

⑨ $9 + 6 =$

⑩ $3 + 9 =$

⑪ $6 + 6 =$

⑫ $9 + 7 =$

■ たしいカードにまるをつけましょう。

① たして 14 になる

$$8 + 5 \quad 9 + 6$$

$$7 + 8 \quad 7 + 7$$

② たして 15 になる

$$8 + 8 \quad 8 + 6$$

$$7 + 9 \quad 6 + 9$$

③ たして 11 になる

$$3 + 9 \quad 6 + 6$$

$$7 + 4 \quad 9 + 4$$

④ たして 13 になる

$$5 + 9 \quad 5 + 8$$

$$6 + 5 \quad 8 + 4$$

⑤ たして 12 になる

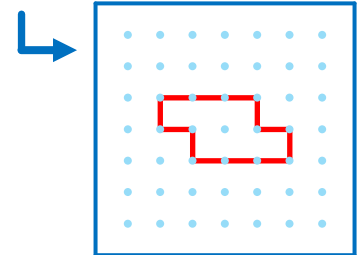
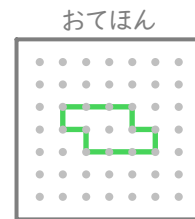
$$7 + 5 \quad 3 + 8$$

$$2 + 9 \quad 6 + 7$$

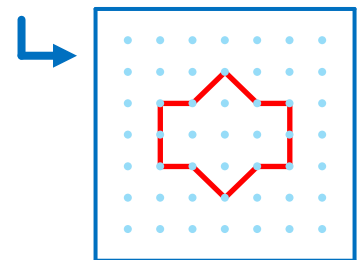
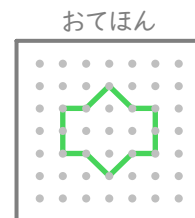


■ おてほんをまねしててんをつなぎましょう。

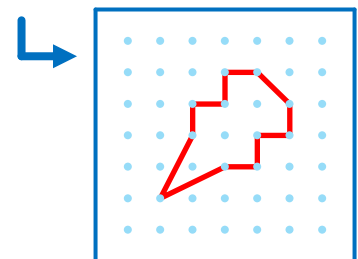
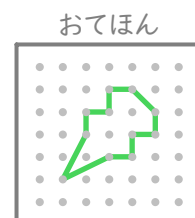
①



②

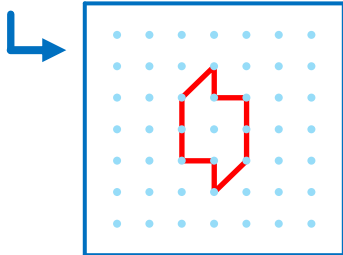
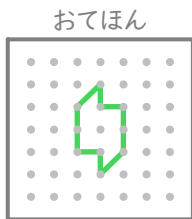


③

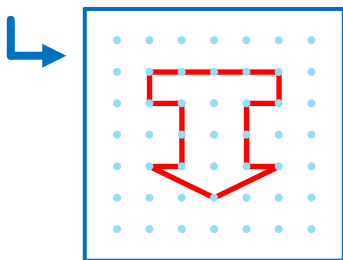
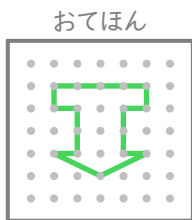


■ おてほんをまねして
てんをつなぎましょう。

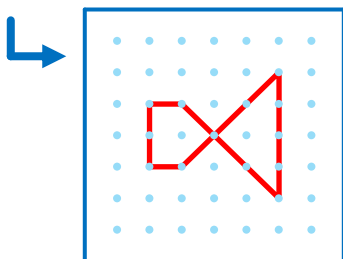
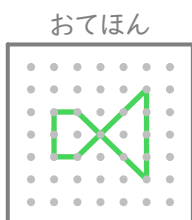
①



②



③



■ ひきざんをしましょう。

① $15 - 7 = 8$

② $14 - 8 = 6$

③ $17 - 9 = 8$

④ $13 - 4 = 9$

⑤ $12 - 6 = 6$

⑥ $12 - 5 = 7$

⑦ $11 - 9 = 2$

⑧ $16 - 7 = 9$

⑨ $11 - 5 = 6$

⑩ $11 - 7 = 4$

⑪ $16 - 8 = 8$

⑫ $13 - 6 = 7$

07

ひきざん(2)

■ ひきざんをしましょう。

① $14 - 9 = 5$

② $12 - 4 = 8$

③ $12 - 9 = 3$

④ $15 - 6 = 9$

⑤ $14 - 7 = 7$

⑥ $13 - 8 = 5$

⑦ $18 - 9 = 9$

⑧ $11 - 3 = 8$

⑨ $12 - 7 = 5$

⑩ $13 - 9 = 4$

⑪ $11 - 2 = 9$

⑫ $16 - 9 = 7$



08

ひきざん(2)

■ しかくにはいるかずをかきましょう。

① $9 + 5 = 14$

② $6 + 9 = 15$

③ $7 + 9 = 16$

④ $8 + 7 = 15$

⑤ $7 + 4 = 11$

⑥ $2 + 9 = 11$

⑦ $6 + 8 = 14$

⑧ $8 + 3 = 11$

⑨ $8 + 8 = 16$

⑩ $5 + 7 = 12$

⑪ $6 + 6 = 12$

⑫ $7 + 6 = 13$

■ しかくにはいるかずをかきましょう。

$$\textcircled{1} 13 - \boxed{9} = 4$$

$$\textcircled{2} 11 - \boxed{5} = 6$$

$$\textcircled{3} 12 - \boxed{9} = 3$$

$$\textcircled{4} 17 - \boxed{8} = 9$$

$$\textcircled{5} 12 - \boxed{8} = 4$$

$$\textcircled{6} 18 - \boxed{9} = 9$$

$$\textcircled{7} 13 - \boxed{8} = 5$$

$$\textcircled{8} 14 - \boxed{7} = 7$$

$$\textcircled{9} 12 - \boxed{5} = 7$$

$$\textcircled{10} 16 - \boxed{8} = 8$$

$$\textcircled{11} 11 - \boxed{2} = 9$$

$$\textcircled{12} 14 - \boxed{9} = 5$$



■ たしざんをしましょう。

$$\textcircled{1} 0 + 0 = \boxed{0}$$

$$\textcircled{2} 0 + 3 = \boxed{3}$$

$$\textcircled{3} 6 + 0 = \boxed{6}$$

$$\textcircled{4} 0 + 4 = \boxed{4}$$

$$\textcircled{5} 1 + 0 = \boxed{1}$$

$$\textcircled{6} 0 + 2 = \boxed{2}$$

$$\textcircled{7} 0 + 8 = \boxed{8}$$

$$\textcircled{8} 9 + 0 = \boxed{9}$$

$$\textcircled{9} 5 + 0 = \boxed{5}$$

$$\textcircled{10} 0 + 7 = \boxed{7}$$

$$\textcircled{11} 0 + 10 = \boxed{10}$$

■ ひきざんをしましょう。

① $6 - 6 =$

② $4 - 4 =$

③ $10 - 10 =$

④ $2 - 0 =$

⑤ $7 - 0 =$

⑥ $8 - 0 =$

⑦ $4 - 0 =$

⑧ $5 - 5 =$

⑨ $3 - 3 =$

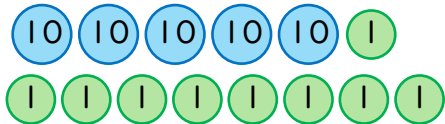
⑩ $6 - 0 =$


⑪ $1 - 0 =$

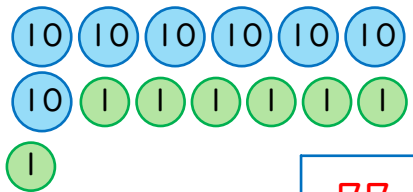
⑫ $9 - 9 =$

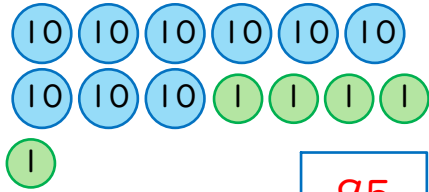



■ すうじで かきましょう。

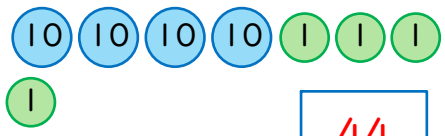
① 

② 

③ 

④ 

⑤ 

⑥ 

■ おおきいほうの かずに
まるをつけましょう。

① $\boxed{94}$ と $\boxed{90}$

② $\boxed{92}$ と $\boxed{53}$

③ $\boxed{15}$ と $\boxed{57}$

④ $\boxed{18}$ と $\boxed{81}$

⑤ $\boxed{31}$ と $\boxed{91}$

⑥ $\boxed{42}$ と $\boxed{25}$

⑦ $\boxed{58}$ と $\boxed{88}$

⑧ $\boxed{20}$ と $\boxed{68}$

⑨ $\boxed{80}$ と $\boxed{73}$

⑩ $\boxed{63}$ と $\boxed{12}$



■ おおきいほうの かずに
まるをつけましょう。

① $\boxed{39}$ と $\boxed{82}$

② $\boxed{76}$ と $\boxed{27}$

③ $\boxed{16}$ と $\boxed{74}$

④ $\boxed{62}$ と $\boxed{60}$

⑤ $\boxed{97}$ と $\boxed{93}$

⑥ $\boxed{14}$ と $\boxed{69}$

⑦ $\boxed{26}$ と $\boxed{36}$

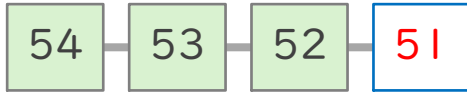
⑧ $\boxed{98}$ と $\boxed{95}$

⑨ $\boxed{41}$ と $\boxed{37}$

⑩ $\boxed{99}$ と $\boxed{56}$

■ しかくにあてはまる
かずをかきましょう。

①



②



③



④



⑤



⑥



⑦



■ とけいをよみましょう。

①



9じ 35ぶん

②



7じ 48ぶん

③



1じ 17ぶん

④



6じ 31ぶん

⑤



4じ 8ぶん

⑥



12じ 2ぶん

■ とけいを よみましょう。

①



8じ 55ぶん

②



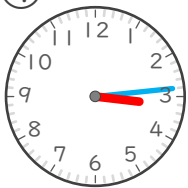
2じ 42ぶん

③



11じ 21ぶん

④



3じ 14ぶん

⑤



10じ 52ぶん

⑥



5じ 29ぶん



■ たしざんを しましょう。

① $30 + 30 = 60$

② $10 + 90 = 100$

③ $50 + 30 = 80$

④ $20 + 40 = 60$

⑤ $50 + 10 = 60$

⑥ $10 + 40 = 50$

⑦ $30 + 10 = 40$

⑧ $10 + 20 = 30$

⑨ $90 + 10 = 100$

⑩ $30 + 40 = 70$

⑪ $10 + 80 = 90$

⑫ $70 + 30 = 100$

■ ひきざんを しましょう。

$$\textcircled{1} 70 - 30 = 40$$

$$\textcircled{2} 100 - 60 = 40$$

$$\textcircled{3} 80 - 40 = 40$$

$$\textcircled{4} 100 - 30 = 70$$

$$\textcircled{5} 60 - 50 = 10$$

$$\textcircled{6} 50 - 10 = 40$$

$$\textcircled{7} 40 - 30 = 10$$

$$\textcircled{8} 30 - 10 = 20$$

$$\textcircled{9} 100 - 90 = 10$$

$$\textcircled{10} 40 - 20 = 20$$

$$\textcircled{11} 90 - 10 = 80$$

$$\textcircled{12} 100 - 90 = 10$$



■ たしざんを しましょう。

$$\textcircled{1} 90 + 8 = 98$$

$$\textcircled{2} 70 + 9 = 79$$

$$\textcircled{3} 30 + 8 = 38$$

$$\textcircled{4} 50 + 7 = 57$$

$$\textcircled{5} 80 + 7 = 87$$

$$\textcircled{6} 60 + 6 = 66$$

$$\textcircled{7} 80 + 1 = 81$$

$$\textcircled{8} 20 + 6 = 26$$

$$\textcircled{9} 60 + 3 = 63$$

$$\textcircled{10} 70 + 4 = 74$$

$$\textcircled{11} 10 + 9 = 19$$

$$\textcircled{12} 50 + 1 = 51$$

■ ひきざんを しましょう。

$$\textcircled{1} 64 - 4 = 60$$

$$\textcircled{2} 79 - 9 = 70$$

$$\textcircled{3} 95 - 5 = 90$$

$$\textcircled{4} 58 - 8 = 50$$

$$\textcircled{5} 16 - 6 = 10$$

$$\textcircled{6} 71 - 1 = 70$$

$$\textcircled{7} 86 - 6 = 80$$

$$\textcircled{8} 52 - 2 = 50$$

$$\textcircled{9} 83 - 3 = 80$$

$$\textcircled{10} 24 - 4 = 20$$

$$\textcircled{11} 47 - 7 = 40$$

$$\textcircled{12} 68 - 8 = 60$$



■ たしざんを しましょう。

$$\textcircled{1} 51 + 1 = 52$$

$$\textcircled{2} 75 + 2 = 77$$

$$\textcircled{3} 36 + 1 = 37$$

$$\textcircled{4} 31 + 2 = 33$$

$$\textcircled{5} 24 + 2 = 26$$

$$\textcircled{6} 85 + 3 = 88$$

$$\textcircled{7} 16 + 3 = 19$$

$$\textcircled{8} 87 + 1 = 88$$

$$\textcircled{9} 44 + 3 = 47$$

$$\textcircled{10} 62 + 7 = 69$$

$$\textcircled{11} 64 + 5 = 69$$

$$\textcircled{12} 98 + 1 = 99$$

■ ひきざんを しましょう。

① $84 - 3 =$ 81

② $78 - 5 =$ 73

③ $49 - 8 =$ 41

④ $67 - 6 =$ 61

⑤ $38 - 4 =$ 34

⑥ $99 - 2 =$ 97

⑦ $76 - 3 =$ 73

⑧ $58 - 6 =$ 52

⑨ $19 - 5 =$ 14

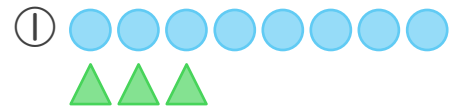
⑩ $14 - 2 =$ 12

⑪ $56 - 5 =$ 51

⑫ $27 - 4 =$ 23



■ ● と ▲ では どちらが
なんこ おおい ですか。



○ が 5 こ おおい



△ が 3 こ おおい



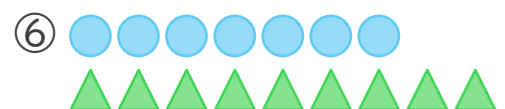
○ が 6 こ おおい



○ が 5 こ おおい

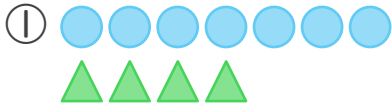


○ が 4 こ おおい

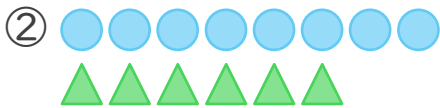


△ が 2 こ おおい

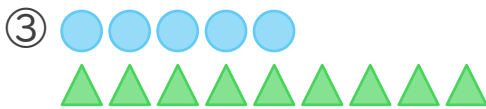
■ ● と ▲ ではどちらが
 なんこ おおい ですか。



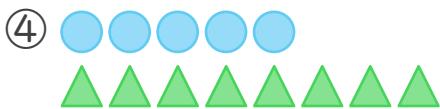
が こ おおい



が こ おおい



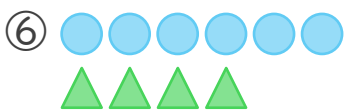
が こ おおい



が こ おおい



が こ おおい



が こ おおい



■ ひろい ほう の かっこ に
 まる を つけ ましょう。

