

「たてなが」だから

どんどんすすむ

ぐんぐんのびる

たてながドリル

しょうがく | ねんせい
小学 | 年生

パート 2

- 09



kyozai-okiba.com

free

¥0

期間限定

もくじ

01	たしざん(2)
02	たしざん(2)
03	たしざん(2)
04	かたちづくり
05	かたちづくり
06	ひきざん(2)
07	ひきざん(2)
08	ひきざん(2)
09	ひきざん(2)
10	0の たしざんと ひきざん
11	0の たしざんと ひきざん
12	大きい かず
13	大きい かず
14	大きい かず
15	大きい かず
16	なんじなんぶん
17	なんじなんぶん
18	100までの かずの けいさん
19	100までの かずの けいさん
20	100までの かずの けいさん
21	100までの かずの けいさん
22	100までの かずの けいさん
23	100までの かずの けいさん
24	おいしい ほう すくない ほう
25	おいしい ほう すくない ほう
26	大きさをくらべ(2)

きりとりせん



← はんぶん に きって たてながドリルの かんせい!

(きらなくても つかえるよ)

01

たしざん(2)

■ たしざんをしましょう。

① $7 + 8 =$

② $8 + 3 =$

③ $6 + 9 =$

④ $9 + 4 =$

⑤ $5 + 8 =$

⑥ $8 + 8 =$

⑦ $2 + 9 =$

⑧ $7 + 7 =$

⑨ $5 + 6 =$

⑩ $8 + 6 =$

⑪ $7 + 4 =$

⑫ $5 + 9 =$



02

たしざん(2)

■ たしざんをしましょう。

① $8 + 9 =$

② $7 + 6 =$

③ $9 + 7 =$

④ $9 + 9 =$

⑤ $4 + 8 =$

⑥ $9 + 3 =$

⑦ $5 + 7 =$

⑧ $6 + 6 =$

⑨ $7 + 7 =$

⑩ $8 + 7 =$

⑪ $8 + 5 =$

⑫ $3 + 8 =$

03

kyozai-okiba.com
たしざん(2)

がつ にち

■ たしいカードにまるをつけましょう。

① たして14になる

$$9 + 6 \quad 6 + 8$$

$$8 + 7 \quad 5 + 8$$

② たして13になる

$$6 + 7 \quad 7 + 7$$

$$4 + 7 \quad 9 + 3$$

③ たして12になる

$$9 + 2 \quad 6 + 5$$

$$6 + 6 \quad 8 + 5$$

④ たして15になる

$$5 + 9 \quad 7 + 8$$

$$9 + 7 \quad 8 + 8$$

⑤ たして11になる

$$5 + 7 \quad 8 + 4$$

$$3 + 8 \quad 9 + 4$$



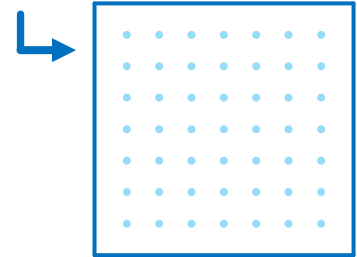
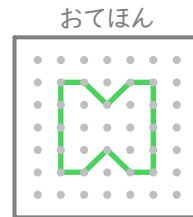
04

kyozai-okiba.com
かたちづくり

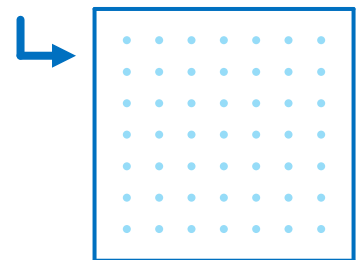
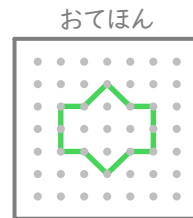
がつ にち

■ おてほんをまねしててんをつなぎましょう。

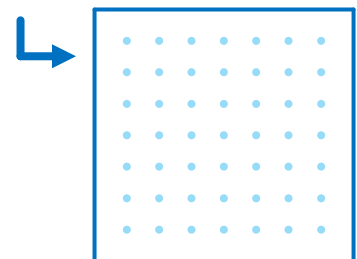
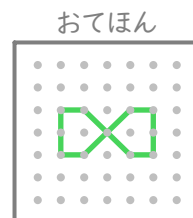
①



②


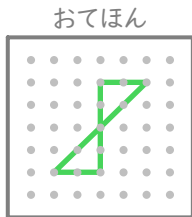


③


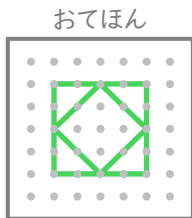


■ おてほんをまねして
てんをつなぎましょう。


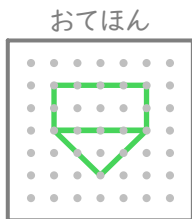
①



②



③



■ ひきざんをしましょう。

① $12 - 6 = \square$

② $12 - 5 = \square$

③ $12 - 3 = \square$

④ $13 - 8 = \square$

⑤ $16 - 8 = \square$

⑥ $16 - 7 = \square$

⑦ $13 - 9 = \square$

⑧ $14 - 6 = \square$

⑨ $15 - 7 = \square$

⑩ $17 - 9 = \square$

⑪ $14 - 7 = \square$

⑫ $15 - 6 = \square$

■ ひきざんをしましょう。

$$\textcircled{1} \quad 11 - 6 = \square$$

$$\textcircled{2} \quad 11 - 4 = \square$$

$$\textcircled{3} \quad 11 - 2 = \square$$

$$\textcircled{4} \quad 12 - 8 = \square$$

$$\textcircled{5} \quad 14 - 5 = \square$$

$$\textcircled{6} \quad 18 - 9 = \square$$

$$\textcircled{7} \quad 11 - 3 = \square$$

$$\textcircled{8} \quad 13 - 7 = \square$$

$$\textcircled{9} \quad 15 - 8 = \square$$

$$\textcircled{10} \quad 17 - 8 = \square$$

$$\textcircled{11} \quad 13 - 5 = \square$$

$$\textcircled{12} \quad 12 - 6 = \square$$



■ しかくにはいるかずをかきましょう。

$$\textcircled{1} \quad 9 + \square = 18$$

$$\textcircled{2} \quad 3 + \square = 11$$

$$\textcircled{3} \quad 9 + \square = 12$$

$$\textcircled{4} \quad 4 + \square = 11$$

$$\textcircled{5} \quad 7 + \square = 12$$

$$\textcircled{6} \quad 5 + \square = 13$$

$$\textcircled{7} \quad 6 + \square = 11$$

$$\textcircled{8} \quad 8 + \square = 16$$

$$\textcircled{9} \quad 9 + \square = 15$$

$$\textcircled{10} \quad 5 + \square = 14$$

$$\textcircled{11} \quad 7 + \square = 14$$

$$\textcircled{12} \quad 6 + \square = 12$$

■ しかくにはいるかずをかきましょう。

$$\textcircled{1} 15 - \square = 8$$

$$\textcircled{2} 12 - \square = 4$$

$$\textcircled{3} 13 - \square = 9$$

$$\textcircled{4} 17 - \square = 8$$

$$\textcircled{5} 11 - \square = 2$$

$$\textcircled{6} 14 - \square = 8$$

$$\textcircled{7} 16 - \square = 7$$

$$\textcircled{8} 13 - \square = 7$$

$$\textcircled{9} 14 - \square = 9$$

$$\textcircled{10} 11 - \square = 5$$

$$\textcircled{11} 15 - \square = 6$$

$$\textcircled{12} 12 - \square = 6$$



■ たしざんをしましょう。

$$\textcircled{1} 8 + 0 = \square$$

$$\textcircled{2} 0 + 7 = \square$$

$$\textcircled{3} 0 + 2 = \square$$

$$\textcircled{4} 3 + 0 = \square$$

$$\textcircled{5} 0 + 1 = \square$$

$$\textcircled{6} 9 + 0 = \square$$

$$\textcircled{7} 5 + 0 = \square$$

$$\textcircled{8} 0 + 4 = \square$$

$$\textcircled{9} 0 + 0 = \square$$

$$\textcircled{10} 6 + 0 = \square$$

$$\textcircled{11} 0 + 10 = \square$$

■ ひきざんをしましょう。

① $9 - 0 =$

② $1 - 0 =$

③ $7 - 7 =$

④ $5 - 5 =$

⑤ $8 - 8 =$

⑥ $6 - 0 =$

⑦ $5 - 0 =$

⑧ $10 - 10 =$

⑨ $3 - 3 =$

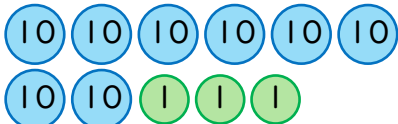
⑩ $2 - 2 =$

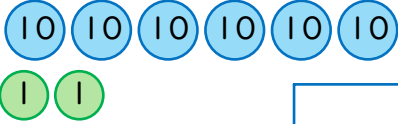
⑪ $2 - 0 =$

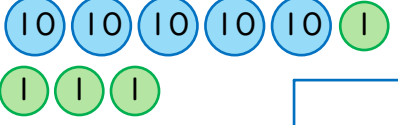
⑫ $4 - 0 =$

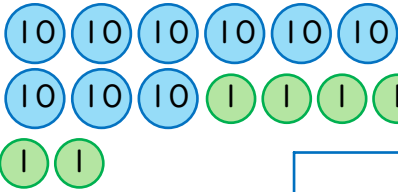


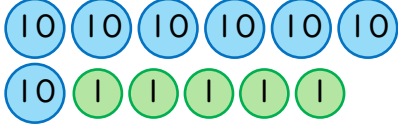
■ すうじで かきましょう。

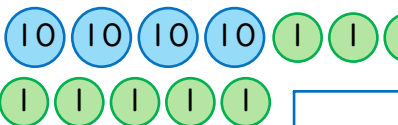
① 

② 

③ 

④ 

⑤ 

⑥ 

■ おおきいほうの かずに
まるをつけましょう。

① 59 と 62

② 67 と 60

③ 38 と 34

④ 56 と 47

⑤ 31 と 58

⑥ 64 と 75

⑦ 35 と 26

⑧ 84 と 63

⑨ 66 と 82

⑩ 80 と 40



■ おおきいほうの かずに
まるをつけましょう。

① 11 と 71

② 51 と 39

③ 52 と 54

④ 83 と 46

⑤ 36 と 50

⑥ 79 と 69

⑦ 74 と 93

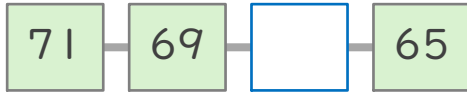
⑧ 25 と 20

⑨ 29 と 14

⑩ 48 と 86

■ しかくにあてはまる
かずをかきましょう。

①



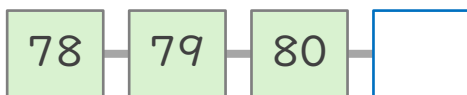
②



③



④



⑤



⑥



⑦



■ とけいをよみましょう。

①



②



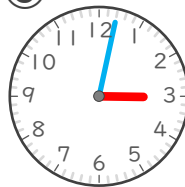
③



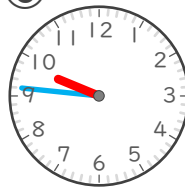
④



⑤



⑥



■ とけいをよみましょう。

①



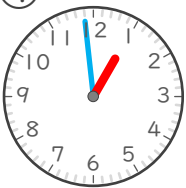
②



③



④



⑤



⑥





■ たしざんをしましょう。

① $60 + 40 =$

② $20 + 80 =$

③ $10 + 70 =$

④ $40 + 30 =$

⑤ $10 + 50 =$

⑥ $40 + 10 =$

⑦ $30 + 10 =$

⑧ $10 + 20 =$

⑨ $10 + 90 =$

⑩ $30 + 20 =$

⑪ $60 + 30 =$

⑫ $30 + 50 =$

■ ひきざんを しましょう。

① $70 - 20 =$

② $90 - 50 =$

③ $100 - 50 =$

④ $100 - 10 =$

⑤ $60 - 50 =$

⑥ $50 - 10 =$

⑦ $40 - 10 =$

⑧ $30 - 20 =$

⑨ $100 - 10 =$

⑩ $100 - 60 =$

⑪ $60 - 20 =$

⑫ $60 - 30 =$



■ たしざんを しましょう。

① $90 + 9 =$

② $30 + 4 =$

③ $90 + 1 =$

④ $40 + 2 =$

⑤ $50 + 3 =$

⑥ $80 + 5 =$

⑦ $80 + 8 =$

⑧ $70 + 6 =$

⑨ $60 + 2 =$

⑩ $20 + 1 =$

⑪ $30 + 6 =$

⑫ $10 + 5 =$

■ ひきざんを しましょう。

① $88 - 8 =$

② $63 - 3 =$

③ $48 - 8 =$

④ $91 - 1 =$

⑤ $67 - 7 =$

⑥ $26 - 6 =$

⑦ $53 - 3 =$

⑧ $75 - 5 =$

⑨ $79 - 9 =$

⑩ $21 - 1 =$

⑪ $57 - 7 =$

⑫ $39 - 9 =$



■ たしざんを しましょう。

① $31 + 6 =$

② $83 + 1 =$

③ $92 + 2 =$

④ $44 + 4 =$

⑤ $62 + 3 =$

⑥ $65 + 4 =$

⑦ $35 + 1 =$

⑧ $72 + 7 =$

⑨ $22 + 1 =$

⑩ $52 + 6 =$

⑪ $11 + 1 =$

⑫ $73 + 3 =$

■ ひきざんを しましょう。

① $49 - 3 =$

② $77 - 6 =$

③ $38 - 2 =$

④ $97 - 5 =$

⑤ $12 - 1 =$

⑥ $54 - 3 =$

⑦ $18 - 4 =$

⑧ $89 - 5 =$


⑨ $89 - 2 =$


⑩ $54 - 2 =$

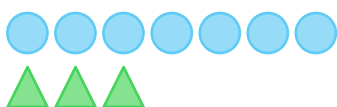
⑪ $25 - 1 =$


⑫ $66 - 3 =$


■ ● と ▲ では どちらが
なんこ おおい ですか。


① 
 が こ おおい

② 
 が こ おおい

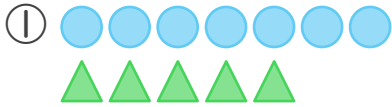
③ 
 が こ おおい

④ 
 が こ おおい

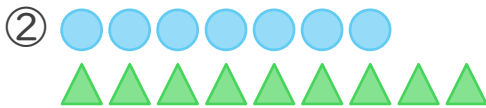
⑤ 
 が こ おおい

⑥ 
 が こ おおい

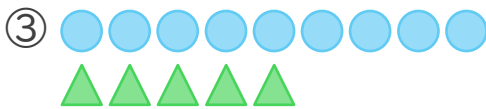
■ ●と▲ではどちらが
 なんこおおいですか。



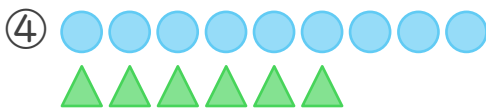
が がおおい



が がおおい



が がおおい



が がおおい

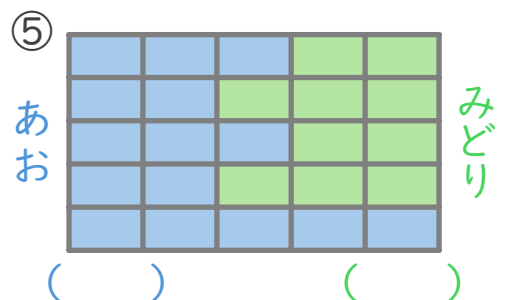
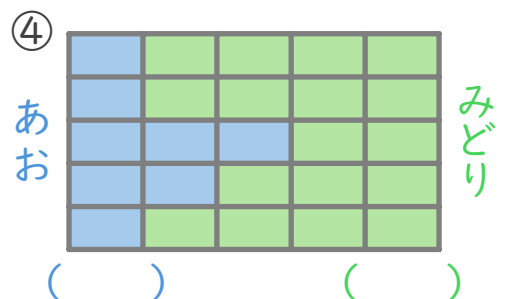
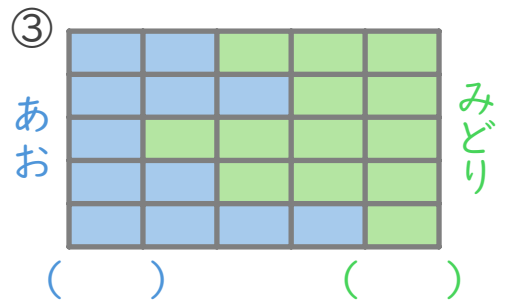
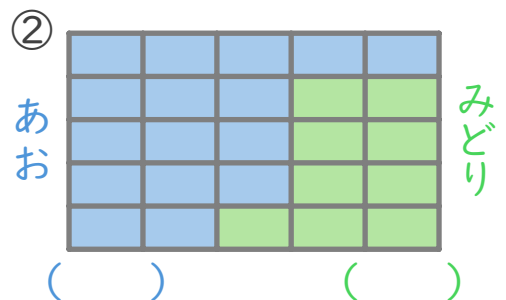
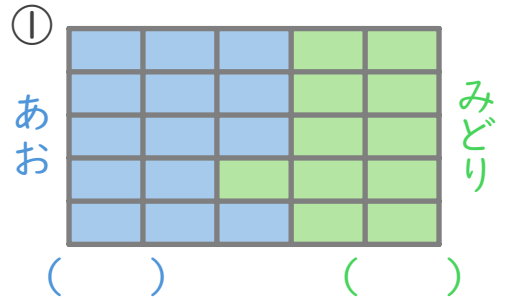


が がおおい



が がおおい

■ ひろいほうの かつこに
 まるをつけましょう。



01

kyozai-okiba.com
たしざん(2)

がつ 日にち

■ たしざんをしましょう。

① $7 + 8 = 15$

② $8 + 3 = 11$

③ $6 + 9 = 15$

④ $9 + 4 = 13$

⑤ $5 + 8 = 13$

⑥ $8 + 8 = 16$

⑦ $2 + 9 = 11$

⑧ $7 + 7 = 14$

⑨ $5 + 6 = 11$

⑩ $8 + 6 = 14$

⑪ $7 + 4 = 11$

⑫ $5 + 9 = 14$



02

kyozai-okiba.com
たしざん(2)

がつ 日にち

■ たしざんをしましょう。

① $8 + 9 = 17$

② $7 + 6 = 13$

③ $9 + 7 = 16$

④ $9 + 9 = 18$

⑤ $4 + 8 = 12$

⑥ $9 + 3 = 12$

⑦ $5 + 7 = 12$

⑧ $6 + 6 = 12$

⑨ $7 + 7 = 14$

⑩ $8 + 7 = 15$

⑪ $8 + 5 = 13$

⑫ $3 + 8 = 11$

03

kyozai-okiba.com
たしざん(2)

がつ にち

■ たしいカードにまるをつけましょう。

① たして14になる

$9 + 6$	$6 + 8$
---------	---------

$8 + 7$	$5 + 8$
---------	---------

② たして13になる

$6 + 7$	$7 + 7$
---------	---------

$4 + 7$	$9 + 3$
---------	---------

③ たして12になる

$9 + 2$	$6 + 5$
---------	---------

$6 + 6$	$8 + 5$
---------	---------

④ たして15になる

$5 + 9$	$7 + 8$
---------	---------

$9 + 7$	$8 + 8$
---------	---------

⑤ たして11になる

$5 + 7$	$8 + 4$
---------	---------

$3 + 8$	$9 + 4$
---------	---------



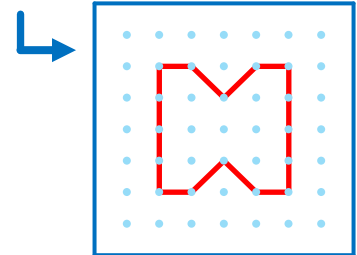
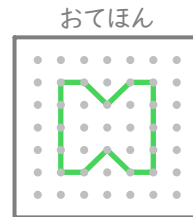
04

kyozai-okiba.com
かたちづくり

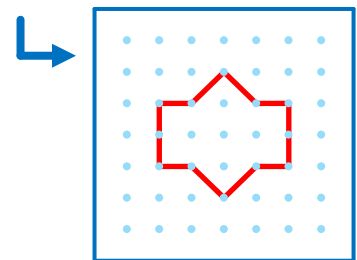
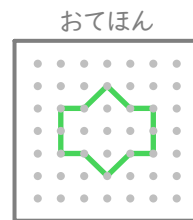
がつ にち

■ おてほんをまねしててんをつなぎましょう。

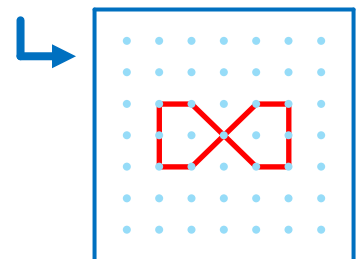
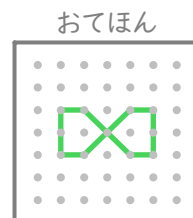
①



②

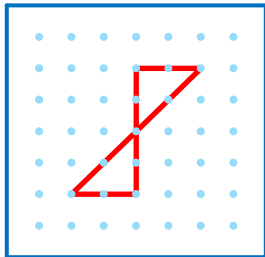
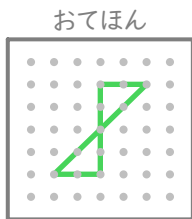


③

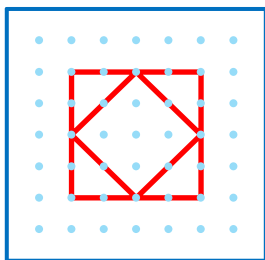
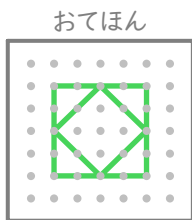


■ おてほんをまねして
てんをつなぎましょう。

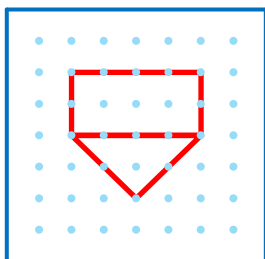
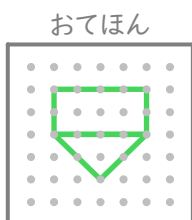
①



②



③



■ ひきざんをしましょう。

$$\textcircled{1} \quad 12 - 6 = \boxed{6}$$

$$\textcircled{2} \quad 12 - 5 = \boxed{7}$$

$$\textcircled{3} \quad 12 - 3 = \boxed{9}$$

$$\textcircled{4} \quad 13 - 8 = \boxed{5}$$

$$\textcircled{5} \quad 16 - 8 = \boxed{8}$$

$$\textcircled{6} \quad 16 - 7 = \boxed{9}$$

$$\textcircled{7} \quad 13 - 9 = \boxed{4}$$

$$\textcircled{8} \quad 14 - 6 = \boxed{8}$$

$$\textcircled{9} \quad 15 - 7 = \boxed{8}$$

$$\textcircled{10} \quad 17 - 9 = \boxed{8}$$

$$\textcircled{11} \quad 14 - 7 = \boxed{7}$$

$$\textcircled{12} \quad 15 - 6 = \boxed{9}$$

07

ひきざん(2)

■ ひきざんをしましょう。

① $11 - 6 = 5$

② $11 - 4 = 7$

③ $11 - 2 = 9$

④ $12 - 8 = 4$

⑤ $14 - 5 = 9$

⑥ $18 - 9 = 9$

⑦ $11 - 3 = 8$

⑧ $13 - 7 = 6$

⑨ $15 - 8 = 7$

⑩ $17 - 8 = 9$

⑪ $13 - 5 = 8$

⑫ $12 - 6 = 6$



08

ひきざん(2)

■ しかくにはいるかずをかきましょう。

① $9 + 9 = 18$

② $3 + 8 = 11$

③ $9 + 3 = 12$

④ $4 + 7 = 11$

⑤ $7 + 5 = 12$

⑥ $5 + 8 = 13$

⑦ $6 + 5 = 11$

⑧ $8 + 8 = 16$

⑨ $9 + 6 = 15$

⑩ $5 + 9 = 14$

⑪ $7 + 7 = 14$

⑫ $6 + 6 = 12$

■ しかくにはいるかずをかきましょう。

$$\textcircled{1} \quad 15 - \boxed{7} = 8$$

$$\textcircled{2} \quad 12 - \boxed{8} = 4$$

$$\textcircled{3} \quad 13 - \boxed{4} = 9$$

$$\textcircled{4} \quad 17 - \boxed{9} = 8$$

$$\textcircled{5} \quad 11 - \boxed{9} = 2$$

$$\textcircled{6} \quad 14 - \boxed{6} = 8$$

$$\textcircled{7} \quad 16 - \boxed{9} = 7$$

$$\textcircled{8} \quad 13 - \boxed{6} = 7$$

$$\textcircled{9} \quad 14 - \boxed{5} = 9$$

$$\textcircled{10} \quad 11 - \boxed{6} = 5$$

$$\textcircled{11} \quad 15 - \boxed{9} = 6$$

$$\textcircled{12} \quad 12 - \boxed{6} = 6$$



■ たしざんをしましょう。

$$\textcircled{1} \quad 8 + 0 = \boxed{8}$$

$$\textcircled{2} \quad 0 + 7 = \boxed{7}$$

$$\textcircled{3} \quad 0 + 2 = \boxed{2}$$

$$\textcircled{4} \quad 3 + 0 = \boxed{3}$$

$$\textcircled{5} \quad 0 + 1 = \boxed{1}$$

$$\textcircled{6} \quad 9 + 0 = \boxed{9}$$

$$\textcircled{7} \quad 5 + 0 = \boxed{5}$$

$$\textcircled{8} \quad 0 + 4 = \boxed{4}$$

$$\textcircled{9} \quad 0 + 0 = \boxed{0}$$

$$\textcircled{10} \quad 6 + 0 = \boxed{6}$$

$$\textcircled{11} \quad 0 + 10 = \boxed{10}$$

■ ひきざんをしましょう。

① $9 - 0 =$

② $1 - 0 =$

③ $7 - 7 =$

④ $5 - 5 =$

⑤ $8 - 8 =$

⑥ $6 - 0 =$

⑦ $5 - 0 =$

⑧ $10 - 10 =$

⑨ $3 - 3 =$

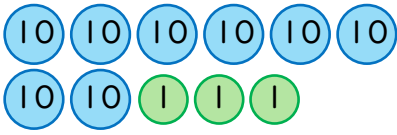
⑩ $2 - 2 =$

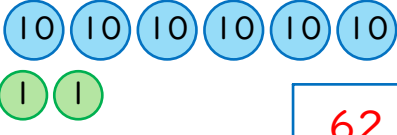
⑪ $2 - 0 =$

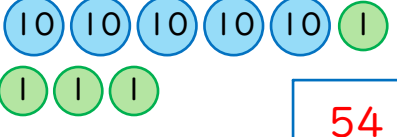
⑫ $4 - 0 =$

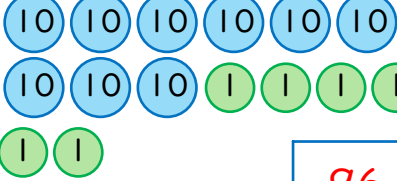


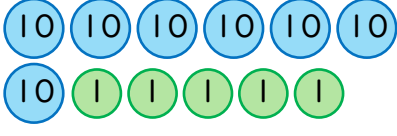
■ すうじで かきましょう。

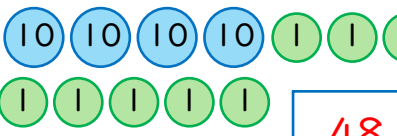
① 

② 

③ 

④ 

⑤ 

⑥ 

■ おおきいほうの かずに
まるをつけましょう。

① 59 と 62

② 67 と 60

③ 38 と 34

④ 56 と 47

⑤ 31 と 58

⑥ 64 と 75

⑦ 35 と 26

⑧ 84 と 63

⑨ 66 と 82

⑩ 80 と 40



■ おおきいほうの かずに
まるをつけましょう。

① 11 と 71

② 51 と 39

③ 52 と 54

④ 83 と 46

⑤ 36 と 50

⑥ 79 と 69

⑦ 74 と 93

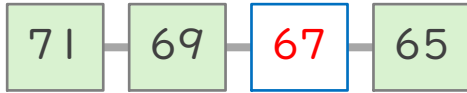
⑧ 25 と 20

⑨ 29 と 14

⑩ 48 と 86

■ しかくにあてはまる
かずをかきましょう。

①



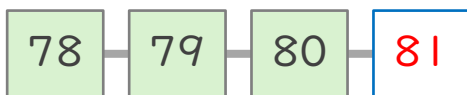
②



③



④



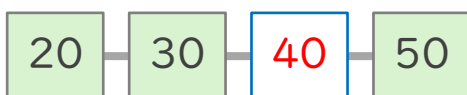
⑤



⑥



⑦



■ とけいをよみましょう。

①



7じ 23ぶん

②



1じ 51ぶん

③



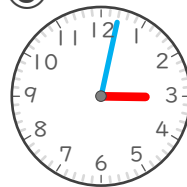
5じ 16ぶん

④



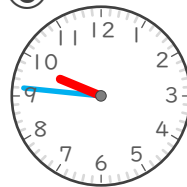
11じ 35ぶん

⑤



3じ 2ぶん

⑥



9じ 46ぶん

■ とけいを よみましょう。

①



6じ 9ぷん

②



2じ 29ぷん

③



8じ 42ぷん

④



12じ 59ぷん

⑤



4じ 10ぷん

⑥



10じ 33ぷん



■ たしざんを しましょう。

① $60 + 40 = 100$

② $20 + 80 = 100$

③ $10 + 70 = 80$

④ $40 + 30 = 70$

⑤ $10 + 50 = 60$

⑥ $40 + 10 = 50$

⑦ $30 + 10 = 40$

⑧ $10 + 20 = 30$

⑨ $10 + 90 = 100$

⑩ $30 + 20 = 50$

⑪ $60 + 30 = 90$

⑫ $30 + 50 = 80$

■ ひきざんをしましょう。

$$\textcircled{1} 70 - 20 = 50$$

$$\textcircled{2} 90 - 50 = 40$$

$$\textcircled{3} 100 - 50 = 50$$

$$\textcircled{4} 100 - 10 = 90$$

$$\textcircled{5} 60 - 50 = 10$$

$$\textcircled{6} 50 - 10 = 40$$

$$\textcircled{7} 40 - 10 = 30$$

$$\textcircled{8} 30 - 20 = 10$$

$$\textcircled{9} 100 - 10 = 90$$

$$\textcircled{10} 100 - 60 = 40$$

$$\textcircled{11} 60 - 20 = 40$$

$$\textcircled{12} 60 - 30 = 30$$



■ たしざんをしましょう。

$$\textcircled{1} 90 + 9 = 99$$

$$\textcircled{2} 30 + 4 = 34$$

$$\textcircled{3} 90 + 1 = 91$$

$$\textcircled{4} 40 + 2 = 42$$

$$\textcircled{5} 50 + 3 = 53$$

$$\textcircled{6} 80 + 5 = 85$$

$$\textcircled{7} 80 + 8 = 88$$

$$\textcircled{8} 70 + 6 = 76$$

$$\textcircled{9} 60 + 2 = 62$$

$$\textcircled{10} 20 + 1 = 21$$

$$\textcircled{11} 30 + 6 = 36$$

$$\textcircled{12} 10 + 5 = 15$$

■ ひきざんを しましょう。

$$\textcircled{1} 88 - 8 = 80$$

$$\textcircled{2} 63 - 3 = 60$$

$$\textcircled{3} 48 - 8 = 40$$

$$\textcircled{4} 91 - 1 = 90$$

$$\textcircled{5} 67 - 7 = 60$$

$$\textcircled{6} 26 - 6 = 20$$

$$\textcircled{7} 53 - 3 = 50$$

$$\textcircled{8} 75 - 5 = 70$$

$$\textcircled{9} 79 - 9 = 70$$

$$\textcircled{10} 21 - 1 = 20$$

$$\textcircled{11} 57 - 7 = 50$$

$$\textcircled{12} 39 - 9 = 30$$



■ たしざんを しましょう。

$$\textcircled{1} 31 + 6 = 37$$

$$\textcircled{2} 83 + 1 = 84$$

$$\textcircled{3} 92 + 2 = 94$$

$$\textcircled{4} 44 + 4 = 48$$

$$\textcircled{5} 62 + 3 = 65$$

$$\textcircled{6} 65 + 4 = 69$$

$$\textcircled{7} 35 + 1 = 36$$

$$\textcircled{8} 72 + 7 = 79$$

$$\textcircled{9} 22 + 1 = 23$$

$$\textcircled{10} 52 + 6 = 58$$

$$\textcircled{11} 11 + 1 = 12$$

$$\textcircled{12} 73 + 3 = 76$$

■ ひきざんをしましょう。

① $49 - 3 =$ 46

② $77 - 6 =$ 71

③ $38 - 2 =$ 36

④ $97 - 5 =$ 92

⑤ $12 - 1 =$ 11

⑥ $54 - 3 =$ 51

⑦ $18 - 4 =$ 14

⑧ $89 - 5 =$ 84

⑨ $89 - 2 =$ 87


⑩ $54 - 2 =$ 52

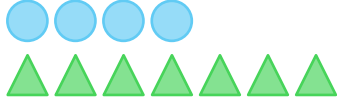
⑪ $25 - 1 =$ 24

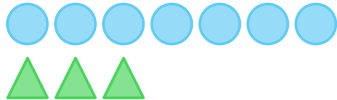
⑫ $66 - 3 =$ 63





■ ●と▲ではどちらが
なんこおおいですか。


① 
▲ が 3 こおおい

② 
▲ が 3 こおおい

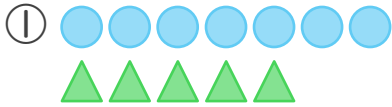
③ 
○ が 4 こおおい

④ 
○ が 3 こおおい

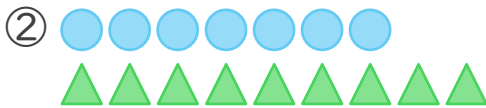
⑤ 
○ が 4 こおおい

⑥ 
▲ が 2 こおおい

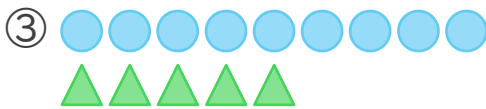
■ ● と ▲ ではどちらが
 なんこ おおい ですか。



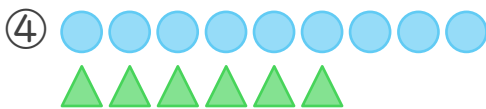
が こ おおい



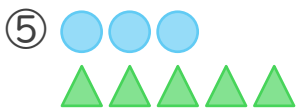
が こ おおい



が こ おおい



が こ おおい



が こ おおい



が こ おおい



■ ひろい ほう の かっこ に
 まる を つけ ましょう。

