

「たてなが」だから

どんどんすすむ

ぐんぐんのびる

たてながドリル

しょうがく | ねんせい
小学 | 年生

パート 2

- 10



kyozai-okiba.com

free

¥0

期間限定

もくじ

01	たしざん(2)
02	たしざん(2)
03	たしざん(2)
04	かたちづくり
05	かたちづくり
06	ひきざん(2)
07	ひきざん(2)
08	ひきざん(2)
09	ひきざん(2)
10	0の たしざんと ひきざん
11	0の たしざんと ひきざん
12	大きい かず
13	大きい かず
14	大きい かず
15	大きい かず
16	なんじなんぶん
17	なんじなんぶん
18	100までの かずの けいさん
19	100までの かずの けいさん
20	100までの かずの けいさん
21	100までの かずの けいさん
22	100までの かずの けいさん
23	100までの かずの けいさん
24	おい ほう すくない ほう
25	おい ほう すくない ほう
26	大きさをくらべ(2)

きりとりせん



← はんぶん に きって たてながドリルの かんせい!

(きらなくても つかえるよ)

01

たしざん(2)

■ たしざんをしましょう。

① $7 + 7 = \square$

② $5 + 6 = \square$

③ $2 + 9 = \square$

④ $8 + 8 = \square$

⑤ $6 + 8 = \square$

⑥ $8 + 7 = \square$

⑦ $4 + 8 = \square$

⑧ $6 + 6 = \square$

⑨ $5 + 9 = \square$

⑩ $7 + 6 = \square$

⑪ $5 + 8 = \square$

⑫ $9 + 8 = \square$



02

たしざん(2)

■ たしざんをしましょう。

① $8 + 3 = \square$

② $9 + 9 = \square$

③ $4 + 9 = \square$

④ $9 + 6 = \square$

⑤ $7 + 5 = \square$

⑥ $4 + 7 = \square$

⑦ $3 + 9 = \square$

⑧ $9 + 7 = \square$

⑨ $6 + 7 = \square$

⑩ $9 + 5 = \square$

⑪ $9 + 2 = \square$

⑫ $8 + 4 = \square$

03

たしざん(2)

■ たしいカードにまるをつけましょう。

① たして14になる

$7 + 8$

$6 + 9$

$8 + 6$

$6 + 7$

② たして11になる

$9 + 4$

$9 + 3$

$6 + 5$

$7 + 5$

③ たして13になる

$7 + 6$

$9 + 2$

$9 + 5$

$8 + 4$

④ たして12になる

$7 + 4$

$8 + 5$

$8 + 3$

$6 + 6$

⑤ たして15になる

$8 + 8$

$9 + 6$

$9 + 7$

$7 + 7$




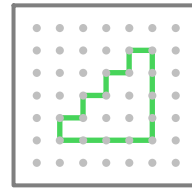
04

かたちづくり

■ おてほんをまねしててんをつなぎましょう。



①

おてほん




②

おてほん



③

おてほん




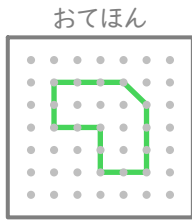
05

kyozai-okiba.com
かたちづくり


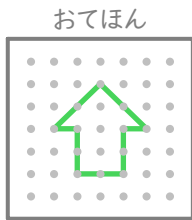
がつ にち

■ おてほんをまねして
てんをつなぎましょう。


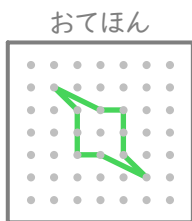
①



②



③



06

kyozai-okiba.com
ひきざん(2)

がつ にち

■ ひきざんをしましょう。

① $14 - 7 = \square$

② $12 - 8 = \square$

③ $16 - 8 = \square$

④ $13 - 8 = \square$

⑤ $11 - 9 = \square$

⑥ $12 - 6 = \square$

⑦ $15 - 7 = \square$

⑧ $12 - 9 = \square$

⑨ $11 - 8 = \square$

⑩ $12 - 5 = \square$

⑪ $11 - 6 = \square$

⑫ $13 - 4 = \square$

■ ひきざんをしましょう。

$$\textcircled{1} 11 - 4 = \square$$

$$\textcircled{2} 17 - 9 = \square$$

$$\textcircled{3} 14 - 9 = \square$$

$$\textcircled{4} 15 - 6 = \square$$

$$\textcircled{5} 13 - 6 = \square$$

$$\textcircled{6} 18 - 9 = \square$$

$$\textcircled{7} 16 - 7 = \square$$

$$\textcircled{8} 14 - 8 = \square$$

$$\textcircled{9} 12 - 6 = \square$$

$$\textcircled{10} 13 - 9 = \square$$

$$\textcircled{11} 13 - 5 = \square$$

$$\textcircled{12} 14 - 7 = \square$$



■ しかくにはいるかずをかきましょう。

$$\textcircled{1} 9 + \square = 12$$

$$\textcircled{2} 8 + \square = 16$$

$$\textcircled{3} 8 + \square = 14$$

$$\textcircled{4} 4 + \square = 13$$

$$\textcircled{5} 4 + \square = 11$$

$$\textcircled{6} 9 + \square = 14$$

$$\textcircled{7} 6 + \square = 12$$

$$\textcircled{8} 9 + \square = 16$$

$$\textcircled{9} 9 + \square = 18$$

$$\textcircled{10} 4 + \square = 12$$

$$\textcircled{11} 7 + \square = 14$$

$$\textcircled{12} 9 + \square = 11$$

■ しかくにはいるかずをかきましょう。

$$\textcircled{1} 15 - \square = 9$$

$$\textcircled{2} 17 - \square = 8$$

$$\textcircled{3} 12 - \square = 7$$

$$\textcircled{4} 11 - \square = 3$$

$$\textcircled{5} 13 - \square = 5$$

$$\textcircled{6} 15 - \square = 8$$

$$\textcircled{7} 11 - \square = 6$$

$$\textcircled{8} 13 - \square = 6$$

$$\textcircled{9} 16 - \square = 8$$

$$\textcircled{10} 16 - \square = 7$$

$$\textcircled{11} 12 - \square = 8$$

$$\textcircled{12} 14 - \square = 5$$



■ たしざんをしましょう。

$$\textcircled{1} 7 + 0 = \square$$

$$\textcircled{2} 0 + 8 = \square$$

$$\textcircled{3} 0 + 1 = \square$$

$$\textcircled{4} 0 + 0 = \square$$

$$\textcircled{5} 0 + 6 = \square$$

$$\textcircled{6} 9 + 0 = \square$$

$$\textcircled{7} 4 + 0 = \square$$

$$\textcircled{8} 0 + 10 = \square$$

$$\textcircled{9} 5 + 0 = \square$$

$$\textcircled{10} 0 + 2 = \square$$

$$\textcircled{11} 0 + 3 = \square$$

■ ひきざんをしましょう。

① $1 - 0 =$

② $8 - 8 =$

③ $2 - 2 =$

④ $9 - 0 =$

⑤ $5 - 5 =$

⑥ $9 - 9 =$

⑦ $6 - 0 =$

⑧ $5 - 0 =$

⑨ $10 - 10 =$

⑩ $7 - 7 =$

⑪ $4 - 0 =$

⑫ $3 - 0 =$



■ すうじで かきましょう。

① $10 + 10 + 10 + 10 + 1 + 1 + 1 + 1 =$

② $10 + 10 + 10 + 10 + 10 + 10 + 10 + 1 + 1 + 1 + 1 + 1 =$

③ $10 + 10 + 10 + 1 =$

④ $10 + 10 + 10 + 10 + 10 + 10 + 1 + 1 + 1 =$

⑤ $10 + 1 + 1 + 1 + 1 + 1 + 1 + 1 + 1 + 1 + 1 =$

⑥ $10 + 10 + 10 + 10 + 10 + 10 + 10 + 1 + 1 + 1 + 1 + 1 =$

■ おおきいほうの かずに
まるをつけましょう。

① 71 と 91

② 28 と 17

③ 61 と 50

④ 27 と 38

⑤ 64 と 39

⑥ 70 と 67

⑦ 85 と 13

⑧ 31 と 47

⑨ 42 と 16

⑩ 68 と 86



■ おおきいほうの かずに
まるをつけましょう。

① 24 と 12

② 44 と 95

③ 76 と 20

④ 63 と 19

⑤ 22 と 73

⑥ 15 と 35

⑦ 14 と 90

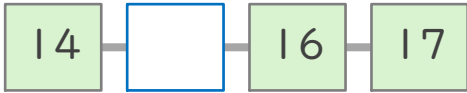
⑧ 69 と 62

⑨ 21 と 52

⑩ 45 と 18

■ しかくにあてはまる
かずをかきましょう。

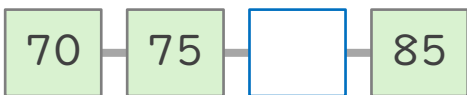
①



②



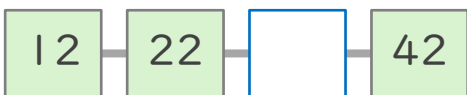
③



④



⑤



⑥



⑦



■ とけいをよみましょう。

①



②



③



④



⑤



⑥



■ とけいを よみましょう。

①



②



③



④



⑤



⑥





■ たしざんを しましょう。

① $30 + 20 =$

② $20 + 70 =$

③ $40 + 30 =$

④ $30 + 70 =$

⑤ $50 + 10 =$

⑥ $10 + 40 =$

⑦ $10 + 30 =$

⑧ $20 + 10 =$

⑨ $10 + 90 =$

⑩ $50 + 50 =$

⑪ $40 + 40 =$

⑫ $20 + 50 =$

■ ひきざんをしましょう。

$$\textcircled{1} 40 - 20 = \square$$

$$\textcircled{2} 80 - 10 = \square$$

$$\textcircled{3} 80 - 20 = \square$$

$$\textcircled{4} 100 - 50 = \square$$

$$\textcircled{5} 60 - 10 = \square$$

$$\textcircled{6} 50 - 40 = \square$$

$$\textcircled{7} 40 - 10 = \square$$

$$\textcircled{8} 30 - 20 = \square$$

$$\textcircled{9} 100 - 90 = \square$$

$$\textcircled{10} 100 - 20 = \square$$

$$\textcircled{11} 100 - 70 = \square$$

$$\textcircled{12} 90 - 10 = \square$$



■ たしざんをしましょう。

$$\textcircled{1} 50 + 9 = \square$$

$$\textcircled{2} 80 + 5 = \square$$

$$\textcircled{3} 70 + 9 = \square$$

$$\textcircled{4} 80 + 6 = \square$$

$$\textcircled{5} 70 + 3 = \square$$

$$\textcircled{6} 50 + 4 = \square$$

$$\textcircled{7} 30 + 2 = \square$$

$$\textcircled{8} 20 + 1 = \square$$

$$\textcircled{9} 10 + 7 = \square$$

$$\textcircled{10} 10 + 5 = \square$$

$$\textcircled{11} 90 + 2 = \square$$

$$\textcircled{12} 90 + 8 = \square$$

■ ひきざんを しましょう。

$$\textcircled{1} 75 - 5 = \square$$

$$\textcircled{2} 79 - 9 = \square$$

$$\textcircled{3} 81 - 1 = \square$$

$$\textcircled{4} 41 - 1 = \square$$

$$\textcircled{5} 29 - 9 = \square$$

$$\textcircled{6} 88 - 8 = \square$$

$$\textcircled{7} 63 - 3 = \square$$

$$\textcircled{8} 36 - 6 = \square$$

$$\textcircled{9} 97 - 7 = \square$$

$$\textcircled{10} 33 - 3 = \square$$

$$\textcircled{11} 66 - 6 = \square$$

$$\textcircled{12} 55 - 5 = \square$$



■ たしざんを しましょう。

$$\textcircled{1} 86 + 2 = \square$$

$$\textcircled{2} 41 + 3 = \square$$

$$\textcircled{3} 21 + 8 = \square$$

$$\textcircled{4} 31 + 1 = \square$$

$$\textcircled{5} 83 + 6 = \square$$

$$\textcircled{6} 62 + 2 = \square$$

$$\textcircled{7} 12 + 1 = \square$$

$$\textcircled{8} 52 + 7 = \square$$

$$\textcircled{9} 32 + 5 = \square$$

$$\textcircled{10} 73 + 5 = \square$$

$$\textcircled{11} 53 + 4 = \square$$

$$\textcircled{12} 94 + 1 = \square$$

■ ひきざんをしましょう。

① $28 - 6 =$

② $28 - 7 =$

③ $67 - 1 =$

④ $32 - 1 =$

⑤ $57 - 3 =$

⑥ $76 - 4 =$

⑦ $84 - 1 =$

⑧ $93 - 1 =$

⑨ $16 - 5 =$

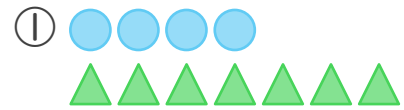
⑩ $44 - 2 =$

⑪ $55 - 4 =$

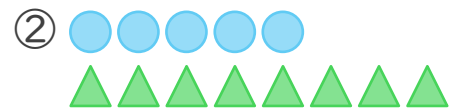
⑫ $89 - 6 =$



■ ● と ▲ ではどちらが
なんこおおいですか。



が がおおい



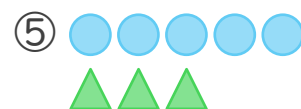
が がおおい



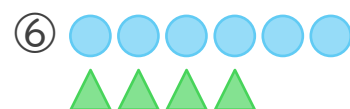
が がおおい



が がおおい

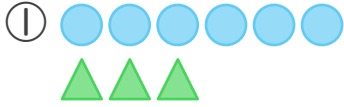


が がおおい

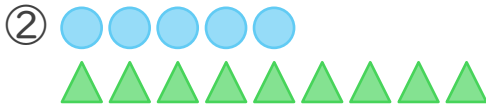


が がおおい

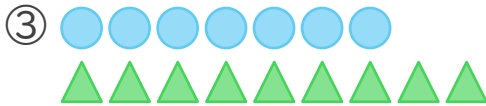
■ ● と ▲ ではどちらが
 なんこ おおい ですか。



が こ おおい



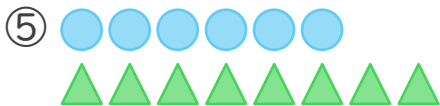
が こ おおい



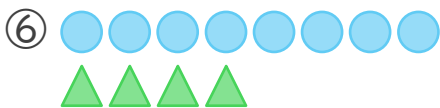
が こ おおい



が こ おおい



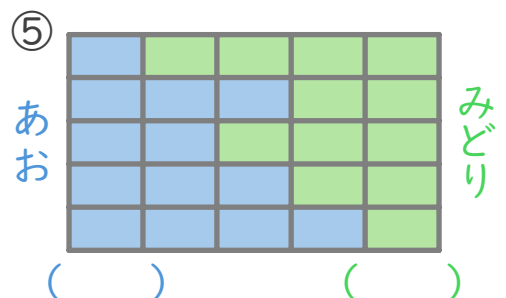
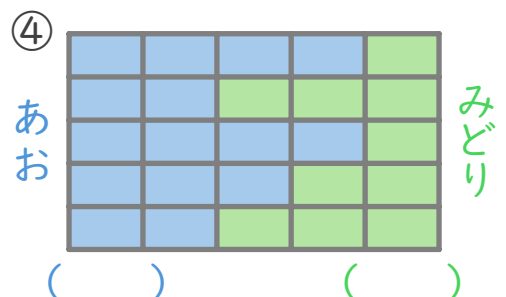
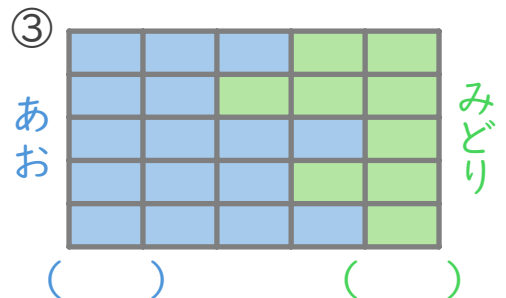
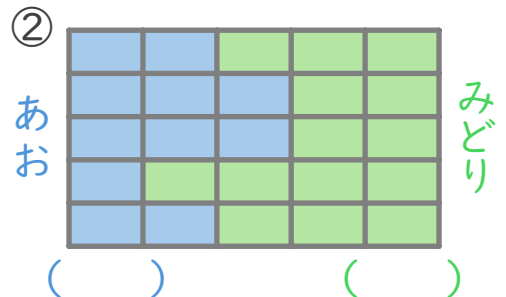
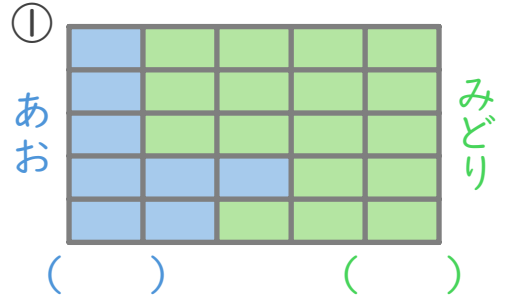
が こ おおい



が こ おおい



■ ひろい ほう の かっこ に
 まる を つけ ましょう。



01

kyozai-okiba.com
たしざん(2)

がつ 日にち

■ たしざんをしましょう。

① $7 + 7 = 14$

② $5 + 6 = 11$

③ $2 + 9 = 11$

④ $8 + 8 = 16$

⑤ $6 + 8 = 14$

⑥ $8 + 7 = 15$

⑦ $4 + 8 = 12$

⑧ $6 + 6 = 12$

⑨ $5 + 9 = 14$

⑩ $7 + 6 = 13$

⑪ $5 + 8 = 13$

⑫ $9 + 8 = 17$



02

kyozai-okiba.com
たしざん(2)

がつ 日にち

■ たしざんをしましょう。

① $8 + 3 = 11$

② $9 + 9 = 18$

③ $4 + 9 = 13$

④ $9 + 6 = 15$

⑤ $7 + 5 = 12$

⑥ $4 + 7 = 11$

⑦ $3 + 9 = 12$

⑧ $9 + 7 = 16$

⑨ $6 + 7 = 13$

⑩ $9 + 5 = 14$

⑪ $9 + 2 = 11$

⑫ $8 + 4 = 12$

03

たしざん(2)

■ たしいカードにまるをつけましょう。

① たして14になる

$7 + 8$

$6 + 9$

$8 + 6$

$6 + 7$

② たして11になる

$9 + 4$

$9 + 3$

$6 + 5$

$7 + 5$

③ たして13になる

$7 + 6$

$9 + 2$

$9 + 5$

$8 + 4$

④ たして12になる

$7 + 4$

$8 + 5$

$8 + 3$

$6 + 6$

⑤ たして15になる

$8 + 8$

$9 + 6$

$9 + 7$

$7 + 7$



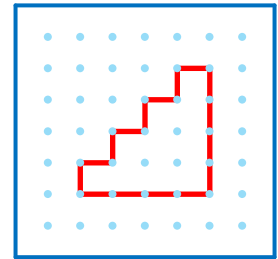
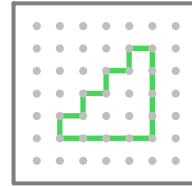
04

かたちづくり

■ おてほんをまねしててんをつなぎましょう。

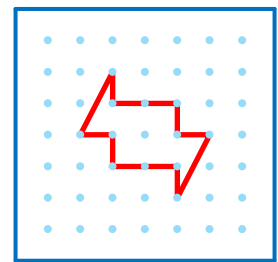

①

おてほん





②

おてほん



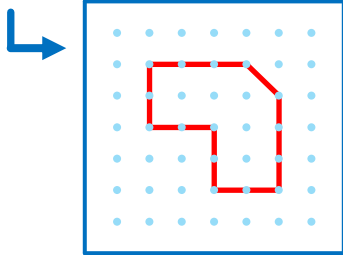
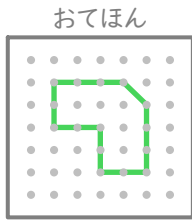
③

おてほん

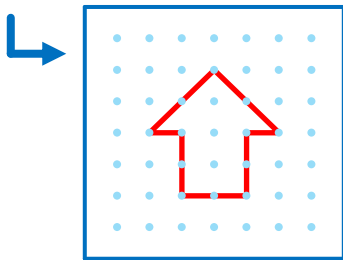
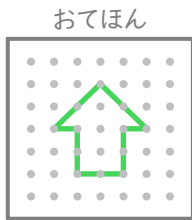


■ おてほんをまねして
てんをつなぎましょう。

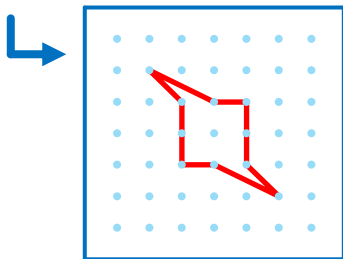
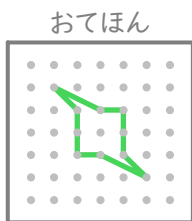
①



②



③



■ ひきざんをしましょう。

$$\textcircled{1} 14 - 7 = \boxed{7}$$

$$\textcircled{2} 12 - 8 = \boxed{4}$$

$$\textcircled{3} 16 - 8 = \boxed{8}$$

$$\textcircled{4} 13 - 8 = \boxed{5}$$

$$\textcircled{5} 11 - 9 = \boxed{2}$$

$$\textcircled{6} 12 - 6 = \boxed{6}$$

$$\textcircled{7} 15 - 7 = \boxed{8}$$

$$\textcircled{8} 12 - 9 = \boxed{3}$$

$$\textcircled{9} 11 - 8 = \boxed{3}$$

$$\textcircled{10} 12 - 5 = \boxed{7}$$

$$\textcircled{11} 11 - 6 = \boxed{5}$$

$$\textcircled{12} 13 - 4 = \boxed{9}$$

07

ひきざん(2)

■ ひきざんをしましょう。

① $11 - 4 = 7$

② $17 - 9 = 8$

③ $14 - 9 = 5$

④ $15 - 6 = 9$

⑤ $13 - 6 = 7$

⑥ $18 - 9 = 9$

⑦ $16 - 7 = 9$

⑧ $14 - 8 = 6$

⑨ $12 - 6 = 6$

⑩ $13 - 9 = 4$

⑪ $13 - 5 = 8$

⑫ $14 - 7 = 7$



08

ひきざん(2)

■ しかくにはいるかずをかきましょう。

① $9 + 3 = 12$

② $8 + 8 = 16$

③ $8 + 6 = 14$

④ $4 + 9 = 13$

⑤ $4 + 7 = 11$

⑥ $9 + 5 = 14$

⑦ $6 + 6 = 12$

⑧ $9 + 7 = 16$

⑨ $9 + 9 = 18$

⑩ $4 + 8 = 12$

⑪ $7 + 7 = 14$

⑫ $9 + 2 = 11$

■ しかくにはいるかずをかきましょう。

$$\textcircled{1} 15 - \boxed{6} = 9$$

$$\textcircled{2} 17 - \boxed{9} = 8$$

$$\textcircled{3} 12 - \boxed{5} = 7$$

$$\textcircled{4} 11 - \boxed{8} = 3$$

$$\textcircled{5} 13 - \boxed{8} = 5$$

$$\textcircled{6} 15 - \boxed{7} = 8$$

$$\textcircled{7} 11 - \boxed{5} = 6$$

$$\textcircled{8} 13 - \boxed{7} = 6$$

$$\textcircled{9} 16 - \boxed{8} = 8$$

$$\textcircled{10} 16 - \boxed{9} = 7$$

$$\textcircled{11} 12 - \boxed{4} = 8$$

$$\textcircled{12} 14 - \boxed{9} = 5$$



■ たしざんをしましょう。

$$\textcircled{1} 7 + 0 = \boxed{7}$$

$$\textcircled{2} 0 + 8 = \boxed{8}$$

$$\textcircled{3} 0 + 1 = \boxed{1}$$

$$\textcircled{4} 0 + 0 = \boxed{0}$$

$$\textcircled{5} 0 + 6 = \boxed{6}$$

$$\textcircled{6} 9 + 0 = \boxed{9}$$

$$\textcircled{7} 4 + 0 = \boxed{4}$$

$$\textcircled{8} 0 + 10 = \boxed{10}$$

$$\textcircled{9} 5 + 0 = \boxed{5}$$

$$\textcircled{10} 0 + 2 = \boxed{2}$$

$$\textcircled{11} 0 + 3 = \boxed{3}$$

■ ひきざんをしましょう。

$$\textcircled{1} \quad 1 - 0 = \boxed{1}$$

$$\textcircled{2} \quad 8 - 8 = \boxed{0}$$

$$\textcircled{3} \quad 2 - 2 = \boxed{0}$$

$$\textcircled{4} \quad 9 - 0 = \boxed{9}$$

$$\textcircled{5} \quad 5 - 5 = \boxed{0}$$

$$\textcircled{6} \quad 9 - 9 = \boxed{0}$$

$$\textcircled{7} \quad 6 - 0 = \boxed{6}$$

$$\textcircled{8} \quad 5 - 0 = \boxed{5}$$

$$\textcircled{9} \quad 10 - 10 = \boxed{0}$$

$$\textcircled{10} \quad 7 - 7 = \boxed{0}$$

$$\textcircled{11} \quad 4 - 0 = \boxed{4}$$

$$\textcircled{12} \quad 3 - 0 = \boxed{3}$$



■ すうじで かきましょう。

$$\textcircled{1} \quad \begin{array}{cccccc} 10 & 10 & 10 & 10 & 1 & 1 & 1 \\ & & & & 1 & & \end{array} \quad \boxed{44}$$

$$\textcircled{2} \quad \begin{array}{cccccc} 10 & 10 & 10 & 10 & 10 & 10 \\ 10 & 10 & 10 & 1 & 1 & 1 & 1 \\ 1 & 1 & & & & & \end{array} \quad \boxed{96}$$

$$\textcircled{3} \quad \begin{array}{cccc} 10 & 10 & 10 & 1 \end{array} \quad \boxed{31}$$

$$\textcircled{4} \quad \begin{array}{cccccc} 10 & 10 & 10 & 10 & 10 & 10 \\ 1 & 1 & 1 & & & \end{array} \quad \boxed{63}$$

$$\textcircled{5} \quad \begin{array}{cccccc} 10 & 1 & 1 & 1 & 1 & 1 & 1 \\ 1 & 1 & 1 & & & & \end{array} \quad \boxed{19}$$

$$\textcircled{6} \quad \begin{array}{cccccc} 10 & 10 & 10 & 10 & 10 & 10 \\ 10 & 1 & 1 & 1 & 1 & 1 \end{array} \quad \boxed{75}$$

■ おおきいほうの かずに
まるをつけましょう。

① 71 と 91

② 28 と 17

③ 61 と 50

④ 27 と 38

⑤ 64 と 39

⑥ 70 と 67

⑦ 85 と 13

⑧ 31 と 47

⑨ 42 と 16

⑩ 68 と 86



■ おおきいほうの かずに
まるをつけましょう。

① 24 と 12

② 44 と 95

③ 76 と 20

④ 63 と 19

⑤ 22 と 73

⑥ 15 と 35

⑦ 14 と 90

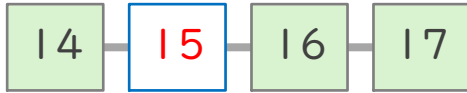
⑧ 69 と 62

⑨ 21 と 52

⑩ 45 と 18

■ しかくにあてはまる
かずをかきましょう。

①



②



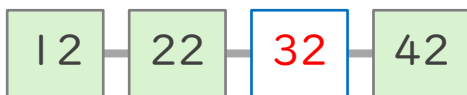
③



④



⑤



⑥



⑦



■ とけいをよみましょう。

①



12じ 29ぶん

②



6じ 52ぶん

③



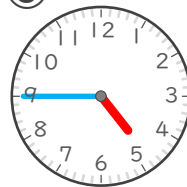
5じ 20ぶん

④



8じ 41ぶん

⑤



4じ 45ぶん

⑥



11じ 11ぶん

■ とけいを よみましょう。

①



1じ 18ぷん

②



10じ 37ぷん

③



2じ 2ぷん

④



7じ 9ぷん

⑤



9じ 58ぷん

⑥



3じ 33ぷん



■ たしざんを しましょう。

① $30 + 20 = 50$

② $20 + 70 = 90$

③ $40 + 30 = 70$

④ $30 + 70 = 100$

⑤ $50 + 10 = 60$

⑥ $10 + 40 = 50$

⑦ $10 + 30 = 40$

⑧ $20 + 10 = 30$

⑨ $10 + 90 = 100$

⑩ $50 + 50 = 100$

⑪ $40 + 40 = 80$

⑫ $20 + 50 = 70$

■ ひきざんを しましょう。

$$\textcircled{1} 40 - 20 = 20$$

$$\textcircled{2} 80 - 10 = 70$$

$$\textcircled{3} 80 - 20 = 60$$

$$\textcircled{4} 100 - 50 = 50$$

$$\textcircled{5} 60 - 10 = 50$$

$$\textcircled{6} 50 - 40 = 10$$

$$\textcircled{7} 40 - 10 = 30$$

$$\textcircled{8} 30 - 20 = 10$$

$$\textcircled{9} 100 - 90 = 10$$

$$\textcircled{10} 100 - 20 = 80$$

$$\textcircled{11} 100 - 70 = 30$$

$$\textcircled{12} 90 - 10 = 80$$



■ たしざんを しましょう。

$$\textcircled{1} 50 + 9 = 59$$

$$\textcircled{2} 80 + 5 = 85$$

$$\textcircled{3} 70 + 9 = 79$$

$$\textcircled{4} 80 + 6 = 86$$

$$\textcircled{5} 70 + 3 = 73$$

$$\textcircled{6} 50 + 4 = 54$$

$$\textcircled{7} 30 + 2 = 32$$

$$\textcircled{8} 20 + 1 = 21$$

$$\textcircled{9} 10 + 7 = 17$$

$$\textcircled{10} 10 + 5 = 15$$

$$\textcircled{11} 90 + 2 = 92$$

$$\textcircled{12} 90 + 8 = 98$$

■ ひきざんを しましょう。

$$\textcircled{1} 75 - 5 = 70$$

$$\textcircled{2} 79 - 9 = 70$$

$$\textcircled{3} 81 - 1 = 80$$

$$\textcircled{4} 41 - 1 = 40$$

$$\textcircled{5} 29 - 9 = 20$$

$$\textcircled{6} 88 - 8 = 80$$

$$\textcircled{7} 63 - 3 = 60$$

$$\textcircled{8} 36 - 6 = 30$$

$$\textcircled{9} 97 - 7 = 90$$

$$\textcircled{10} 33 - 3 = 30$$

$$\textcircled{11} 66 - 6 = 60$$

$$\textcircled{12} 55 - 5 = 50$$



■ たしざんを しましょう。

$$\textcircled{1} 86 + 2 = 88$$

$$\textcircled{2} 41 + 3 = 44$$

$$\textcircled{3} 21 + 8 = 29$$

$$\textcircled{4} 31 + 1 = 32$$

$$\textcircled{5} 83 + 6 = 89$$

$$\textcircled{6} 62 + 2 = 64$$

$$\textcircled{7} 12 + 1 = 13$$

$$\textcircled{8} 52 + 7 = 59$$

$$\textcircled{9} 32 + 5 = 37$$

$$\textcircled{10} 73 + 5 = 78$$

$$\textcircled{11} 53 + 4 = 57$$

$$\textcircled{12} 94 + 1 = 95$$

■ ひきざんを しましょう。

① $28 - 6 =$ 22

② $28 - 7 =$ 21

③ $67 - 1 =$ 66

④ $32 - 1 =$ 31

⑤ $57 - 3 =$ 54

⑥ $76 - 4 =$ 72

⑦ $84 - 1 =$ 83

⑧ $93 - 1 =$ 92

⑨ $16 - 5 =$ 11

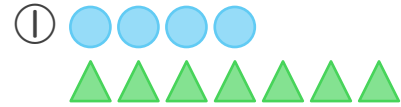
⑩ $44 - 2 =$ 42

⑪ $55 - 4 =$ 51

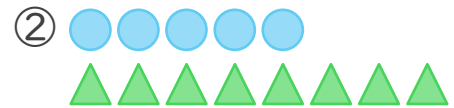
⑫ $89 - 6 =$ 83



■ ● と ▲ では どちらが
なんこ おおい ですか。



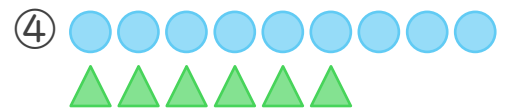
▲ が 3 こ おおい



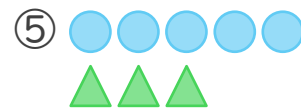
▲ が 3 こ おおい



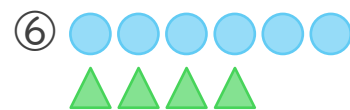
○ が 6 こ おおい



○ が 3 こ おおい

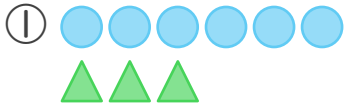


○ が 2 こ おおい

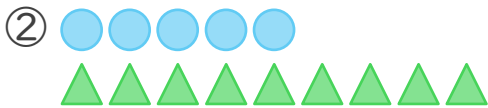


○ が 2 こ おおい

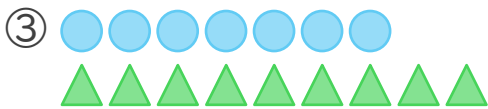
■ ● と ▲ ではどちらが
 なんこ おおい ですか。



が こ おおい



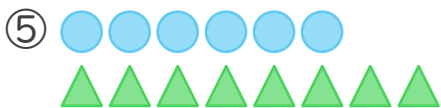
が こ おおい



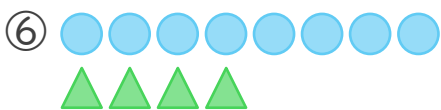
が こ おおい



が こ おおい



が こ おおい



が こ おおい



■ ひろい ほう の かっこ に
 まる を つけ ましょう。

