

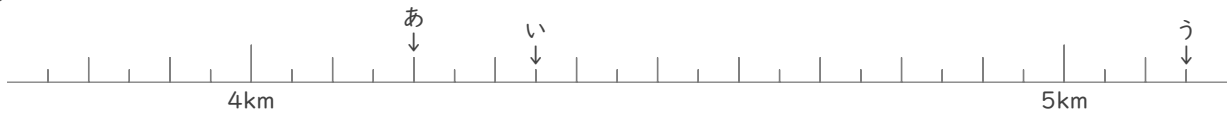
メートルとキロメートル

年 組 名前

/12

■ あ～しの矢印がさす長さを答えましょう。

①

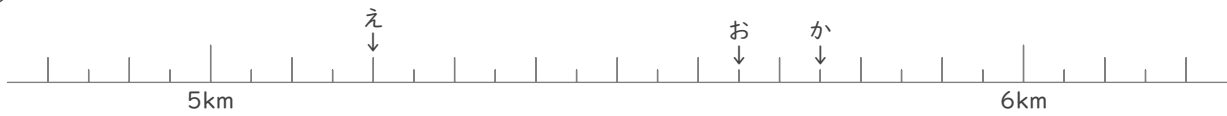


あ km m

い km m

う km m

②

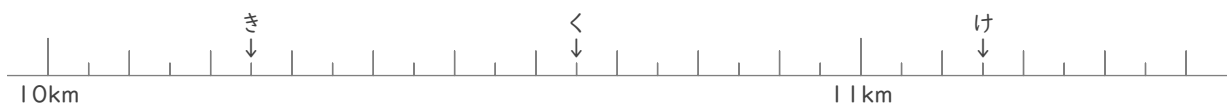


え km m

お km m

か km m

③

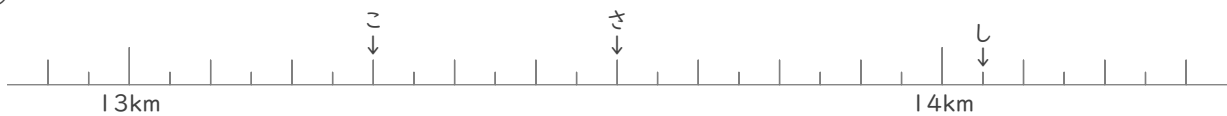


き km m

く km m

け km m

④



こ km m

さ km m

し km m

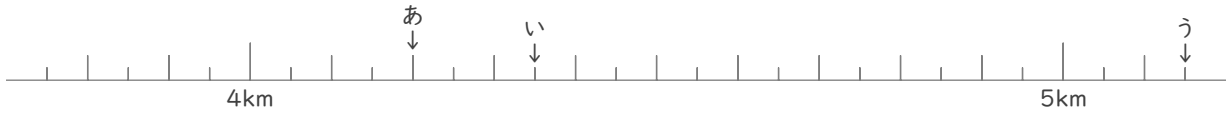
メートルとキロメートル

年 組 名前

/12

■ あ～しの矢印がさす長さを答えましょう。

①

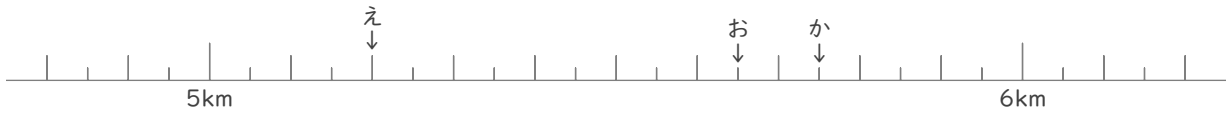


あ 4 km 200 m

い 4 km 350 m

う 5 km 150 m

②

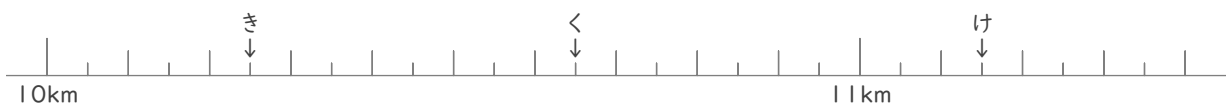


え 5 km 200 m

お 5 km 650 m

か 5 km 750 m

③

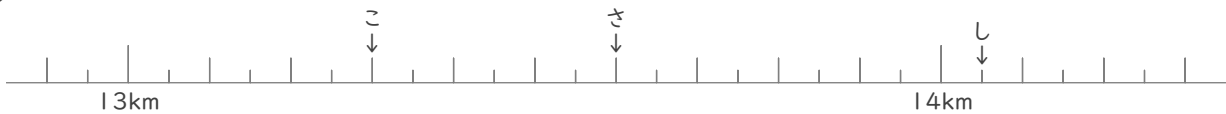


き 10 km 250 m

く 10 km 650 m

け 11 km 150 m

④



こ 13 km 300 m

さ 13 km 600 m

し 14 km 50 m