

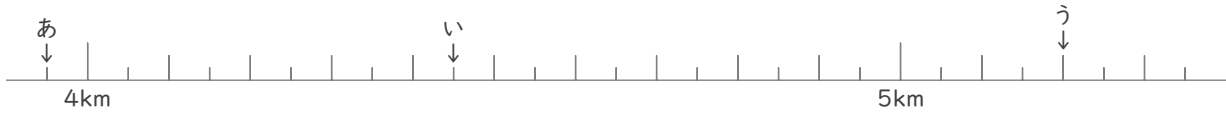
# メートルとキロメートル

年 組 名前

/12

■ あ～しの矢印がさす長さを答えましょう。

①



あ

km

m

い

km

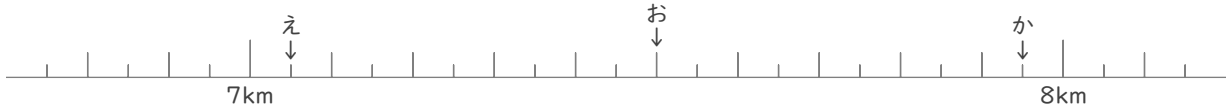
m

う

km

m

②



え

km

m

お

km

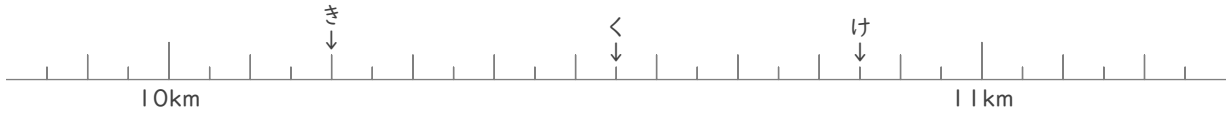
m

か

km

m

③



き

km

m

く

km

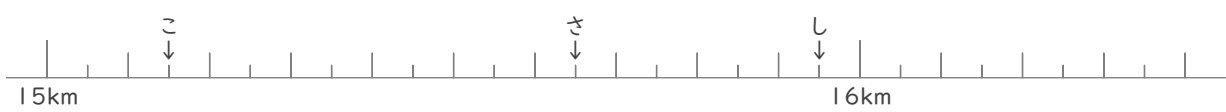
m

け

km

m

④



こ

km

m

さ

km

m

し

km

m

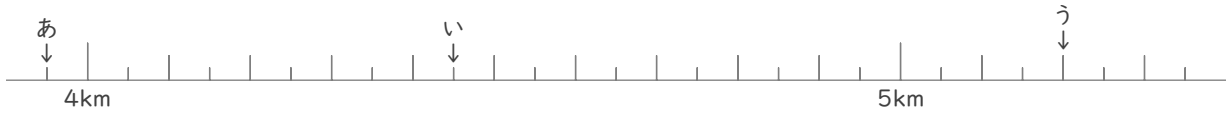
# メートルとキロメートル

年 組 名前

/12

■ あ～しの矢印がさす長さを答えましょう。

①

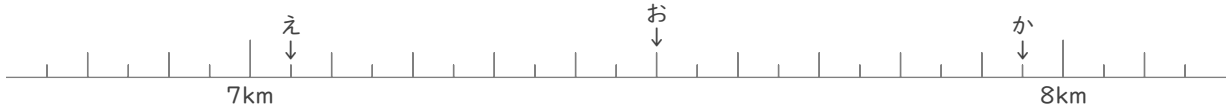


あ 3 km 950 m

い 4 km 450 m

う 5 km 200 m

②

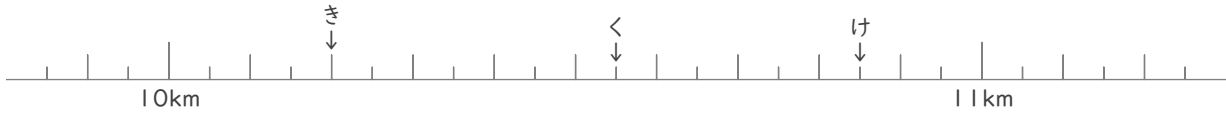


え 7 km 50 m

お 7 km 500 m

か 7 km 950 m

③

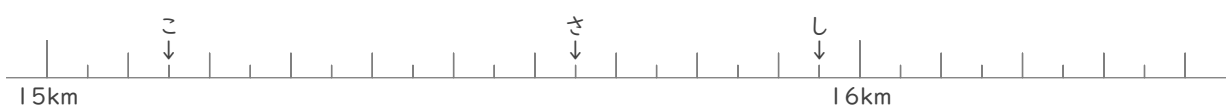


き 10 km 200 m

く 10 km 550 m

け 10 km 850 m

④



こ 15 km 150 m

さ 15 km 650 m

し 15 km 950 m