

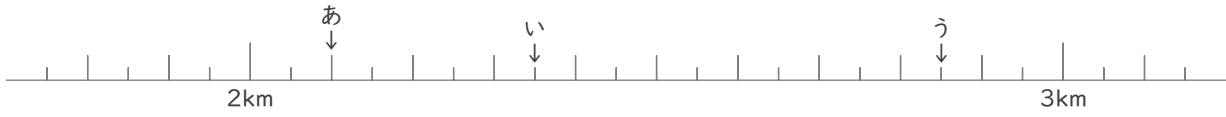
メートルとキロメートル

年 組 名前

/12

■ あ～しの矢印がさす長さを答えましょう。

①

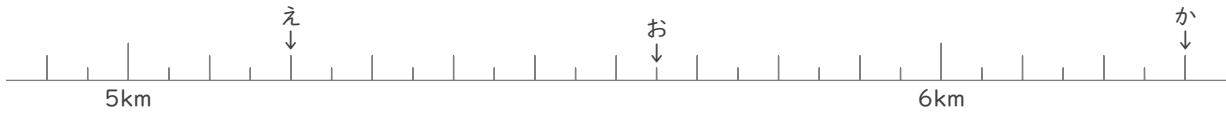


あ km m

い km m

う km m

②



え km m

お km m

か km m

③



き km m

く km m

け km m

④



こ km m

さ km m

し km m

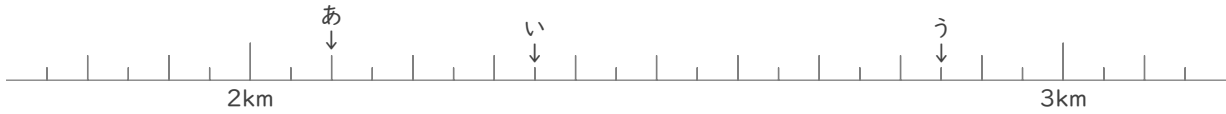
メートルとキロメートル

年 組 名前

/12

■ あ～しの矢印がさす長さを答えましょう。

①

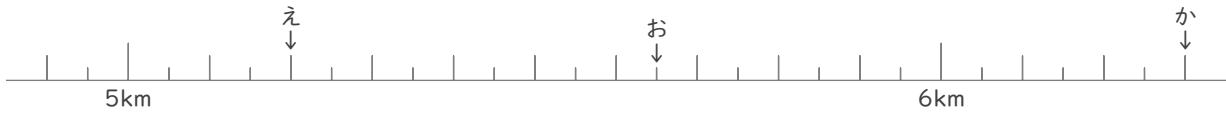


あ 2 km 100 m

い 2 km 350 m

う 2 km 850 m

②

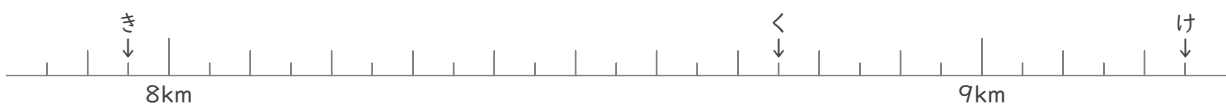


え 5 km 200 m

お 5 km 650 m

か 6 km 300 m

③



き 8 km 750 m

く 9 km 70 m

け 9 km 250 m

④



こ 12 km 50 m

さ 12 km 450 m

し 13 km 300 m