

メートルとキロメートル

年 組 名前

/12

■ あ～しの矢印がさす長さを答えましょう。

①



あ

km

m

い

km

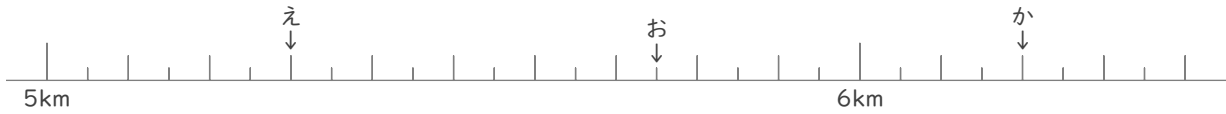
m

う

km

m

②



え

km

m

お

km

m

か

km

m

③



き

km

m

く

km

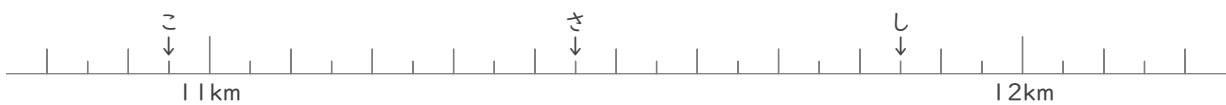
m

け

km

m

④



こ

km

m

さ

km

m

し

km

m

メートルとキロメートル

年 組 名前

/12

■ あ～しの矢印がさす長さを答えましょう。

①

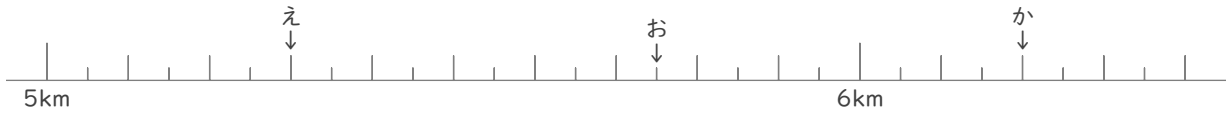


あ 2 km 250 m

い 2 km 850 m

う 2 km 900 m

②

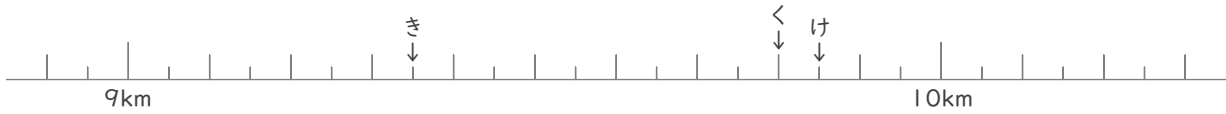


え 5 km 300 m

お 5 km 750 m

か 6 km 200 m

③

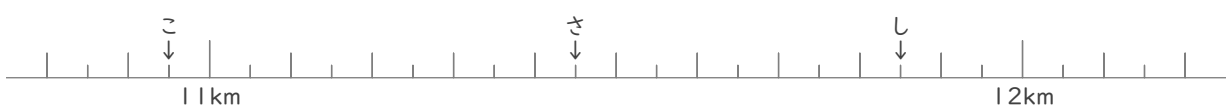


き 9 km 350 m

く 9 km 800 m

け 9 km 850 m

④



こ 10 km 950 m

さ 11 km 450 m

し 11 km 850 m