

# メートルとキロメートル

年 組 名前

/12

■ あ～しの矢印がさす長さを答えましょう。

①



あ

km

m

い

km

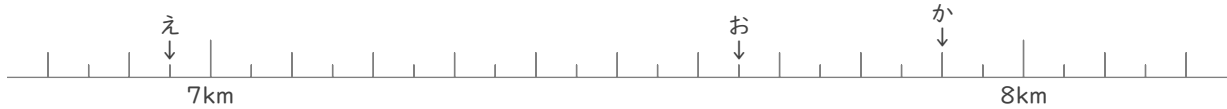
m

う

km

m

②



え

km

m

お

km

m

か

km

m

③



き

km

m

く

km

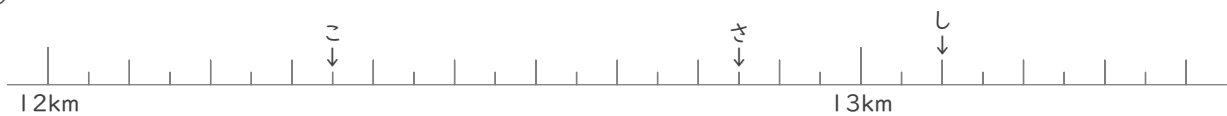
m

け

km

m

④



こ

km

m

さ

km

m

し

km

m

# メートルとキロメートル

年 組 名前

/12

■ あ～しの矢印がさす長さを答えましょう。

①

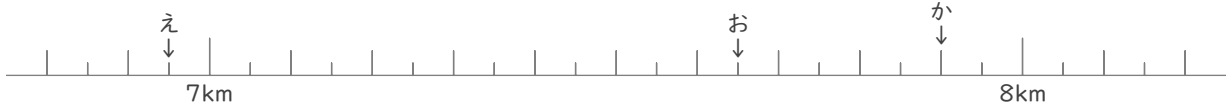


あ 2 km 350 m

い 2 km 550 m

う 3 km 50 m

②



え 6 km 950 m

お 7 km 650 m

か 7 km 900 m

③



き 10 km 100 m

く 10 km 350 m

け 10 km 900 m

④



こ 12 km 350 m

さ 12 km 850 m

し 13 km 100 m