

メートルとキロメートル

年 組 名前

/12

■ あ～しの矢印がさす長さを答えましょう。

①

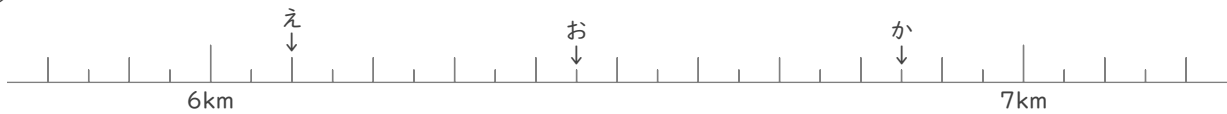


あ km m

い km m

う km m

②

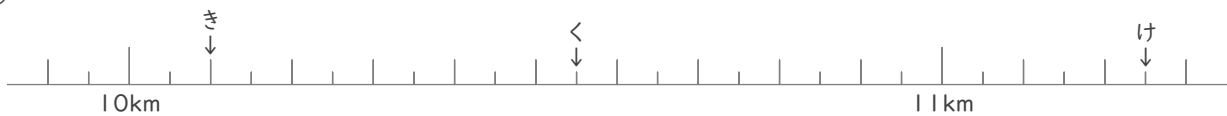


え km m

お km m

か km m

③



き km m

く km m

け km m

④



こ km m

さ km m

し km m

メートルとキロメートル

年 組 名前

/12

■ あ～しの矢印がさす長さを答えましょう。

①

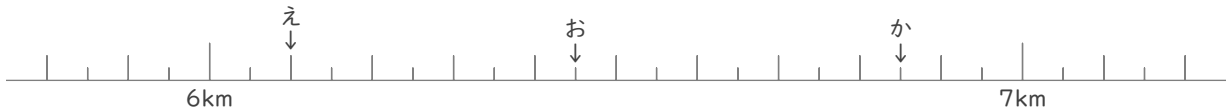


あ 3 km 50 m

い 3 km 450 m

う 3 km 850 m

②

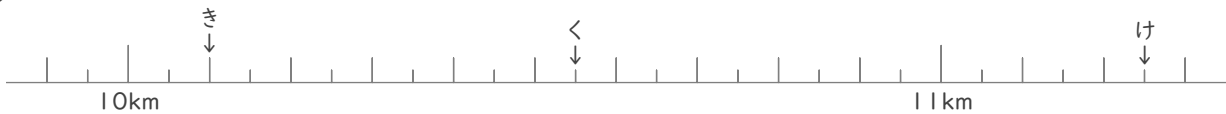


え 6 km 100 m

お 6 km 450 m

か 6 km 850 m

③



き 10 km 100 m

く 10 km 550 m

け 11 km 250 m

④



こ 15 km 350 m

さ 15 km 450 m

し 16 km 350 m