

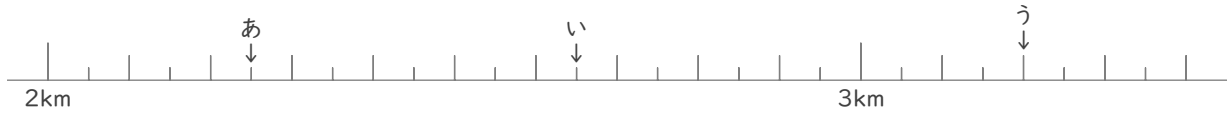
# メートルとキロメートル

年 組 名前

/12

■ あ～しの矢印がさす長さを答えましょう。

①



あ  km  m

い  km  m

う  km  m

②

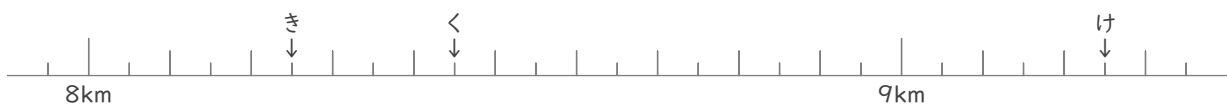


え  km  m

お  km  m

か  km  m

③

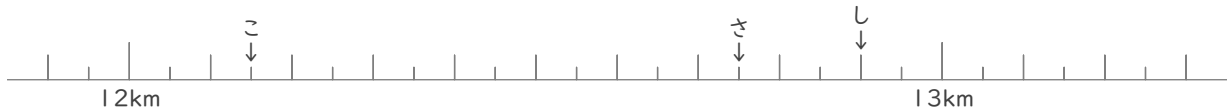


き  km  m

く  km  m

け  km  m

④



こ  km  m

さ  km  m

し  km  m

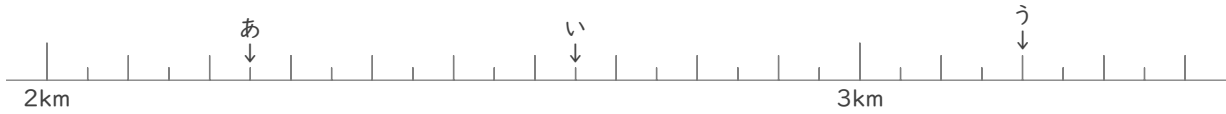
# メートルとキロメートル

年 組 名前

/12

■ あ～しの矢印がさす長さを答えましょう。

①



あ 2 km 250 m

い 2 km 650 m

う 3 km 200 m

②

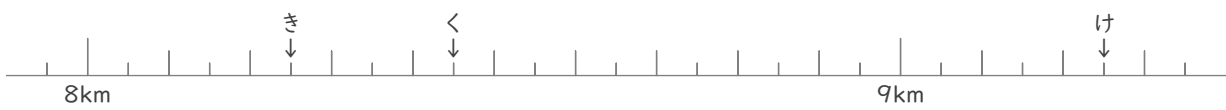


え 5 km 750 m

お 6 km 250 m

か 6 km 750 m

③

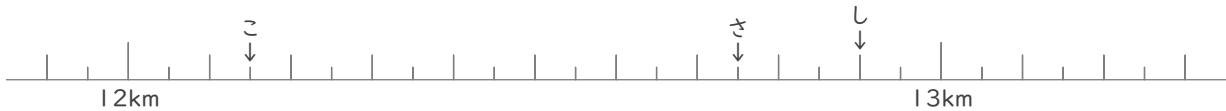


き 8 km 250 m

く 8 km 450 m

け 9 km 250 m

④



こ 12 km 150 m

さ 12 km 750 m

し 12 km 900 m