

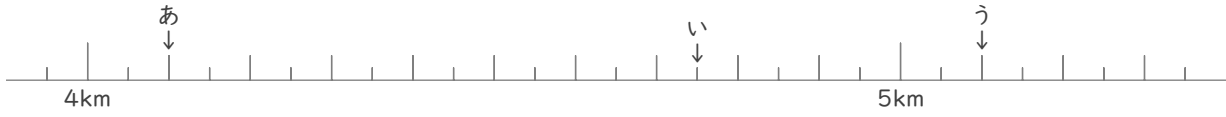
メートルとキロメートル

年 組 名前

/12

■ あ～しの矢印がさす長さを答えましょう。

①

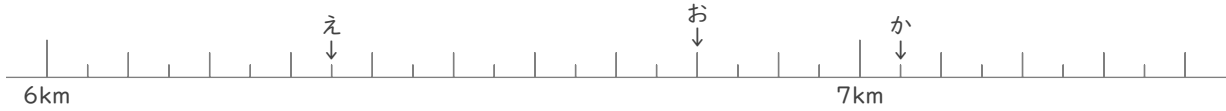


あ

い

う

②

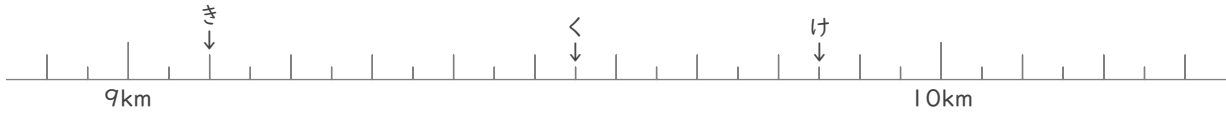


え

お

か

③

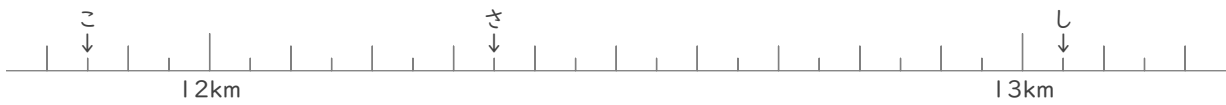


き

く

け

④



こ

さ

し

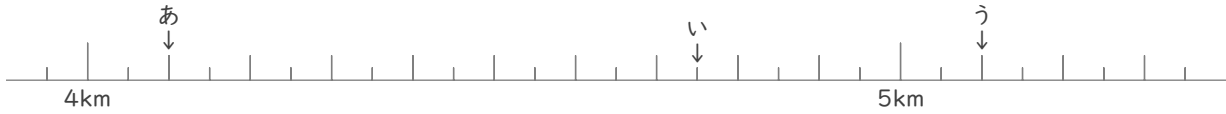
メートルとキロメートル

年 組 名前

/12

■ あ～しの矢印がさす長さを答えましょう。

①

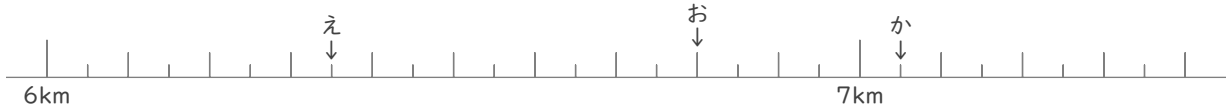


あ 4 km 100 m

い 4 km 750 m

う 5 km 100 m

②

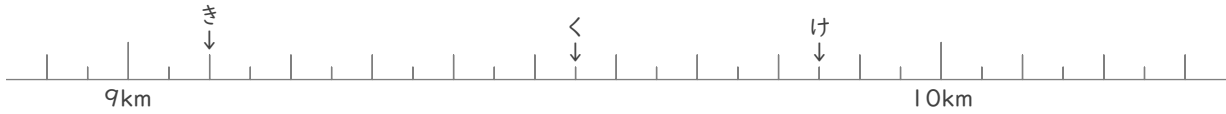


え 6 km 350 m

お 6 km 800 m

か 7 km 50 m

③

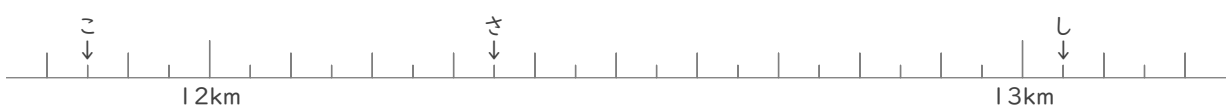


き 9 km 100 m

く 9 km 550 m

け 9 km 850 m

④



こ 11 km 850 m

さ 12 km 350 m

し 13 km 50 m