

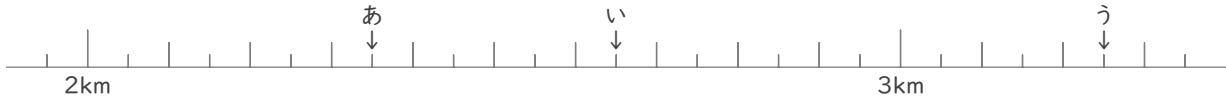
メートルとキロメートル

年 組 名前

/12

■ あ～しの矢印がさす長さを答えましょう。

①

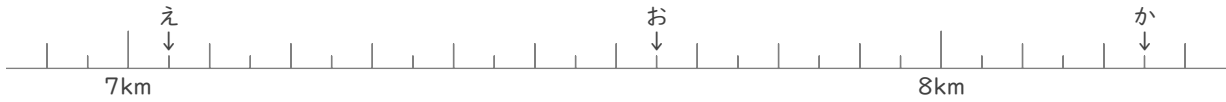


あ km m

い km m

う km m

②



え km m

お km m

か km m

③

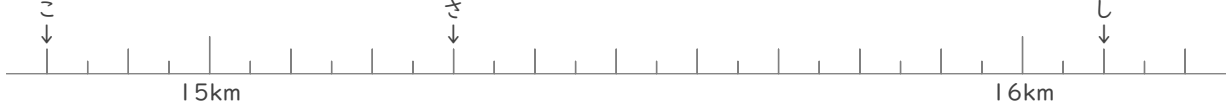


き km m

く km m

け km m

④



こ km m

さ km m

し km m

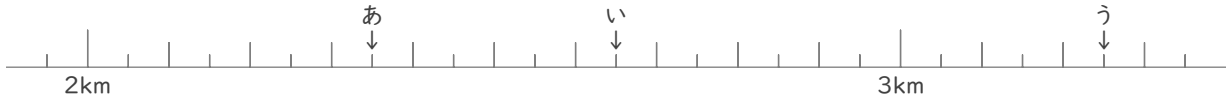
メートルとキロメートル

年 組 名前

/12

■ あ～しの矢印がさす長さを答えましょう。

①

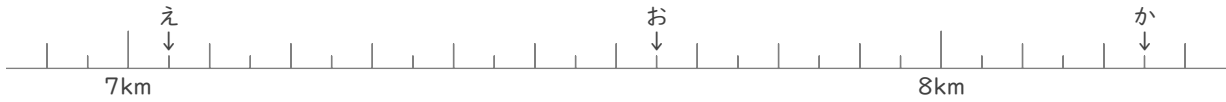


あ 2 km 350 m

い 2 km 650 m

う 3 km 250 m

②



え 7 km 50 m

お 7 km 650 m

か 8 km 250 m

③

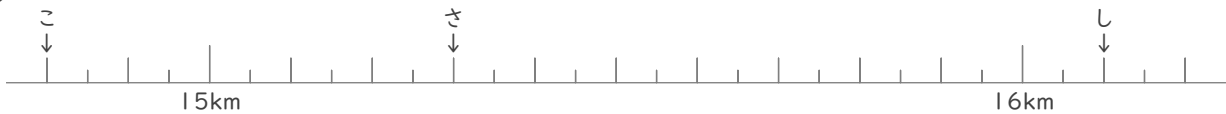


き 8 km 50 m

く 8 km 650 m

け 9 km 150 m

④



こ 14 km 800 m

さ 15 km 300 m

し 16 km 100 m