

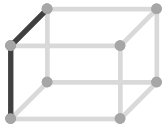
2辺の位置関係

____年 ____組 名前

/15

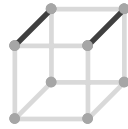
■ 次の立方体や直方体の、示された2辺の位置関係として正しいものを選び、○をつけて答えなさい。

①



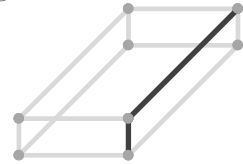
平行
垂直
ねじれ

⑥



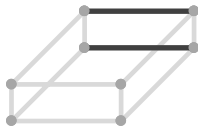
平行
垂直
ねじれ

⑪



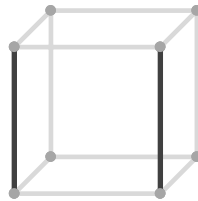
平行
垂直
ねじれ

②



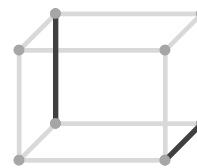
平行
垂直
ねじれ

⑦



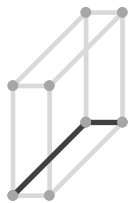
平行
垂直
ねじれ

⑫



平行
垂直
ねじれ

③



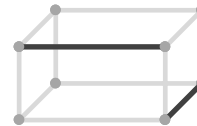
平行
垂直
ねじれ

⑧



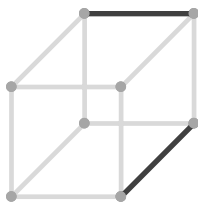
平行
垂直
ねじれ

⑬



平行
垂直
ねじれ

④



平行
垂直
ねじれ

⑨



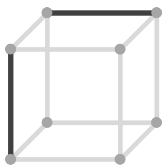
平行
垂直
ねじれ

⑭



平行
垂直
ねじれ

⑤



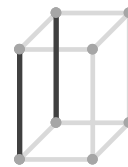
平行
垂直
ねじれ

⑩



平行
垂直
ねじれ

⑮



平行
垂直
ねじれ

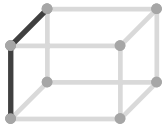
2辺の位置関係

____年 ____組 名前

/15

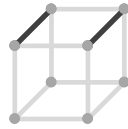
■ 次の立方体や直方体の、示された2辺の位置関係として正しいものを選び、○をつけて答えなさい。

①



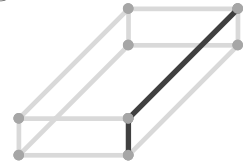
平行
 垂直
 ねじれ

⑥



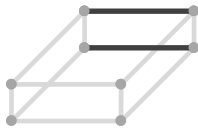
平行
 垂直
 ねじれ

⑪



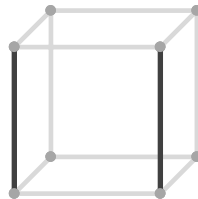
平行
 垂直
 ねじれ

②



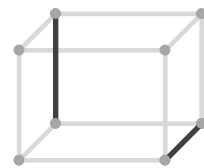
平行
 垂直
 ねじれ

⑦



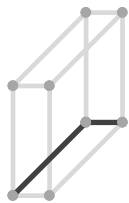
平行
 垂直
 ねじれ

⑫



平行
 垂直
 ねじれ

③



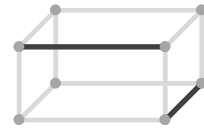
平行
 垂直
 ねじれ

⑧



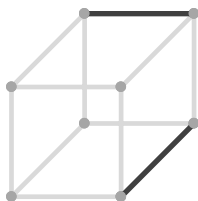
平行
 垂直
 ねじれ

⑬



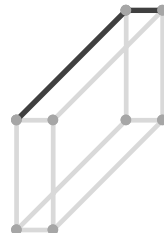
平行
 垂直
 ねじれ

④



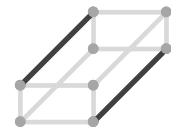
平行
 垂直
 ねじれ

⑨



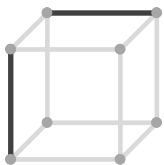
平行
 垂直
 ねじれ

⑭



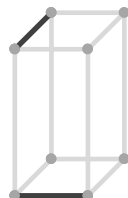
平行
 垂直
 ねじれ

⑤



平行
 垂直
 ねじれ

⑩



平行
 垂直
 ねじれ

⑮



平行
 垂直
 ねじれ