

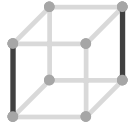
# 2辺の位置関係

\_\_\_\_年 \_\_\_\_組 名前

/15

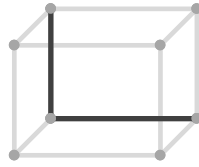
■ 次の立方体や直方体の、示された2辺の位置関係として正しいものを選び、○をつけて答えなさい。

①



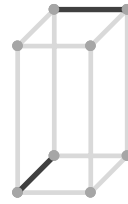
平行  
垂直  
ねじれ

⑥



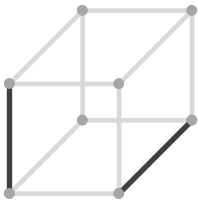
平行  
垂直  
ねじれ

⑪



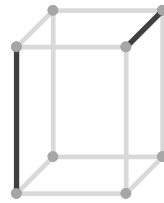
平行  
垂直  
ねじれ

②



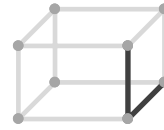
平行  
垂直  
ねじれ

⑦



平行  
垂直  
ねじれ

⑫



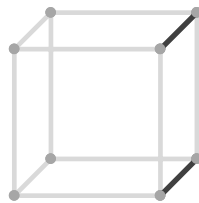
平行  
垂直  
ねじれ

③



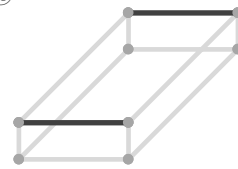
平行  
垂直  
ねじれ

⑧



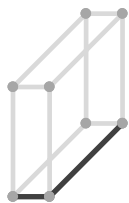
平行  
垂直  
ねじれ

⑬



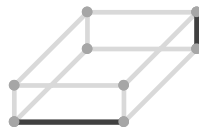
平行  
垂直  
ねじれ

④



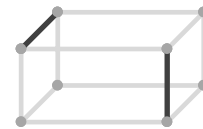
平行  
垂直  
ねじれ

⑨



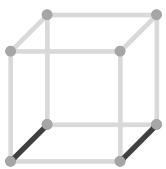
平行  
垂直  
ねじれ

⑭



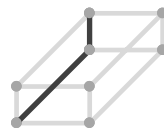
平行  
垂直  
ねじれ

⑤



平行  
垂直  
ねじれ

⑩



平行  
垂直  
ねじれ

⑮



平行  
垂直  
ねじれ

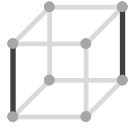
# 2辺の位置関係

\_\_\_\_年 \_\_\_\_組 名前

/15

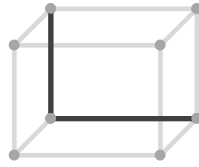
■ 次の立方体や直方体の、示された2辺の位置関係として正しいものを選び、○をつけて答えなさい。

①



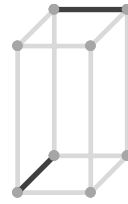
平行  
 垂直  
 ねじれ

⑥



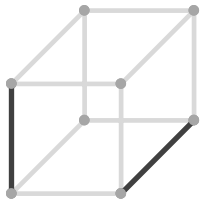
平行  
 垂直  
 ねじれ

⑪



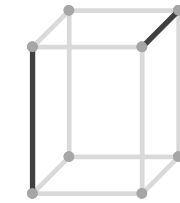
平行  
 垂直  
 ねじれ

②



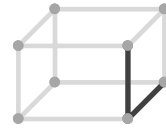
平行  
 垂直  
 ねじれ

⑦



平行  
 垂直  
 ねじれ

⑫



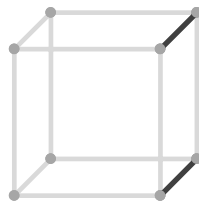
平行  
 垂直  
 ねじれ

③



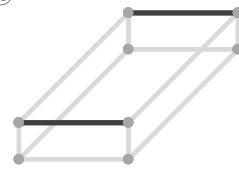
平行  
 垂直  
 ねじれ

⑧



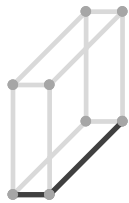
平行  
 垂直  
 ねじれ

⑬



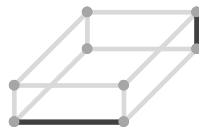
平行  
 垂直  
 ねじれ

④



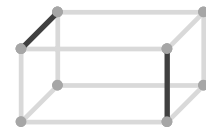
平行  
 垂直  
 ねじれ

⑨



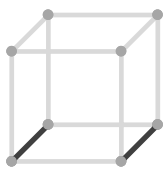
平行  
 垂直  
 ねじれ

⑭



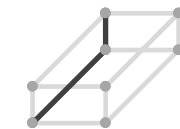
平行  
 垂直  
 ねじれ

⑤



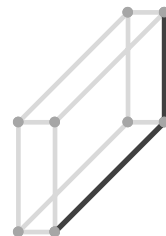
平行  
 垂直  
 ねじれ

⑩



平行  
 垂直  
 ねじれ

⑮



平行  
 垂直  
 ねじれ