

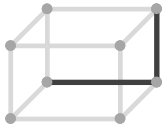
2辺の位置関係

____年 ____組 名前

/15

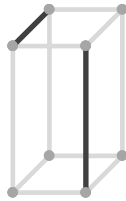
■ 次の立方体や直方体の、示された2辺の位置関係として正しいものを選び、○をつけて答えなさい。

①



平行
垂直
ねじれ

⑥



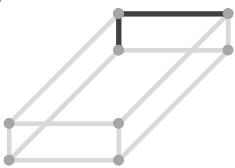
平行
垂直
ねじれ

⑪



平行
垂直
ねじれ

②



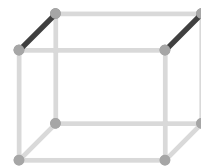
平行
垂直
ねじれ

⑦



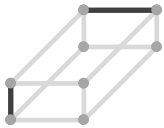
平行
垂直
ねじれ

⑫



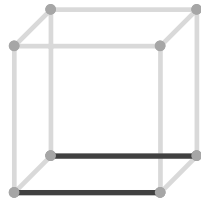
平行
垂直
ねじれ

③



平行
垂直
ねじれ

⑧



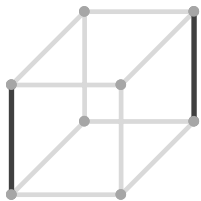
平行
垂直
ねじれ

⑬



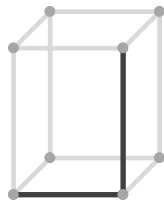
平行
垂直
ねじれ

④



平行
垂直
ねじれ

⑨



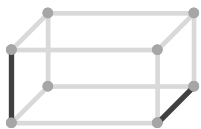
平行
垂直
ねじれ

⑭



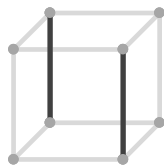
平行
垂直
ねじれ

⑤



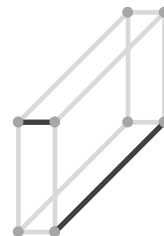
平行
垂直
ねじれ

⑩



平行
垂直
ねじれ

⑮



平行
垂直
ねじれ

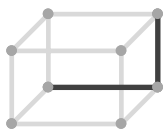
2辺の位置関係

____年 ____組 名前

/15

■ 次の立方体や直方体の、示された2辺の位置関係として正しいものを選び、○をつけて答えなさい。

①

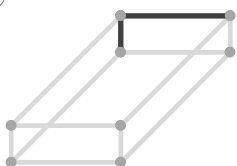


平行

垂直

ねじれ

②

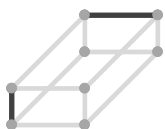


平行

垂直

ねじれ

③

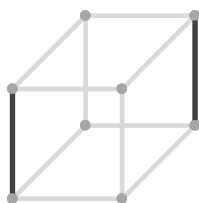


平行

垂直

ねじれ

④



平行

垂直

ねじれ

⑤

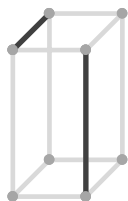


平行

垂直

ねじれ

⑥



平行

垂直

ねじれ

⑦

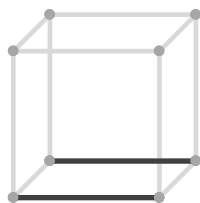


平行

垂直

ねじれ

⑧

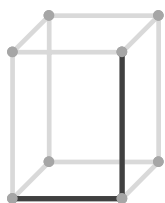


平行

垂直

ねじれ

⑨

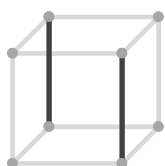


平行

垂直

ねじれ

⑩



平行

垂直

ねじれ

⑪

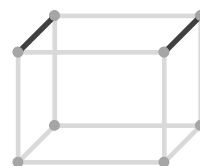


平行

垂直

ねじれ

⑫



平行

垂直

ねじれ

⑬



平行

垂直

ねじれ

⑭

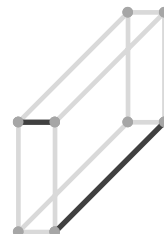


平行

垂直

ねじれ

⑮



平行

垂直

ねじれ