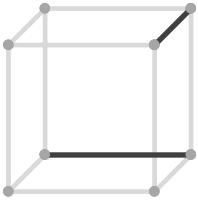


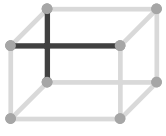
2辺の位置関係

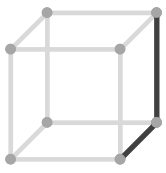
____年 ____組 名前

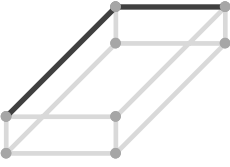
/15

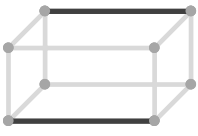
■ 次の立方体や直方体の、示された2辺の位置関係として正しいものを選び、○をつけて答えなさい。

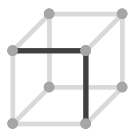
①  平行
垂直
ねじれ

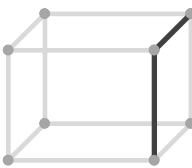
②  平行
垂直
ねじれ

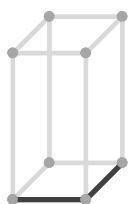
③  平行
垂直
ねじれ

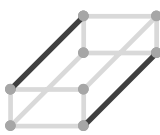
④  平行
垂直
ねじれ

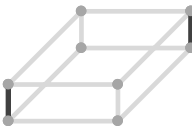
⑤  平行
垂直
ねじれ

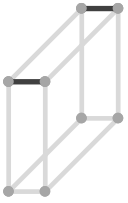
⑥  平行
垂直
ねじれ

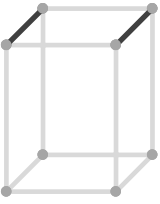
⑦  平行
垂直
ねじれ

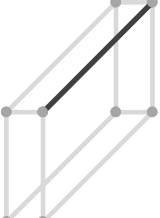
⑧  平行
垂直
ねじれ

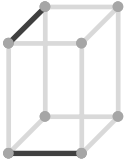
⑨  平行
垂直
ねじれ

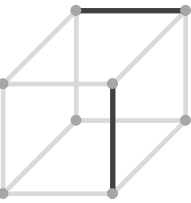
⑩  平行
垂直
ねじれ

⑪  平行
垂直
ねじれ

⑫  平行
垂直
ねじれ

⑬  平行
垂直
ねじれ

⑭  平行
垂直
ねじれ

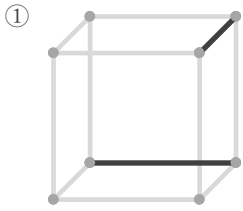
⑮  平行
垂直
ねじれ

2辺の位置関係

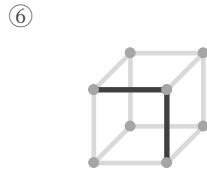
____年 ____組 名前

/15

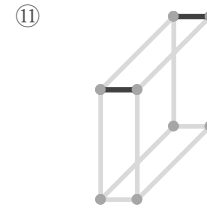
■ 次の立方体や直方体の、示された2辺の位置関係として正しいものを選び、○をつけて答えなさい。



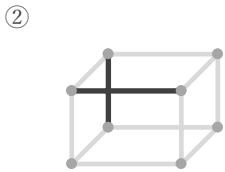
平行
垂直
 ねじれ



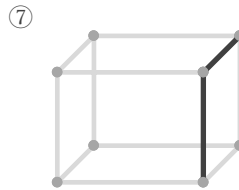
平行
 垂直
ねじれ



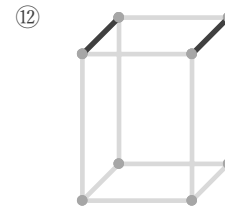
平行
垂直
ねじれ



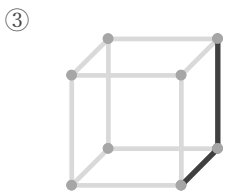
平行
垂直
 ねじれ



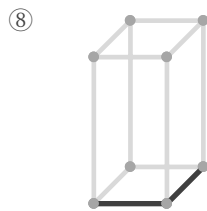
平行
 垂直
ねじれ



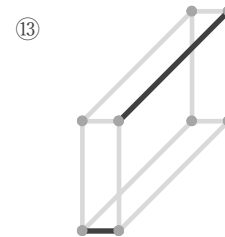
平行
垂直
ねじれ



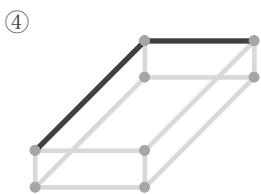
平行
 垂直
ねじれ



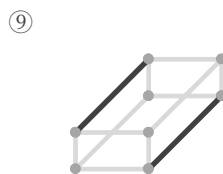
平行
 垂直
ねじれ



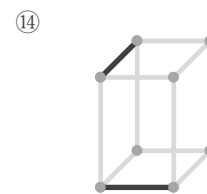
平行
垂直
 ねじれ



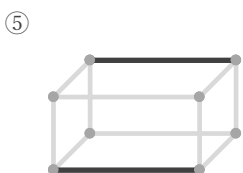
平行
 垂直
ねじれ



平行
垂直
ねじれ



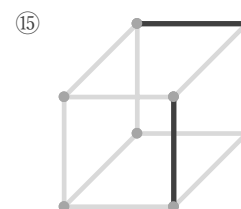
平行
垂直
 ねじれ



平行
垂直
ねじれ



平行
垂直
ねじれ



平行
垂直
 ねじれ