

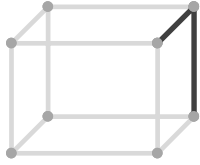
2辺の位置関係

____年 ____組 名前

/15

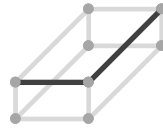
■ 次の立方体や直方体の、示された2辺の位置関係として正しいものを選び、○をつけて答えなさい。

①



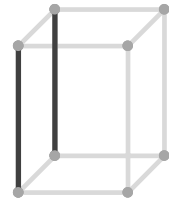
平行
垂直
ねじれ

⑥



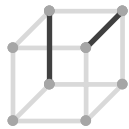
平行
垂直
ねじれ

⑪



平行
垂直
ねじれ

②



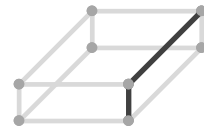
平行
垂直
ねじれ

⑦



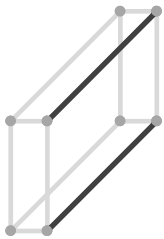
平行
垂直
ねじれ

⑫



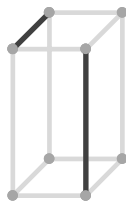
平行
垂直
ねじれ

③



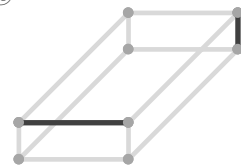
平行
垂直
ねじれ

⑧



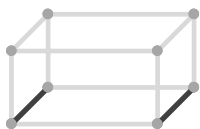
平行
垂直
ねじれ

⑬



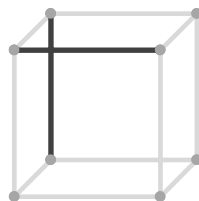
平行
垂直
ねじれ

④



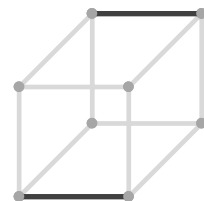
平行
垂直
ねじれ

⑨



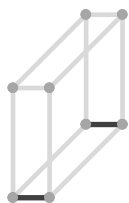
平行
垂直
ねじれ

⑭



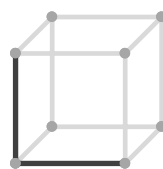
平行
垂直
ねじれ

⑤



平行
垂直
ねじれ

⑩



平行
垂直
ねじれ

⑮



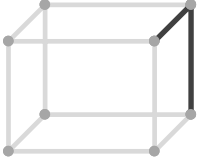
平行
垂直
ねじれ

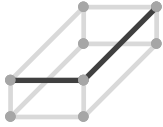
2辺の位置関係

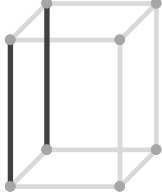
____年 ____組 名前

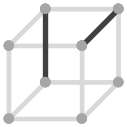
/15

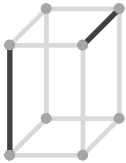
■ 次の立方体や直方体の、示された2辺の位置関係として正しいものを選び、○をつけて答えなさい。

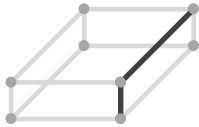
①  平行
 垂直
 ねじれ

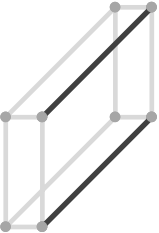
⑥  平行
 垂直
 ねじれ

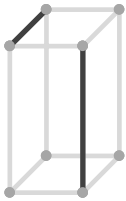
⑪  平行
 垂直
 ねじれ

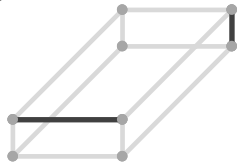
②  平行
 垂直
 ねじれ

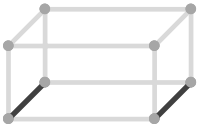
⑦  平行
 垂直
 ねじれ

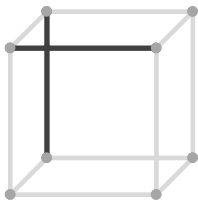
⑫  平行
 垂直
 ねじれ

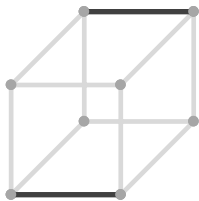
③  平行
 垂直
 ねじれ

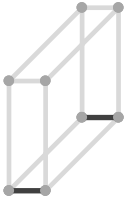
⑧  平行
 垂直
 ねじれ

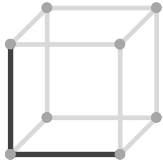
⑬  平行
 垂直
 ねじれ

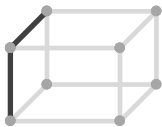
④  平行
 垂直
 ねじれ

⑨  平行
 垂直
 ねじれ

⑭  平行
 垂直
 ねじれ

⑤  平行
 垂直
 ねじれ

⑩  平行
 垂直
 ねじれ

⑮  平行
 垂直
 ねじれ