

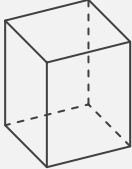
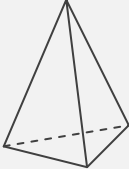
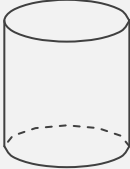

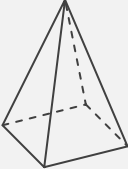
錐と柱

____年 ____組 名前

/30

■ さまざまな錐や柱の特徴についてまとめた次の表に、適切な語句や数字を入れて完成させなさい。

錐や柱の特徴のまとめ

| 錐や柱 |  |  |  |  |  |
|------|---|---|---|---|---|
| 名称 | | | | | |
| 底面の形 | | | | | |
| 側面の形 | | | | | |
| 側面の数 | 面 | 面 | 面 | 面 | 面 |
| 底面の数 | 面 | 面 | 面 | 面 | 面 |
| 頂点の数 | 個 | 個 | 個 | 個 | 個 |

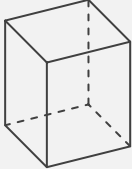
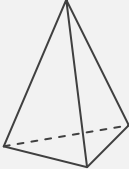
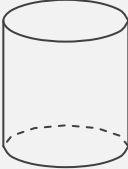

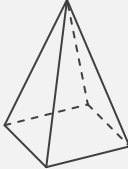
錐と柱

年 組 名前

/30

■ さまざまな錐や柱の特徴についてまとめた次の表に、適切な語句や数字を入れて完成させなさい。

錐や柱の特徴のまとめ

| | | | | | |
|------|---|---|---|---|---|
| 錐や柱 |  |  |  |  |  |
| 名称 | 四角柱 | 三角錐 | 円柱 | 円錐 | 四角錐 |
| 底面の形 | 四角形(長方形) | 三角形 | 円 | 円 | 四角形(長方形) |
| 側面の形 | 四角形(長方形) | 三角形 | 四角形(長方形) | おうぎ形 | 三角形 |
| 側面の数 | 4 面 | 3 面 | 1 面 | 1 面 | 4 面 |
| 底面の数 | 2 面 | 1 面 | 2 面 | 1 面 | 1 面 |
| 頂点の数 | 8 個 | 4 個 | 0 個 | 1 個 | 5 個 |