

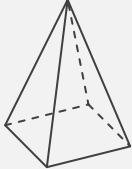
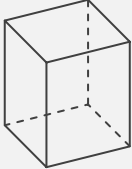
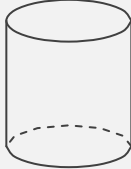

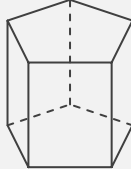
# 錐と柱

\_\_\_\_年 \_\_\_\_組 名前

/30

■ さまざまな錐や柱の特徴についてまとめた次の表に、適切な語句や数字を入れて完成させなさい。

錐や柱の特徴のまとめ

| 錐や柱  |  |  |  |  |  |
|------|---|---|---|---|---|
| 名称   |   |   |   |   |   |
| 側面の形 |   |   |   |   |   |
| 底面の形 |   |   |   |   |   |
| 底面の数 | 面   | 面   | 面   | 面   | 面   |
| 頂点の数 | 個   | 個   | 個   | 個   | 個   |
| 側面の数 | 面   | 面   | 面   | 面   | 面   |

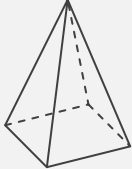
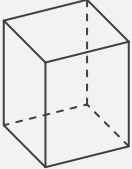
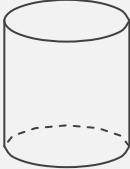

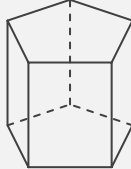
# 錐と柱

年 組 名前

/30

■ さまざまな錐や柱の特徴についてまとめた次の表に、適切な語句や数字を入れて完成させなさい。

錐や柱の特徴のまとめ

|      |   |   |   |   |   |
|------|---|---|---|---|---|
| 錐や柱  |  |  |  |  |  |
| 名称   | 四角錐   | 四角柱   | 円柱  | 円錐  | 五角柱   |
| 側面の形 | 三角形   | 四角形(長方形)  | 四角形(長方形)  | おうぎ形  | 四角形(長方形)  |
| 底面の形 | 四角形(長方形)  | 四角形(長方形)  | 円   | 円   | 五角形   |
| 底面の数 | 1 面   | 2 面   | 2 面   | 1 面   | 2 面   |
| 頂点の数 | 5 個   | 8 個   | 0 個   | 1 個   | 10 個  |
| 側面の数 | 4 面   | 4 面   | 1 面   | 1 面   | 5 面   |