

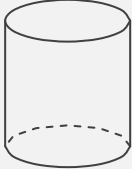
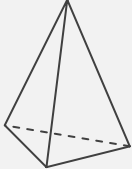
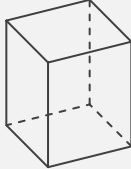
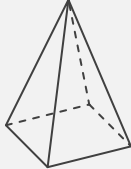
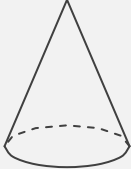
錐と柱

____年 ____組 名前

/30

■ さまざまな錐や柱の特徴についてまとめた次の表に、適切な語句や数字を入れて完成させなさい。

錐や柱の特徴のまとめ

錐や柱					
名称					
側面の形					
底面の形					
頂点の数	個	個	個	個	個
底面の数	面	面	面	面	面
側面の数	面	面	面	面	面

錐と柱

年 組 名前

/30

■ さまざまな錐や柱の特徴についてまとめた次の表に、適切な語句や数字を入れて完成させなさい。

錐や柱の特徴のまとめ

錐や柱					
名称	円柱	三角錐	四角柱	四角錐	円錐
側面の形	四角形(長方形)	三角形	四角形(長方形)	三角形	おうぎ形
底面の形	円	三角形	四角形(長方形)	四角形(長方形)	円
頂点の数	0 個	4 個	8 個	5 個	1 個
底面の数	2 面	1 面	2 面	1 面	1 面
側面の数	1 面	3 面	4 面	4 面	1 面