

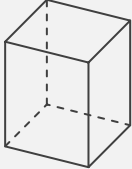
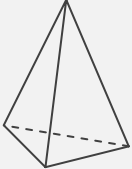
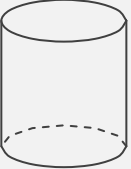
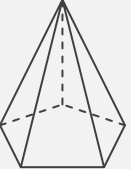
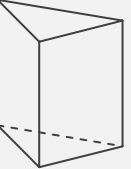
錐と柱

____年 ____組 名前

/30

■ さまざまな錐や柱の特徴についてまとめた次の表に、適切な語句や数字を入れて完成させなさい。

錐や柱の特徴のまとめ

錐や柱					
名称					
側面の形					
底面の形					
頂点の数	個	個	個	個	個
底面の数	面	面	面	面	面
側面の数	面	面	面	面	面

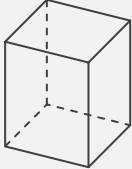
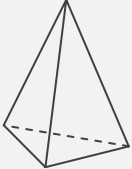
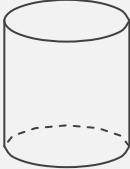
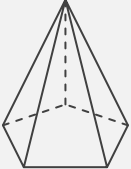
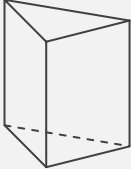
錐と柱

年 組 名前

/30

■ さまざまな錐や柱の特徴についてまとめた次の表に、適切な語句や数字を入れて完成させなさい。

錐や柱の特徴のまとめ

錐や柱					
名称	四角柱	三角錐	円柱	五角錐	三角柱
側面の形	四角形(長方形)	三角形	四角形(長方形)	三角形	四角形(長方形)
底面の形	四角形(長方形)	三角形	円	五角形	三角形
頂点の数	8 個	4 個	0 個	6 個	6 個
底面の数	2 面	1 面	2 面	1 面	2 面
側面の数	4 面	3 面	1 面	5 面	3 面