

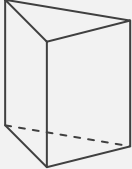
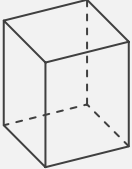
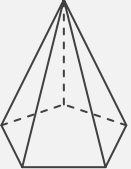
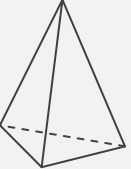

錐と柱

____年 ____組 名前

/30

■ さまざまな錐や柱の特徴についてまとめた次の表に、適切な語句や数字を入れて完成させなさい。

錐や柱の特徴のまとめ

錐や柱					
名称					
底面の形					
側面の形					
底面の数	面	面	面	面	面
側面の数	面	面	面	面	面
頂点の数	個	個	個	個	個

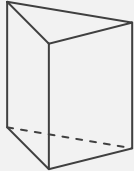
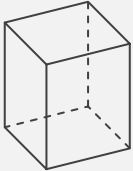
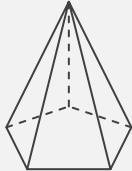
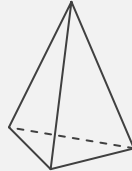

錐と柱

年 組 名前

/30

■ さまざまな錐や柱の特徴についてまとめた次の表に、適切な語句や数字を入れて完成させなさい。

錐や柱の特徴のまとめ

錐や柱					
名称	三角柱	四角柱	五角錐	三角錐	円錐
底面の形	三角形	四角形(長方形)	五角形	三角形	円
側面の形	四角形(長方形)	四角形(長方形)	三角形	三角形	おうぎ形
底面の数	2 面	2 面	1 面	1 面	1 面
側面の数	3 面	4 面	5 面	3 面	1 面
頂点の数	6 個	8 個	6 個	4 個	1 個