

# 角柱

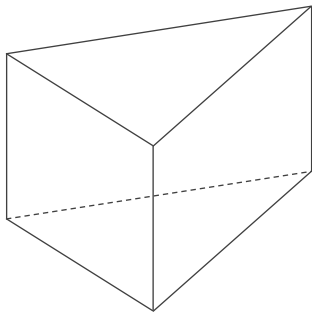
年 組 名前

/ 20

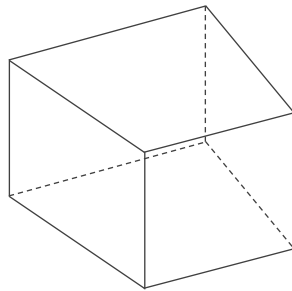
■ いろいろな角柱の底面の数、側面の数、頂点の数、辺の数を答えて表を完成させましょう。

|     | 底面の数 | 頂点の数 | 側面の数 | 辺の数 |
|-----|------|------|------|-----|
| 八角柱 |      |      |      |     |
| 六角柱 |      |      |      |     |
| 四角柱 |      |      |      |     |
| 三角柱 |      |      |      |     |
| 五角柱 |      |      |      |     |

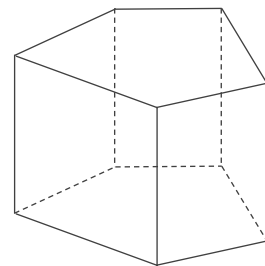
----- 折りまげてかくす -----



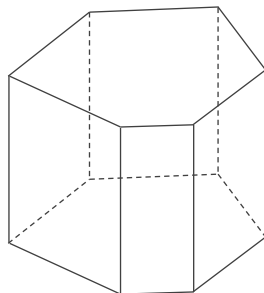
三角柱



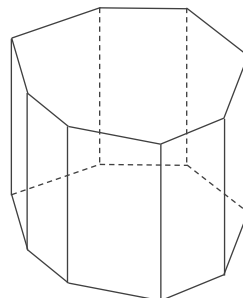
四角柱



五角柱



六角柱



八角柱

# 角柱

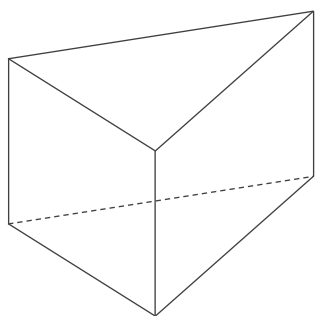
年 組 名前

/ 20

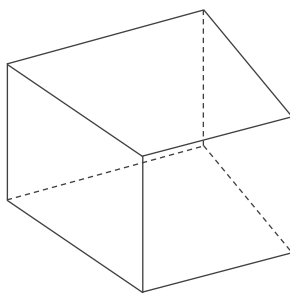
■ いろいろな角柱の底面の数、側面の数、頂点の数、辺の数を答えて表を完成させましょう。

|     | 底面の数 | 頂点の数 | 側面の数 | 辺の数 |
|-----|------|------|------|-----|
| 八角柱 | 2    | 16   | 8    | 24  |
| 六角柱 | 2    | 12   | 6    | 18  |
| 四角柱 | 2    | 8    | 4    | 12  |
| 三角柱 | 2    | 6    | 3    | 9   |
| 五角柱 | 2    | 10   | 5    | 15  |

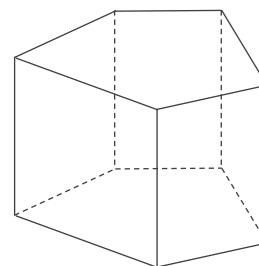
----- 折りまげてかくす -----



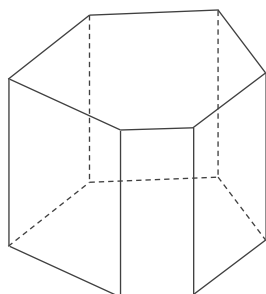
三角柱



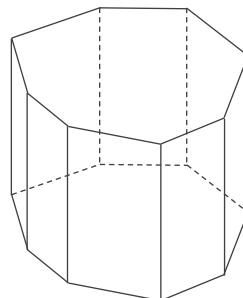
四角柱



五角柱



六角柱



八角柱