

# 角柱

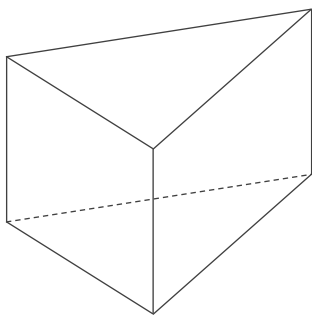
年 組 名前

/ 20

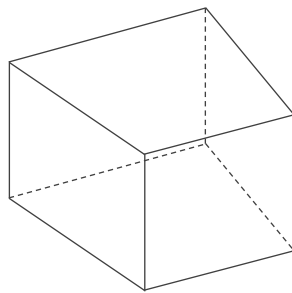
■ いろいろな角柱の底面の数、側面の数、頂点の数、辺の数を答えて表を完成させましょう。

	頂点の数	辺の数	底面の数	側面の数
八角柱				
四角柱				
五角柱				
三角柱				
六角柱				

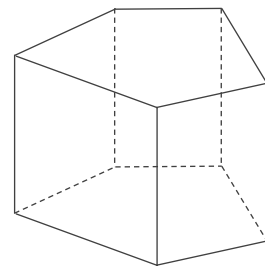
----- 折りまげてかくす -----



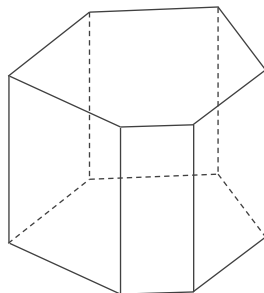
三角柱



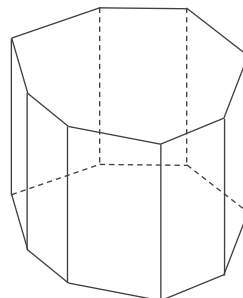
四角柱



五角柱



六角柱



八角柱

# 角柱

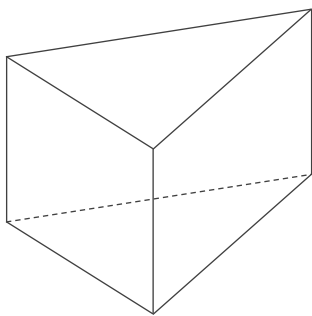
年 組 名前

/ 20

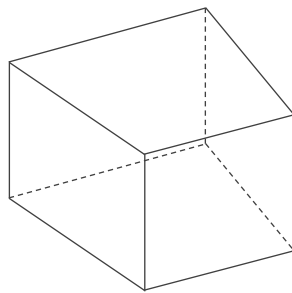
■ いろいろな角柱の底面の数、側面の数、頂点の数、辺の数を答えて表を完成させましょう。

	頂点の数	辺の数	底面の数	側面の数
八角柱	16	24	2	8
四角柱	8	12	2	4
五角柱	10	15	2	5
三角柱	6	9	2	3
六角柱	12	18	2	6

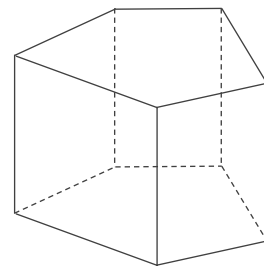
----- 折りまげてかくす -----



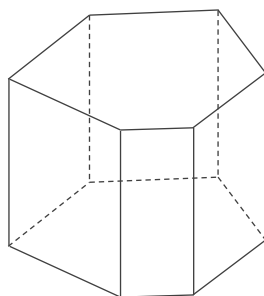
三角柱



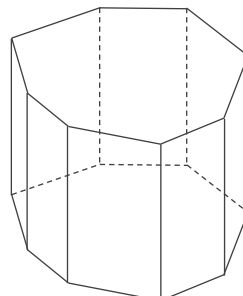
四角柱



五角柱



六角柱



八角柱