

角柱

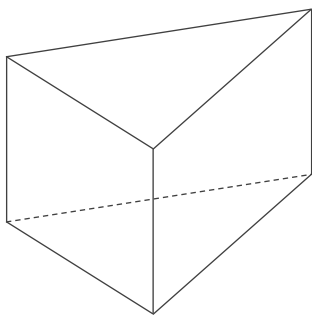
年 組 名前

/ 20

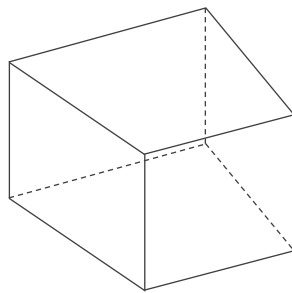
■ いろいろな角柱の底面の数、側面の数、頂点の数、辺の数を答えて表を完成させましょう。

	側面の数	底面の数	辺の数	頂点の数
三角柱				
八角柱				
五角柱				
六角柱				
四角柱				

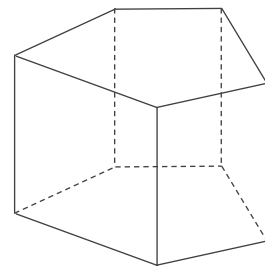
----- 折りまげてかくす -----



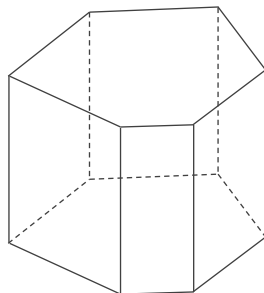
三角柱



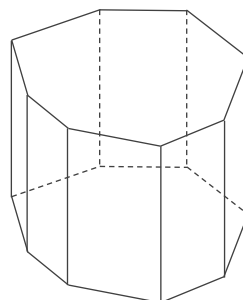
四角柱



五角柱



六角柱



八角柱

角柱

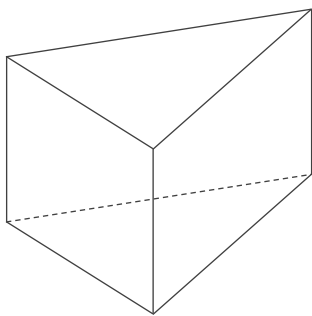
年 組 名前

/ 20

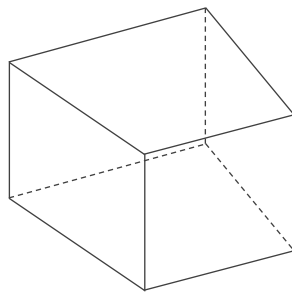
■ いろいろな角柱の底面の数、側面の数、頂点の数、辺の数を答えて表を完成させましょう。

	側面の数	底面の数	辺の数	頂点の数
三角柱	3	2	9	6
八角柱	8	2	24	16
五角柱	5	2	15	10
六角柱	6	2	18	12
四角柱	4	2	12	8

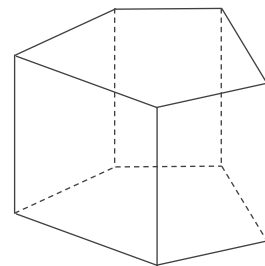
----- 折りまげてかくす -----



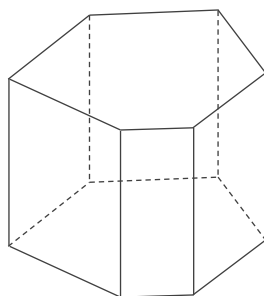
三角柱



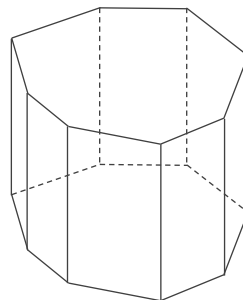
四角柱



五角柱



六角柱



八角柱