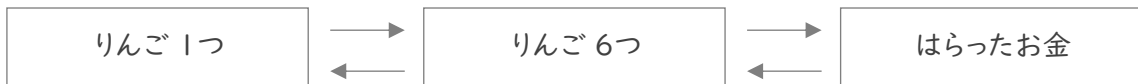


■ 次の各問いに答えましょう。

① りんごを 6つ 買って、4円 のふくろに入れてもらい、856円 はらいました。

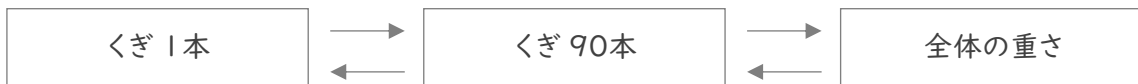
りんご1つのねだんは何円ですか。



(式)

② 同じ重さのくぎ 90本 を、50g のかごにいれて、その全体の重さをはかると 590g でした。

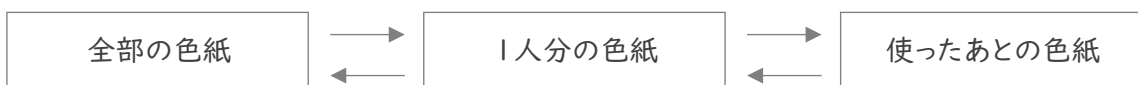
くぎ1本の重さは何gですか。



(式)

③ りおさんたちは、色紙を 4人 で同じ数ずつに分けたあと、りおさんは 7まい を使いました。

りおさんの残りの色紙が 9まい のとき、分ける前の色紙は全部で何まいでしたか。

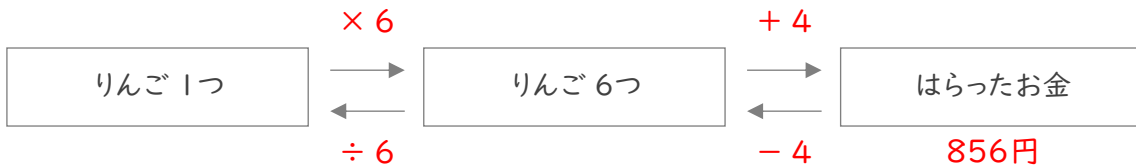


(式)

■ 次の各問いに答えましょう。

① りんごを 6つ 買って、4円 のふくろに入れてもらい、856円 はらいました。

りんご1つのねだんは何円ですか。



(式)

$$856 - 4 = 852$$

$$852 \div 6 = 142$$

142円

② 同じ重さのくぎ 90本 を、50g のかごにいれて、その全体の重さをはかると 590g でした。

くぎ1本の重さは何gですか。



(式)

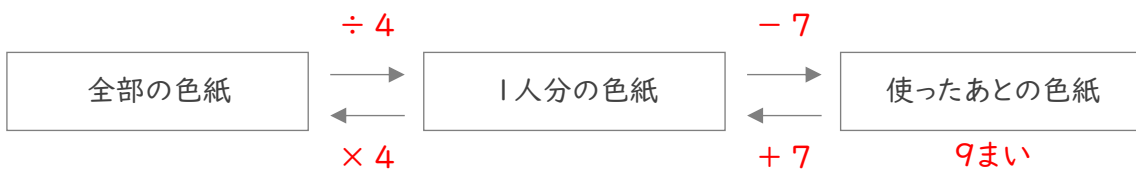
$$590 - 50 = 540$$

$$540 \div 90 = 6$$

6g

③ りおさんたちは、色紙を 4人 で同じ数ずつに分けたあと、りおさんは 7まい を使いました。

りおさんの残りの色紙が 9まい のとき、分ける前の色紙は全部で何まいでしたか。



(式)

$$9 + 7 = 16$$

$$16 \times 4 = 64$$

64まい