

■ 次の各問いに答えましょう。

① けしごむを 6つ 買って、20円 安くしてもらって、400円 はらいました。

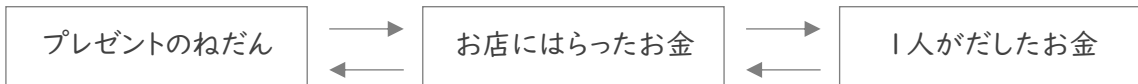
けしごむ1つのねだんは何円ですか。



(式)

② はるさんたち 3人 はプレゼントを買って180円 のラッピングをしてもらい、お金を出しあいました。

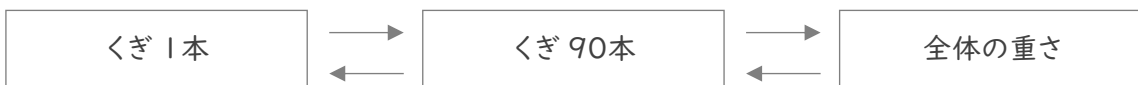
3人 が出した金額が同じで、はるさんは370円を出していたとき、プレゼントは何円でしたか。



(式)

③ 同じ重さのくぎ 90本 を、80g のかごにいれて、その全体の重さをはかると 530g でした。

くぎ1本の重さは何gですか。



(式)

■ 次の各問いに答えましょう。

① けしごむを 6つ 買って、20円 安くしてもらって、400円 はらいました。

けしごむ1つのねだんは何円ですか。



(式)

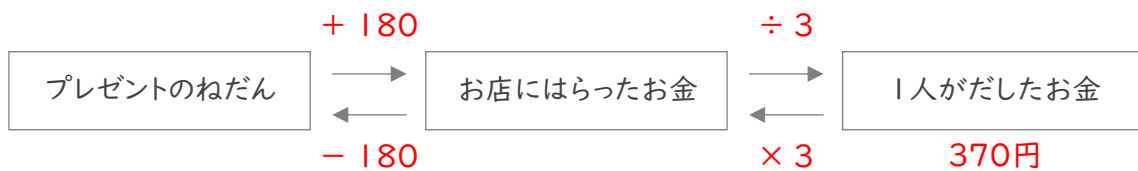
$$400 + 20 = 420$$

$$420 \div 6 = 70$$

70円

② はるさんたち 3人 はプレゼントを買って180円 のラッピングをしてもらい、お金を出しあいました。

3人 が出した金額が同じで、はるさんは370円を出していたとき、プレゼントは何円でしたか。



(式)

$$370 \times 3 = 1110$$

$$1110 - 180 = 930$$

930円

③ 同じ重さのくぎ 90本 を、80g のかごにいれて、その全体の重さをはかると 530g でした。

くぎ1本の重さは何gですか。



(式)

$$530 - 80 = 450$$

$$450 \div 90 = 5$$

5g