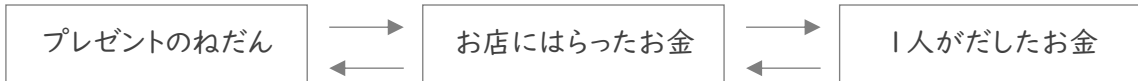


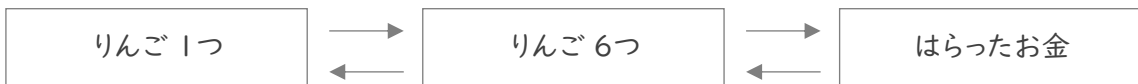
■ 次の各問いに答えましょう。

- ① ひなのさんたち 3人 はプレゼントを買って140円 のラッピングをしてもらい、お金を出しあいました。3人 が出した金額が同じで、ひなのさんは360円を出していたとき、プレゼントは何円でしたか。



(式)

- ② りんごを 6つ 買って、4円 のふくろに入れてもらい、874円 はらいました。りんご1つのねだんは何円ですか。



(式)

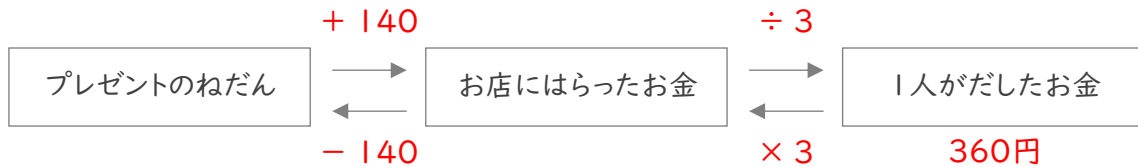
- ③ 同じ重さのくぎ 70本 を、50g のかごにいれて、その全体の重さをはかると 260g でした。くぎ1本の重さは何gですか。



(式)

■ 次の各問いに答えましょう。

- ① ひなのさんたち 3人 はプレゼントを買って140円 のラッピングをしてもらい、お金を出しあいました。3人 が出した金額が同じで、ひなのさんは360円を出していたとき、プレゼントは何円でしたか。



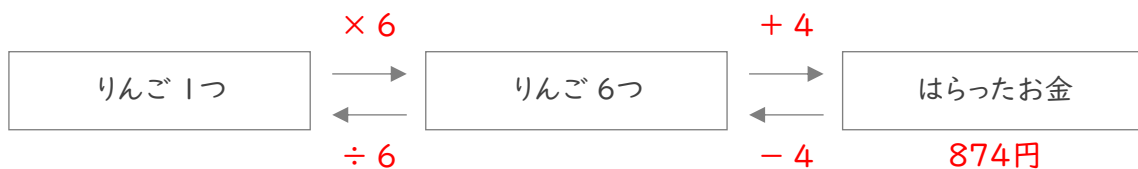
(式)

$$360 \times 3 = 1080$$

$$1080 - 140 = 940$$

940円

- ② りんごを 6つ 買って、4円 のふくろに入れてもらい、874円 はらいました。りんご1つのねだんは何円ですか。



(式)

$$874 - 4 = 870$$

$$870 \div 6 = 145$$

145円

- ③ 同じ重さのくぎ 70本 を、50g のかごにいれて、その全体の重さをはかると 260g でした。くぎ1本の重さは何gですか。



(式)

$$260 - 50 = 210$$

$$210 \div 70 = 3$$

3g